


Series : XYW1Z



SET ~ 2



रोल नं.

Roll No.

--	--	--	--	--	--	--	--

कोड नं.
Code No. **55/1/2**

परीक्षार्थी प्रश्न-पत्र कोड को उत्तर-पुस्तिका के मुख-पृष्ठ पर अवश्य लिखें।

Candidates must write the Q.P. Code on the title page of the answer-book.



भौतिक विज्ञान (सैद्धान्तिक)



PHYSICS (Theory)

निर्धारित समय : 3 घण्टे

Time allowed : 3 hours

अधिकतम अंक : 70

Maximum Marks : 70

नोट / NOTE

~

(I) कृपया जाँच कर लें कि इस प्रश्न-पत्र में मुद्रित पृष्ठ 23 हैं।

Please check that this question paper contains 23 printed pages.

(II) कृपया जाँच कर लें कि इस प्रश्न-पत्र में 33 प्रश्न हैं।

Please check that this question paper contains 33 questions.

(III) प्रश्न-पत्र में दाहिने हाथ की ओर दिए गए प्रश्न-पत्र कोड को परीक्षार्थी उत्तर-पुस्तिका के मुख-पृष्ठ पर लिखें।

Q.P. Code given on the right hand side of the question paper should be written on the title page of the answer-book by the candidate.

(IV) कृपया प्रश्न का उत्तर लिखना शुरू करने से पहले, उत्तर-पुस्तिका में यथा स्थान पर प्रश्न का क्रमांक अवश्य लिखें।

Please write down the serial number of the question in the answer-book at the given place before attempting it.

(V) इस प्रश्न-पत्र को पढ़ने के लिए 15 मिनट का समय दिया गया है। प्रश्न-पत्र का वितरण पूर्वाह्न में 10.15 बजे किया जाएगा। 10.15 बजे से 10.30 बजे तक परीक्षार्थी केवल प्रश्न-पत्र को पढ़ेंगे और इस अवधि के दौरान वे उत्तर-पुस्तिका पर कोई उत्तर नहीं लिखेंगे।

15 minute time has been allotted to read this question paper. The question paper will be distributed at 10.15 a.m. From 10.15 a.m. to 10.30 a.m., the candidates will read the question paper only and will not write any answer on the answer-book during this period.



~

सामान्य निर्देश :

निम्नलिखित निर्देशों को ध्यानपूर्वक पढ़िए और उनका पालन कीजिए :

- (i) इस प्रश्न-पत्र में 33 प्रश्न हैं। सभी प्रश्न अनिवार्य हैं।
- (ii) यह प्रश्न-पत्र पाँच खण्डों में विभाजित है – खण्ड-क, ख, ग, घ तथा ङ।
- (iii) खण्ड – क में प्रश्न संख्या 1 से 16 तक बहुविकल्पीय प्रकार के प्रश्न हैं। प्रत्येक प्रश्न 1 अंक का है।
- (iv) खण्ड – ख में प्रश्न संख्या 17 से 21 तक अति लघु-उत्तरीय प्रकार के प्रश्न हैं। प्रत्येक प्रश्न 2 अंकों का है।
- (v) खण्ड – ग में प्रश्न संख्या 22 से 28 तक लघु-उत्तरीय प्रकार के प्रश्न हैं। प्रत्येक प्रश्न 3 अंकों का है।
- (vi) खण्ड – घ में प्रश्न संख्या 29 तथा 30 केस अध्ययन-आधारित प्रश्न हैं। प्रत्येक प्रश्न 4 अंकों का है।
- (vii) खण्ड – ङ में प्रश्न संख्या 31 से 33 तक दीर्घ-उत्तरीय प्रकार के प्रश्न हैं। प्रत्येक प्रश्न 5 अंकों का है।
- (viii) प्रश्न-पत्र में समग्र विकल्प नहीं दिया गया है। यद्यपि, खण्ड-क के अतिरिक्त अन्य खण्डों के कुछ प्रश्नों में आंतरिक विकल्प दिया गया है।
- (ix) ध्यान दें कि दृष्टिबाधित परीक्षार्थियों के लिए एक अलग प्रश्न-पत्र है।
- (x) कैल्कुलेटर का उपयोग वर्जित है।

जहाँ आवश्यक हो, आप निम्नलिखित भौतिक नियतांकों के मानों का उपयोग कर सकते हैं :

$$c = 3 \times 10^8 \text{ m/s}$$

$$h = 6.63 \times 10^{-34} \text{ Js}$$

$$e = 1.6 \times 10^{-19} \text{ C}$$

$$\mu_0 = 4\pi \times 10^{-7} \text{ T m A}^{-1}$$

$$\epsilon_0 = 8.854 \times 10^{-12} \text{ C}^2 \text{ N}^{-1} \text{ m}^{-2}$$

$$\frac{1}{4\pi\epsilon_0} = 9 \times 10^9 \text{ N m}^2 \text{ C}^{-2}$$

$$\text{इलेक्ट्रॉन का द्रव्यमान (m}_e\text{)} = 9.1 \times 10^{-31} \text{ kg.}$$

$$\text{न्यूट्रॉन का द्रव्यमान} = 1.675 \times 10^{-27} \text{ kg.}$$

$$\text{प्रोटॉन का द्रव्यमान} = 1.673 \times 10^{-27} \text{ kg.}$$

$$\text{आवोगाद्रो संख्या} = 6.023 \times 10^{23} \text{ प्रति ग्राम मोल}$$

$$\text{बोल्ट्ज़मान नियतांक} = 1.38 \times 10^{-23} \text{ JK}^{-1}$$



~

General Instructions :

Read the following instructions very carefully and follow them :

- (i) *This question paper contains 33 questions. All questions are compulsory.*
- (ii) *Question paper is divided into FIVE sections – Sections A, B, C, D and E.*
- (iii) *In Section A : Question numbers 1 to 16 are Multiple Choice (MCQ) type questions. Each question carries 1 mark.*
- (iv) *In Section B : Question numbers 17 to 21 are Very Short Answer (VSA) type questions. Each question carries 2 marks.*
- (v) *In Section C : Question numbers 22 to 28 are Short Answer (SA) type questions. Each question carries 3 marks.*
- (vi) *In Section D : Question numbers 29 & 30 are Case Study-Based questions. Each question carries 4 marks.*
- (vii) *In Section E : Question numbers 31 to 33 are Long Answer (LA) type questions. Each question carries 5 marks.*
- (viii) *There is no overall choice given in the question paper. However, an internal choice has been provided in few questions in all the Sections except Section A.*
- (ix) *Kindly note that there is a separate question paper for Visually Impaired candidates.*
- (x) *Use of calculators is NOT allowed.*

You may use the following values of physical constants wherever necessary :

$$c = 3 \times 10^8 \text{ m/s}$$

$$h = 6.63 \times 10^{-34} \text{ Js}$$

$$e = 1.6 \times 10^{-19} \text{ C}$$

$$\mu_0 = 4\pi \times 10^{-7} \text{ T m A}^{-1}$$

$$\epsilon_0 = 8.854 \times 10^{-12} \text{ C}^2 \text{ N}^{-1} \text{ m}^{-2}$$

$$\frac{1}{4\pi\epsilon_0} = 9 \times 10^9 \text{ N m}^2 \text{ C}^{-2}$$

$$\text{Mass of electron (m}_e\text{)} = 9.1 \times 10^{-31} \text{ kg.}$$

$$\text{Mass of neutron} = 1.675 \times 10^{-27} \text{ kg.}$$

$$\text{Mass of proton} = 1.673 \times 10^{-27} \text{ kg.}$$

$$\text{Avogadro's number} = 6.023 \times 10^{23} \text{ per gram mole}$$

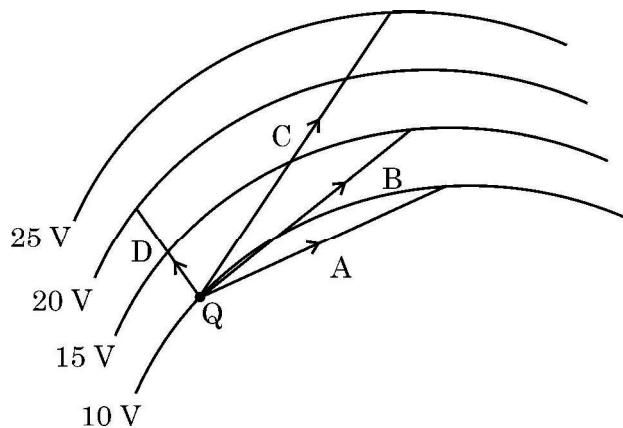
$$\text{Boltzmann's constant} = 1.38 \times 10^{-23} \text{ JK}^{-1}$$



खण्ड – क

1. दिए गए आरेख में वक्र रेखाएँ समविभव पृष्ठों को निरूपित कर रही हैं। किसी आवेश Q को विभिन्न पथों A, B, C और D पर गति कराई गई है। किस पथ के अनुदिश आवेश पर अधिकतम कार्य किया गया है ?

1



- (A) A (B) B
(C) C (D) D
2. लम्बाई L और त्रिज्या r के किसी तार का प्रतिरोध R है। समान पदार्थ के निम्नलिखित में से किस तार का प्रतिरोध $\frac{R}{2}$ होगा ?
- (A) समान त्रिज्या का लम्बाई में दो गुना तार (B) समान त्रिज्या का लम्बाई में आधा तार
(C) समान लम्बाई का दो गुनी त्रिज्या का तार (D) समान लम्बाई का आधी त्रिज्या का तार
3. किसी तार का 1 cm लम्बा कोई खण्ड x -अक्ष के अनुदिश रखा है तथा $+x$ दिशा के अनुदिश इस तार से धारा 0.5 A प्रवाहित हो रही है। इस प्रदेश में किसी चुम्बकीय क्षेत्र $\vec{B} = (0.4 \text{ mT}) \hat{j} + (0.6 \text{ mT}) \hat{k}$ को अनुप्रयुक्त किया गया है। इस तार के खण्ड पर कार्यरत बल है –
- (A) $(2\hat{j} + 3\hat{k}) \text{ mN}$ (B) $(-3\hat{j} + 2\hat{k}) \mu\text{N}$
(C) $(6\hat{j} + 4\hat{k}) \text{ mN}$ (D) $(-4\hat{j} + 6\hat{k}) \mu\text{N}$
4. व्यास 15 mm तथा 300 फेरों की किसी कुण्डली को 30 mT के चुम्बकीय क्षेत्र में इस प्रकार रखा गया है कि कुण्डली का तल चुम्बकीय क्षेत्र की दिशा के लम्बवत हो। क्षेत्र की तीव्रता को एकसमान रूप से घटाते हुए 20 ms में शून्य कर दिया गया और फिर से एकसमान रूप से 40 ms में 30 mT तक बढ़ाया गया। यदि दो समय अन्तरालों में प्रेरित emf क्रमशः e_1 और e_2 हैं तो e_1/e_2 का मान है –

1

- (A) $\frac{1}{2}$ (B) 1
(C) 2 (D) 4

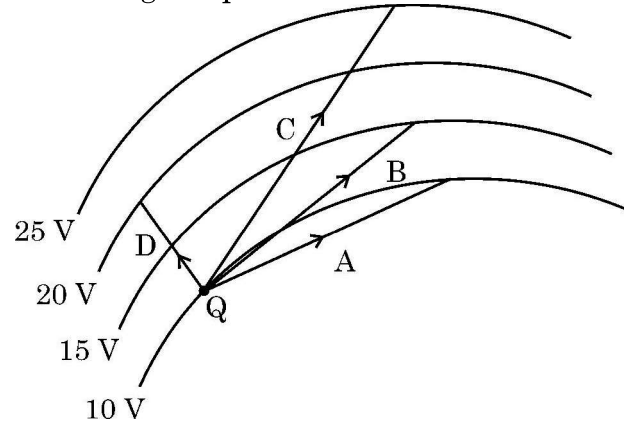


~

SECTION – A

1. In the figure curved lines represent equipotential surfaces. A charge Q is moved along different paths A, B, C and D. The work done on the charge will be maximum along the path

1



- (A) A (B) B
(C) C (D) D
2. The resistance of a wire of length L and radius r is R . Which one of the following would provide a wire of the same material of resistance $\frac{R}{2}$?
- (A) Using a wire of same radius and twice the length
(B) Using a wire of same radius and half length
(C) Using a wire of same length and twice the radius
(D) Using a wire of same length and half the radius
3. A 1 cm segment of a wire lying along x-axis carries current of 0.5 A along +x direction. A magnetic field $\vec{B} = (0.4 \text{ mT}) \hat{j} + (0.6 \text{ mT}) \hat{k}$ is switched on, in the region. The force acting on the segment is
- (A) $(2\hat{j} + 3\hat{k}) \text{ mN}$ (B) $(-3\hat{j} + 2\hat{k}) \mu\text{N}$
(C) $(6\hat{j} + 4\hat{k}) \text{ mN}$ (D) $(-4\hat{j} + 6\hat{k}) \mu\text{N}$
4. A circular coil of diameter 15 mm having 300 turns is placed in a magnetic field of 30 mT such that the plane of the coil is perpendicular to the direction of magnetic field. The magnetic field is reduced uniformly to zero in 20 ms and again increased uniformly to 30 mT in 40 ms. If the emfs induced in the two time intervals are e_1 and e_2 respectively, then the value of e_1/e_2 is

1

- (A) $\frac{1}{2}$
(C) 2

- (B) 1
(D) 4



5. आपको 0.016 H प्रेरकत्व की 0.81 m लम्बी और 0.02 m त्रिज्या की वायु से भरी परिनालिका की अभिकल्पना करनी है। इस परिनालिका में फेरों की संख्या होनी चाहिए

- (A) 2592 (B) 2866
(C) 2976 (D) 3140

1

6. किसी परिपथ पर वोल्टता $v = v_0 \sin \omega t$ अनुप्रयुक्त करने पर उस परिपथ में धारा $i = i_0 \sin (\omega t + \phi)$ प्रवाहित होती है। एक चक्र में इस परिपथ में औसत शक्ति खपत है –

- (A) शून्य (B) $i_0 v_0 \cos \phi$
(C) $\frac{i_0 v_0}{2}$ (D) $\frac{i_0 v_0}{2} \cos \phi$

1

7. विद्युत-चुम्बकीय स्पेक्ट्रम में सूक्ष्म तरंगों से X-किरणों तक (सभी निर्वात में) होने वाले अभिलाक्षणिक परिवर्तन का निम्नलिखित में से कौन सा सही निरूपण करता है ?

- | चाल | तरंगदैर्घ्य | आवृत्ति |
|-----------------------|-------------|-------------------|
| (A) कोई परिवर्तन नहीं | घट जाती है | कोई परिवर्तन नहीं |
| (B) कोई परिवर्तन नहीं | घट जाती है | वृद्धि होती है |
| (C) वृद्धि होती है | बढ़ जाती है | घट जाती है |
| (D) कोई परिवर्तन नहीं | बढ़ जाती है | कोई परिवर्तन नहीं |

1

8. दो माध्यमों '1' और '2' में प्रकाश की चाल क्रमशः v_1 और v_2 ($> v_1$) है। प्रकाश की किसी किरण को माध्यमों के अन्तरापृष्ठ पर पूर्ण आन्तरिक परावर्तन के लिए आपतित होना चाहिए

- (A) माध्यम '1' से कोण $\sin^{-1} \left(\frac{v_1}{v_2} \right)$ से अधिक पर
(B) माध्यम '1' से कोण $\cos^{-1} \left(\frac{v_1}{v_2} \right)$ से अधिक पर
(C) माध्यम '2' से कोण $\sin^{-1} \left(\frac{v_1}{v_2} \right)$ से अधिक पर
(D) माध्यम '2' से कोण $\cos^{-1} \left(\frac{v_1}{v_2} \right)$ से अधिक पर

1

9. कोई स्रोत आवृत्ति 5.0×10^{14} Hz और उत्सर्जित क्षमता 3.31 mW का एकवर्णी प्रकाश उत्पन्न करता है। इस स्रोत द्वारा औसतन प्रति सेकण्ड उत्सर्जित होने वाले फोटॉनों की संख्या है

- (A) 10^{16} (B) 10^{24}
(C) 10^{10} (D) 10^{20}

1



~

5. You are required to design an air-filled solenoid of inductance 0.016 H having a length 0.81 m and radius 0.02 m. The number of turns in the solenoid should be

1

- (A) 2592 (B) 2866
(C) 2976 (D) 3140

6. A voltage $v = v_0 \sin \omega t$ applied to a circuit drives a current $i = i_0 \sin (\omega t + \phi)$ in the circuit. The average power consumed in the circuit over a cycle is

1

- (A) Zero (B) $i_0 v_0 \cos \phi$
(C) $\frac{i_0 v_0}{2}$ (D) $\frac{i_0 v_0}{2} \cos \phi$

7. Which one of the following correctly represents the change in wave characteristics (all in vacuum) from microwaves to X-rays in electromagnetic spectrum ?

1

- | | Speed | Wavelength | Frequency |
|-----|--------------|-------------------|------------------|
| (A) | Remains same | Decreases | Remains same |
| (B) | Remains same | Decreases | Increases |
| (C) | Increases | Increases | Decreases |
| (D) | Remains same | Increases | Remains same |

8. The speed of light in two media '1' and '2' are v_1 and v_2 ($> v_1$) respectively. For a ray of light to undergo total internal reflection at the interface of these two media, it must be incident from

1

- (A) medium '1' and at an angle greater than $\sin^{-1} \left(\frac{v_1}{v_2} \right)$
(B) medium '1' and at an angle greater than $\cos^{-1} \left(\frac{v_1}{v_2} \right)$
(C) medium '2' and at an angle greater than $\sin^{-1} \left(\frac{v_1}{v_2} \right)$
(D) medium '2' and at an angle greater than $\cos^{-1} \left(\frac{v_1}{v_2} \right)$

9. A source produces monochromatic light of frequency 5.0×10^{14} Hz and the power emitted is 3.31 mW. The number of photons emitted per second by the source, on an average is

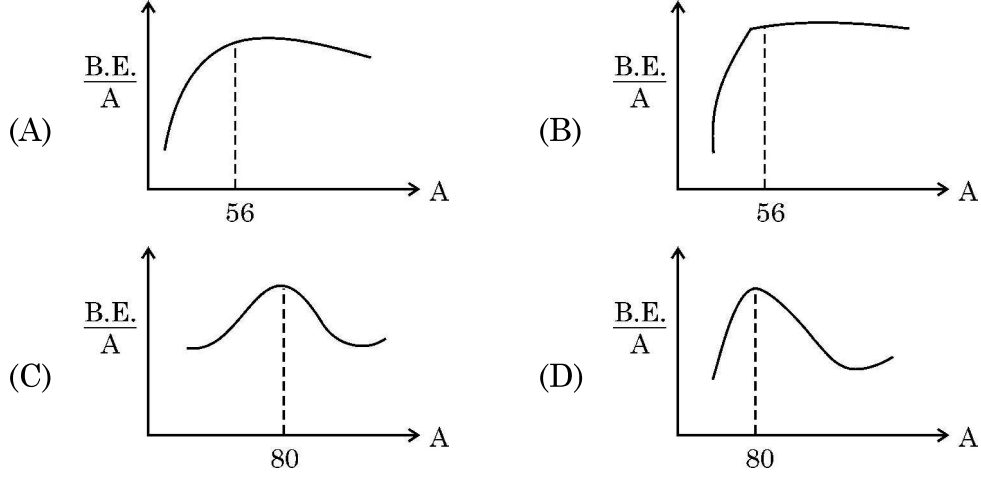
1

- (A) 10^{16} (B) 10^{24}
(C) 10^{10} (D) 10^{20}



10. नीचे दिया गया कौन सा आरेख द्रव्यमान संख्या के फलन के रूप में बंधन-ऊर्जा प्रति न्यूक्लियॉन के वक्र की सही आकृति का निरूपण करता है ?

1



11. जब कोई p-n संधि डायोड अग्रदिशिक बायसित होता है तो
- (A) रोधिका की ऊँचाई और हासी स्तर की चौड़ाई दोनों में वृद्धि होती है ।
- (B) रोधिका की ऊँचाई में वृद्धि तथा हासी स्तर की चौड़ाई में कमी होती है ।
- (C) रोधिका की ऊँचाई और हासी स्तर की चौड़ाई दोनों में कमी होती है ।
- (D) रोधिका की ऊँचाई में कमी तथा हासी स्तर की चौड़ाई में वृद्धि होती है ।

1

12. मान लीजिए समान चाल से गतिमान किसी इलेक्ट्रॉन, किसी प्रोटॉन और किसी ड्यूटेरॉन से संबद्ध तरंगदैर्घ्य क्रमशः λ_e , λ_p तथा λ_d हैं । तब इन तरंगदैर्घ्यों के बीच सही संबंध है –

1

- (A) $\lambda_d > \lambda_p > \lambda_e$ (B) $\lambda_e > \lambda_p > \lambda_d$
- (C) $\lambda_p > \lambda_e > \lambda_d$ (D) $\lambda_e = \lambda_p = \lambda_d$

नोट : प्रश्न संख्या 13 से 16 में दो कथन दिए गए हैं – एक को अभिकथन (A) तथा दूसरे को कारण (R) लेबल किया गया है । इन प्रश्नों के सही उत्तरों का नीचे दिए कोड (A), (B), (C) और (D) में से चयन कीजिए :

- (A) अभिकथन (A) और कारण (R) दोनों सत्य हैं और कारण (R), अभिकथन (A) की सही व्याख्या है ।
- (B) अभिकथन (A) और कारण (R) दोनों सत्य हैं, परंतु कारण (R), अभिकथन (A) की सही व्याख्या नहीं है ।
- (C) अभिकथन (A) सत्य है, परन्तु कारण (R) असत्य है ।
- (D) अभिकथन (A) और कारण (R) दोनों ही असत्य हैं ।

13. **अभिकथन (A) :** हाइड्रोजन परमाणु में किसी स्थिर कक्षा में परिक्रमण करते किसी इलेक्ट्रॉन की स्थितिज ऊर्जा धनात्मक होती है ।

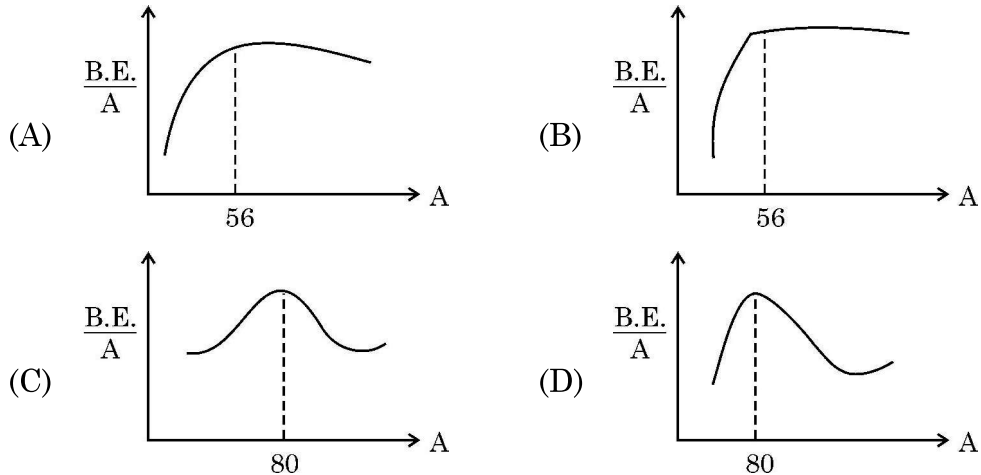
1

कारण (R) : किसी आवेशित कण की कुल ऊर्जा सदैव ही धनात्मक होती है ।



10. Which of the following figures correctly represent the shape of curve of binding energy per nucleon as a function of mass number ?

1



11. When a p-n junction diode is forward biased
- (A) the barrier height and the depletion layer width both increase.
 (B) the barrier height increases and the depletion layer width decreases.
 (C) the barrier height and the depletion layer width both decrease.
 (D) the barrier height decreases and the depletion layer width increases.
12. Let λ_e , λ_p and λ_d be the wavelengths associated with an electron, a proton and a deuteron, all moving with the same speed. Then the correct relation between them is
- (A) $\lambda_d > \lambda_p > \lambda_e$ (B) $\lambda_e > \lambda_p > \lambda_d$
 (C) $\lambda_p > \lambda_e > \lambda_d$ (D) $\lambda_e = \lambda_p = \lambda_d$

1

1

Note : Question numbers 13 to 16 are Assertion (A) and Reason (R) type questions. Two statements are given – one labelled Assertion (A) and the other labelled Reason (R). Select the correct answer from the codes (A), (B), (C) and (D) as given below.

- (A) Both Assertion (A) and Reason (R) are true and Reason (R) is the correct explanation of Assertion (A).
 (B) Both Assertion (A) and Reason (R) are true, but Reason (R) is not the correct explanation of Assertion (A).
 (C) Assertion (A) is true, but Reason (R) is false.
 (D) Assertion (A) is false and Reason (R) is also false.

13. **Assertion (A) :** The potential energy of an electron revolving in any stationary orbit in a hydrogen atom is positive.

1

Reason (R) : The total energy of a charged particle is always positive.



14. **अभिकथन (A) :** हम किसी p-प्रकार के अर्धचालक के किसी स्लैब को किसी n-प्रकार के अर्धचालक के किसी स्लैब से भौतिक रूप से जोड़कर किसी p-n संधि डायोड की रचना नहीं कर सकते हैं। 1
- कारण (R) :** किसी p-प्रकार के अर्धचालक में $\eta_e \gg \eta_h$ होता है जबकि n-प्रकार के अर्धचालक में $\eta_h \gg \eta_e$ होता है।
15. **अभिकथन (A) :** किसी गैल्वेनोमीटर में विक्षेपण उससे प्रवाहित धारा के अनुक्रमानुपाती होता है। 1
- कारण (R) :** किसी गैल्वेनोमीटर की कुण्डली एकसमान त्रिज्य चुम्बकीय क्षेत्र में निलंबित होती है।
16. **अभिकथन (A) :** जब कोई अधिक फेरों की संख्या वाली कुण्डली का परिपथ बन्द होता है, तो उसके अन्दर की ओर किसी चुम्बक को गति कराना कठिन होता है। 1
- कारण (R) :** चुम्बक की गति के कारण कुण्डली जिसका परिपथ बंद है, में प्रेरित धारा की दिशा इस प्रकार होती है कि वह चुम्बक की गति का विरोध करती है।

खण्ड – ख

17. यह दर्शाइए कि $\vec{E} = \rho \vec{j}$ ओम के नियम की ओर निर्दिष्ट करता है। उस स्थिति का उल्लेख कीजिए जिसमें किसी पदार्थ के लिए ओम का नियम वैध नहीं होता है। 2
18. (a) विवर्तन के किसी प्रयोग में झिरी को 600 nm तरंगदैर्घ्य के प्रकाश द्वारा प्रदीप्त किया गया है। विवर्तन पैटर्न का पहला निम्निष्ठ $\theta = 30^\circ$ पर पड़ता है। झिरी की चौड़ाई परिकलित कीजिए। 2
- अथवा**
- (b) यंग के किसी द्विझिरी प्रयोग में दो प्रकाश तरंगें, जिनमें प्रत्येक की तीव्रता I_0 है, पर्दे के उस बिन्दु पर व्यतिकरण करती हैं जिस पर पथान्तर $\frac{\lambda}{8}$ है। इस बिन्दु पर तीव्रता ज्ञात कीजिए।
19. वक्रता त्रिज्या R का गोलीय उत्तल पृष्ठ काँच (अपवर्तनांक 1.5) को वायु से पृथक् करता है। वायु में इस पृष्ठ से R/2 दूरी पर स्थित किसी बिन्दु स्रोत से प्रकाश इस पृष्ठ पर पड़ रहा है। बनने वाले प्रतिबिम्ब की स्थिति और प्रकृति ज्ञात कीजिए। 2
20. बोर के हाइड्रोजन परमाणु की किसी कक्षा में किसी इलेक्ट्रॉन की ऊर्जा -3.4 eV है। इसका कोणीय संवेग ज्ञात कीजिए। 2
21. किसी p-प्रकार के Si-अर्धचालक को औसतन एक अपमिश्रक परमाणु प्रति 5×10^7 सिलिकॉन परमाणु द्वारा अपमिश्रित (मादित) करके बनाया गया है। यदि नमूने में सिलिकॉन परमाणुओं का संख्या घनत्व 5×10^{28} परमाणु प्रति घनमीटर है, तो मादन (अपमिश्रण) द्वारा नमूने में प्रति घन सेन्टीमीटर निर्मित होलों (विवरों) की संख्या ज्ञात कीजिए। इस प्रकार के अपमिश्रक का एक उदाहरण भी दीजिए। 2



14. **Assertion (A)** : We cannot form a p-n junction diode by taking a slab of a p-type semiconductor and physically joining it to another slab of a n-type semiconductor. ~
1
- Reason (R)** : In a p-type semiconductor $\eta_e \gg \eta_h$ while in a n-type semiconductor $\eta_h \gg \eta_e$.
15. **Assertion (A)** : The deflection in a galvanometer is directly proportional to the current passing through it. 1
- Reason (R)** : The coil of a galvanometer is suspended in a uniform radial magnetic field.
16. **Assertion (A)** : It is difficult to move a magnet into a coil of large number of turns when the circuit of the coil is closed. 1
- Reason (R)** : The direction of induced current in a coil with its circuit closed, due to motion of a magnet, is such that it opposes the cause.

SECTION – B

17. Show that $\vec{E} = \rho \vec{j}$ leads to Ohm's law. Write a condition in which the Ohm's law is not valid for a material. 2
18. (a) In a diffraction experiment, the slit is illuminated by light of wavelength 600 nm. The first minimum of the pattern falls at $\theta = 30^\circ$. Calculate the width of the slit. 2
- OR**
- (b) In a Young's double-slit experiment, two light waves, each of intensity I_0 , interfere at a point, having a path difference $\frac{\lambda}{8}$ on the screen. Find the intensity at this point.
19. A spherical convex surface of radius of curvature R separates glass (refractive index 1.5) from air. Light from a point source placed in air at distance R/2 from the surface falls on it. Find the position and nature of the image formed. 2
20. The energy of an electron in an orbit of Bohr hydrogen atom is -3.4 eV. Find its angular momentum. 2
21. A p-type Si semiconductor is made by doping an average of one dopant atom per 5×10^7 silicon atoms. If the number density of silicon atoms in the specimen is 5×10^{28} atoms m^{-3} , find the number of holes created per cubic centimetre in the specimen due to doping. Also give one example of such dopants. 2



खण्ड – ग

22. (a) 3V और 6V की दो बैटरियाँ, जिनके आन्तरिक प्रतिरोध क्रमशः 0.2Ω और 0.4Ω हैं, पार्श्व में संयोजित हैं। यह संयोजन 4Ω के किसी प्रतिरोधक से संयोजित है। ज्ञात कीजिए :
- (i) संयोजन का तुल्य emf
(ii) संयोजन का तुल्य आन्तरिक प्रतिरोध
(iii) संयोजन से ली गयी धारा

अथवा

- (b) (i) लम्बाई l का कोई चालक emf E के किसी आदर्श सेल के सिरों से संयोजित है। सेल से संयोजित रखते हुए इस चालक को धीरे-धीरे खींचकर इसकी लम्बाई को $2l$ किया गया है। यदि प्रारम्भिक और अन्तिम प्रतिरोध के मान R और R' तथा अपवाह वेग के प्रारम्भिक और अन्तिम मान v_d और v_d' हैं, तो (i) R' और R तथा (ii) v_d' और v_d के बीच संबंध ज्ञात कीजिए।
- (ii) जब किसी चालक में इलेक्ट्रॉनों का अपवाह निम्न से उच्च विभव की ओर होता है, तब इसका क्या यह अर्थ है कि चालक के सभी 'मुक्त इलेक्ट्रॉन' एक ही दिशा में गतिमान हैं ?
23. (a) किसी धारावाही कुण्डली के चुम्बकीय आघूर्ण की परिभाषा दीजिए तथा इसका SI मात्रक लिखिए।
(b) क्षेत्रफल $1.5 \times 10^{-3} \text{ m}^2$ और 60 फेरों की कोई कुण्डली जिससे 2A धारा प्रवाहित हो रही है किसी ऊर्ध्वाधर तल में रखी है। किसी क्षैतिज चुम्बकीय क्षेत्र में रखे जाने पर यह 0.12 Nm बल-आघूर्ण का अनुभव करती है। इस चुम्बकीय क्षेत्र में कुण्डली को उसके व्यास के परितः 90° के कोण पर घूर्णित कराने पर उस पर कार्यरत बल-आघूर्ण 0.05 Nm हो जाता है। चुम्बकीय क्षेत्र का परिमाण ज्ञात कीजिए।

24. दो लम्बी समाक्ष परिनालिकाओं S_1 और S_2 पर विचार कीजिए जिनमें प्रत्येक की लम्बाई l ($\gg r_2$) तथा त्रिज्याएँ r_1 और r_2 ($r_2 > r_1$) हैं। इनमें प्रति एकांक लम्बाई फेरों की संख्या क्रमशः n_1 और n_2 है। परिनालिका S_2 के सापेक्ष परिनालिका S_1 के अन्योन्य प्रेरकत्व M_{12} के लिए व्यंजक व्युत्पन्न कीजिए। यह दर्शाइए कि $M_{21} = M_{12}$ ।

25. (a) किसी समान्तर पट्टिका संधारित्र को किसी ac स्रोत द्वारा आवेशित किया गया है। यदि दर्शाइए कि चालन धारा (I_c) और विस्थापन धारा (I_d) के योग का मान परिपथ के प्रत्येक बिन्दु पर समान होता है।
(b) क्या उपरोक्त प्रकरण (a) में किरखोफ का पहला नियम (संधि नियम) संधारित्र की प्रत्येक पट्टिका पर वैध है ? व्याख्या कीजिए।



~

SECTION – C

22. (a) Two batteries of emf's 3V & 6V and internal resistances 0.2Ω & 0.4Ω are connected in parallel. This combination is connected to a 4Ω resistor. Find :

3

- (i) the equivalent emf of the combination
- (ii) the equivalent internal resistance of the combination
- (iii) the current drawn from the combination

OR

- (b) (i) A conductor of length l is connected across an ideal cell of emf E . Keeping the cell connected, the length of the conductor is increased to $2l$ by gradually stretching it. If R and R' are initial and final values of resistance and v_d and v_d' are initial and final values of drift velocity, find the relation between (i) R' and R and (ii) v_d' and v_d .
- (ii) When electrons drift in a conductor from lower to higher potential, does it mean that all the 'free electrons' of the conductor are moving in the same direction ?
23. (a) Define magnetic moment of a current-carrying coil. Write its SI unit.
- (b) A coil of 60 turns and area $1.5 \times 10^{-3} \text{ m}^2$ carrying 2A current lies in a vertical plane. It experiences a torque of 0.12 Nm when placed in a uniform horizontal magnetic field. The torque acting on the coil changes to 0.05 Nm after the coil is rotated about its diameter by 90° , in the magnetic field. Find the magnitude of the magnetic field.
24. Consider two long co-axial solenoids S_1 and S_2 , each of length l ($\gg r_2$) and of radius r_1 and r_2 ($r_2 > r_1$). The number of turns per unit length are n_1 and n_2 respectively. Derive an expression for mutual inductance M_{12} of solenoid S_1 with respect to solenoid S_2 . Show that $M_{21} = M_{12}$.
25. (a) A parallel plate capacitor is charged by an ac source. Show that the sum of conduction current (I_c) and the displacement current (I_d) has the same value at all points of the circuit.
- (b) In case (a) above, is Kirchhoff's first rule (junction rule) valid at each plate of the capacitor ? Explain.

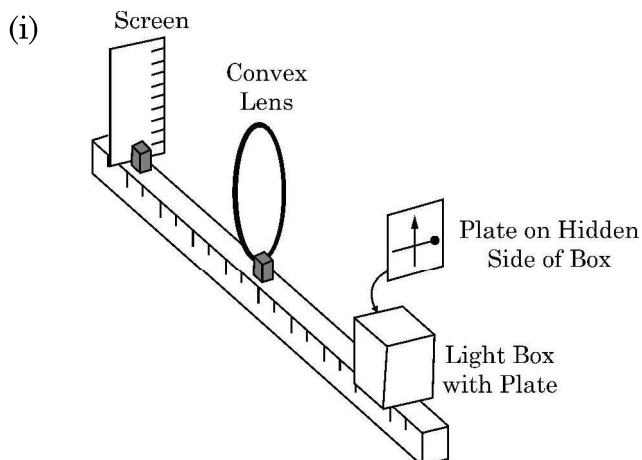


26. (a) किसी प्रकाशीय उत्सर्जक पदार्थ के लिए निरोधी विभव V_0 के फलन के रूप में आपतित विकिरणों की आवृत्ति ν का ग्राफ खींचिए। निरोधी विभव के अक्ष पर अपरोधन के मान से क्या सूचना प्राप्त की जा सकती है ? 3
- (b) गतिज ऊर्जा 80 eV के किसी इलेक्ट्रॉन का (i) संवेग तथा (ii) दे ब्रॉग्ली तरंगदैर्घ्य परिकलित कीजिए।
27. (a) किसी p-n संधि डायोड के V-I अभिलाक्षणिकों का अध्ययन करने के लिए परिपथ व्यवस्था खींचिए। 3
- (b) किसी डायोड के अभिलाक्षणिकों की आकृति दर्शाइए।
- (c) इन अभिलाक्षणिकों से जो दो सूचनाएँ आपको प्राप्त हो सकती हैं उनका उल्लेख कीजिए।
28. (a) किसी नाभिक की 'द्रव्यमान क्षति' और 'बन्धन ऊर्जा' की परिभाषा लिखिए। बंधन ऊर्जा प्रति न्यूक्लिऑन के आधार पर 'विखण्डन प्रक्रम' का वर्णन कीजिए। 3
- (b) किसी ड्यूटेरॉन में एक प्रोटॉन और एक न्यूट्रॉन है तथा उसका द्रव्यमान 2.013553 u है। इसके लिए द्रव्यमान क्षति u में तथा इसकी ऊर्जा तुल्य MeV में परिकलित कीजिए।
($m_p = 1.007277$ u; $m_n = 1.008665$ u, $1u = 931.5$ MeV/c²)

खण्ड – घ

प्रश्न संख्या 29 तथा 30 केस-अध्ययन आधारित प्रश्न हैं। निम्न पैराग्राफों को पढ़ें तथा नीचे दिए गए प्रश्नों के उत्तर दें।

29. एक पतला लेंस दो पृष्ठों से घिरा ऐसा पारदर्शी प्रकाशिक माध्यम होता है जिसका कम से कम एक पृष्ठ अवश्य ही गोलीय होना चाहिए। एकल गोलीय पृष्ठ के लिए प्रतिबिम्ब बनने के लिए सूत्र का अनुप्रयोग हम किन्हीं दो पृष्ठों के निकाय पर क्रमिक रूप से करके पतले लेंसों के लिए लेंस मेकर सूत्र तथा उसके पश्चात लेंस सूत्र प्राप्त कर सकते हैं। किसी लेंस के दो फोकस बिन्दु होते हैं जिन्हें “प्रथम फोकस बिन्दु” तथा “द्वितीय फोकस बिन्दु” कहते हैं और इनमें एक लेंस के एक ओर तथा दूसरा लेंस के दूसरी ओर होता है। 4 × 1 = 4



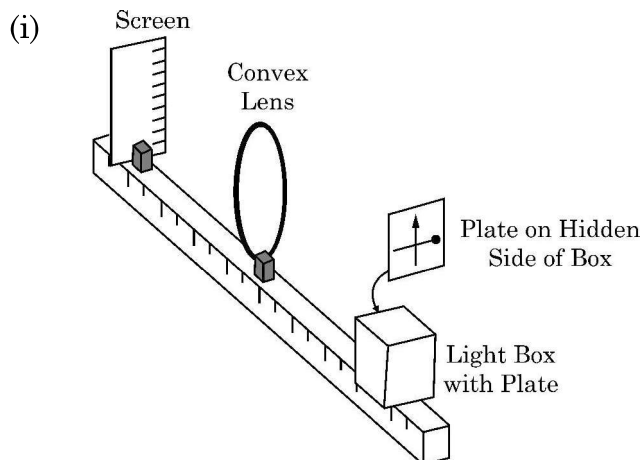


26. (a) Draw a plot of frequency ν of incident radiations as a function of stopping potential V_0 for a given photo emissive material. What information can be obtained from the value of the intercept on the stopping potential axis ? 3
- (b) Calculate : (i) the momentum and (ii) de Broglie wavelength, of an electron with kinetic energy of 80 eV.
27. (a) Draw circuit arrangement for studying V-I characteristics of a p-n junction diode. 3
- (b) Show the shape of the characteristics of a diode.
- (c) Mention two information that you can get from these characteristics.
28. (a) Define 'Mass defect' and 'Binding energy' of a nucleus. Describe 'Fission process' on the basis of binding energy per nucleon. 3
- (b) A deuteron contains a proton and a neutron and has a mass of 2.013553 u. Calculate the mass defect for it in u and its energy equivalence in MeV. ($m_p = 1.007277$ u, $m_n = 1.008665$ u, $1u = 931.5$ MeV/ c^2)

SECTION – D

Question numbers 29 and 30 are case study based questions. Read the following paragraphs and answer the questions that follow.

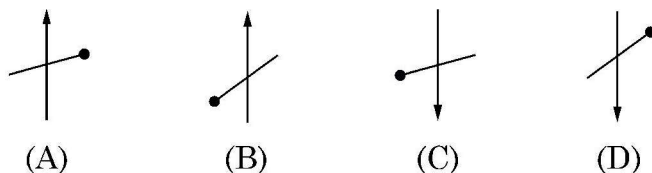
29. A thin lens is a transparent optical medium bounded by two surfaces, at least one of which should be spherical. Applying the formula for image formation by a single spherical surface successively at the two surfaces of a lens, one can obtain the 'lens maker formula' and then the 'lens formula'. A lens has two foci – called 'first focal point' and 'second focal point' of the lens, one on each side. $4 \times 1 = 4$





आरेख में दर्शायी व्यवस्था पर विचार कीजिए। एक काला ऊर्ध्वाधर तीर तथा एक गोले वाली मोटी क्षैतिज रेखा काँच के एक प्लेट पर पेन्ट किए गये हैं। यह बिम्ब की भाँति कार्य करता है। जब इस प्लेट को प्रदीप्त किया जाता है तो पर्दे पर इसका वास्तविक प्रतिबिम्ब बनता है।

निम्नलिखित में से कौन पर्दे पर बने प्रतिबिम्ब का सही निरूपण करता है?



(ii) नीचे दिया गया कौन सा कथन गलत है ?

- (A) उत्तल दर्पण के लिए आवर्धन सदैव ऋणात्मक होता है।
- (B) किसी दर्पण द्वारा बने सभी आभासी प्रतिबिम्बों के लिए आवर्धन धनात्मक होता है।
- (C) अवतल लेंस के लिए आवर्धन सदैव धनात्मक होता है।
- (D) वास्तविक और उलटे प्रतिबिम्बों के लिए आवर्धन सदैव ऋणात्मक होता है।

(iii) फोकस दूरी f के किसी उत्तल लेंस को उसके मुख्य अक्ष के लम्बवत दो समान भागों में काटा गया है। इसके प्रत्येक भाग की फोकस दूरी होगी

- (A) f
- (B) $2f$
- (C) $\frac{f}{2}$
- (D) $\frac{f}{4}$

अथवा

(iii) यदि उपरोक्त प्रकरण (i) में बिम्ब लेंस से 20 cm दूरी पर तथा पर्दा बिम्ब से 50 cm की दूरी पर है तो उपयोग किए गए लेंस की फोकस दूरी है

- (A) 10 cm
- (B) 12 cm
- (C) 16 cm
- (D) 20 cm

(iv) किसी उभयोत्तल लेंस के प्रथम फोकस बिन्दु से बिम्ब की दूरी X_1 तथा प्रतिबिम्ब की लेंस के द्वितीय फोकस बिन्दु से दूरी X_2 है, तो लेंस की फोकस दूरी है

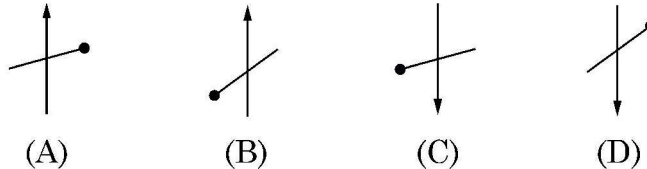
- (A) $X_1 X_2$
- (B) $\sqrt{X_1 + X_2}$
- (C) $\sqrt{X_1 X_2}$
- (D) $\sqrt{\frac{X_2}{X_1}}$



~

Consider the arrangement shown in figure. A black vertical arrow and a horizontal thick line with a ball are painted on a glass plate. It serves as the object. When the plate is illuminated, its real image is formed on the screen.

Which of the following correctly represents the image formed on the screen ?



- (ii) Which of the following statements is incorrect ?
- (A) For a convex mirror magnification is always negative.
 - (B) For all virtual images formed by a mirror magnification is positive.
 - (C) For a concave lens magnification is always positive.
 - (D) For real and inverted images, magnification is always negative.
- (iii) A convex lens of focal length 'f' is cut into two equal parts perpendicular to the principal axis. The focal length of each part will be :
- (A) f
 - (B) 2 f
 - (C) $\frac{f}{2}$
 - (D) $\frac{f}{4}$

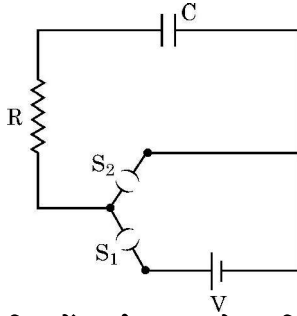
OR

- (iii) If an object in case (i) above is 20 cm from the lens and the screen is 50 cm away from the object, the focal length of the lens used is
- (A) 10 cm
 - (B) 12 cm
 - (C) 16 cm
 - (D) 20 cm
- (iv) The distance of an object from first focal point of a biconvex lens is X_1 and distance of the image from second focal point is X_2 . The focal length of the lens is
- (A) $X_1 X_2$
 - (B) $\sqrt{X_1 + X_2}$
 - (C) $\sqrt{X_1 X_2}$
 - (D) $\sqrt{\frac{X_2}{X_1}}$



30.

4 × 1 = 4



चित्र में दर्शाए गए आरेख, जिसे RC श्रेणी परिपथ कहते हैं, के किसी परिपथ में कोई संधारित्र C, प्रतिरोध R का प्रतिरोधक तथा emf V की कोई आदर्श बैटरी संयोजित है। (S_2 को खुला रखते हुए) कुंजी S_1 को बन्द करने पर परिपथ पूर्ण हो जाता है तथा तुरन्त संधारित्र की पट्टिकाओं और बैटरी के टर्मिनलों के बीच आवेश का प्रवाह आरंभ हो जाता है। संधारित्र पर आवेश में वृद्धि होती है परिणामस्वरूप संधारित्र के सिरों पर विभवान्तर $V_c (= q/C)$ में समय के साथ वृद्धि होती है। जब यह विभवान्तर बैटरी के सिरों के बीच विभवान्तर के बराबर हो जाता है, तो संधारित्र पूर्णरूपेण आवेशित हो जाता है ($Q = VC$)। इस आवेशन प्रक्रिया की अवधि में संधारित्र पर आवेश q में समय के साथ परिवर्तन होता है जिसे इस प्रकार निरूपित किया जाता है –

$$q = Q[1 - e^{-t/RC}]$$

इस व्यंजक का अवकलन तथा $\frac{d}{dx}(e^{mx}) = me^{mx}$ का उपयोग करके आवेशन धारा प्राप्त की जा सकती है।

उस प्रकरण पर विचार कीजिए जिसमें $R = 20 \text{ k}\Omega$, $C = 500 \text{ }\mu\text{F}$ तथा $V = 10 \text{ V}$

(i) जब कुंजी S_1 बन्द तथा S_2 खुली है तब संधारित्र पर अंतिम आवेश है –

- (A) $5 \text{ }\mu\text{C}$ (B) 5 mC
(C) 25 mC (D) 0.1 C

(ii) पर्याप्त समय के लिए कुंजी S_1 बन्द तथा S_2 खुली रहती है। अब S_2 को बन्द तथा S_1 को खोल दिया गया है। संधारित्र पर अंतिम आवेश क्या है ?

- (A) शून्य (B) 5 mC
(C) 2.5 mC (D) $5 \text{ }\mu\text{C}$

(iii) RC के लिए विमीय सूत्र है –

- (A) $[M L^2 T^{-3} A^{-2}]$ (B) $[M^0 L^0 T^{-1} A^0]$
(C) $[M^{-1} L^{-2} T^4 A^2]$ (D) $[M^0 L^0 T A^0]$

(iv) कुंजी S_1 बन्द तथा S_2 खुली है। 5 सेकण्ड के पश्चात प्रतिरोधक से प्रवाहित धारा है

- (A) $\frac{1}{2\sqrt{e}} \text{ mA}$ (B) $\sqrt{e} \text{ mA}$
(C) $\frac{1}{\sqrt{e}} \text{ mA}$ (D) $\frac{1}{2e} \text{ mA}$

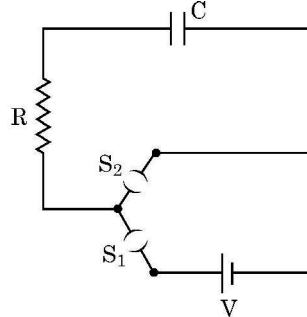
अथवा

(iv) कुंजी S_1 बन्द तथा S_2 खुली है। प्रतिरोधक में आवेशन धारा का आरम्भिक मान है

- (A) 5 mA (B) 0.5 mA (C) 2 mA (D) 1 mA



30. A circuit consisting of a capacitor C , a resistor of resistance R and an ideal battery of emf V , as shown in figure is known as RC series circuit. $4 \times 1 = 4$



As soon as the circuit is completed by closing key S_1 (keeping S_2 open) charges begin to flow between the capacitor plates and the battery terminals. The charge on the capacitor increases and consequently the potential difference $V_c (= q/C)$ across the capacitor also increases with time. When this potential difference equals the potential difference across the battery, the capacitor is fully charged ($Q = VC$). During this process of charging, the charge q on the capacitor changes with time t as $q = Q[1 - e^{-t/RC}]$

The charging current can be obtained by differentiating it and using $\frac{d}{dx}(e^{mx}) = me^{mx}$.

Consider the case when $R = 20 \text{ k}\Omega$, $C = 500 \text{ }\mu\text{F}$ and $V = 10 \text{ V}$.

- (i) The final charge on the capacitor, when key S_1 is closed and S_2 is open, is

(A) $5 \text{ }\mu\text{C}$	(B) 5 mC
(C) 25 mC	(D) 0.1 C
- (ii) For sufficient time the key S_1 is closed and S_2 is open. Now key S_2 is closed and S_1 is open. What is the final charge on the capacitor ?

(A) Zero	(B) 5 mC
(C) 2.5 mC	(D) $5 \text{ }\mu\text{C}$
- (iii) The dimensional formula for RC is

(A) $[M L^2 T^{-3} A^{-2}]$	(B) $[M^0 L^0 T^{-1} A^0]$
(C) $[M^{-1} L^{-2} T^4 A^2]$	(D) $[M^0 L^0 T A^0]$
- (iv) The key S_1 is closed and S_2 is open. The value of current in the resistor after 5 seconds, is

(A) $\frac{1}{2\sqrt{e}} \text{ mA}$	(B) $\sqrt{e} \text{ mA}$	(C) $\frac{1}{\sqrt{e}} \text{ mA}$	(D) $\frac{1}{2e} \text{ mA}$
--------------------------------------	---------------------------	-------------------------------------	-------------------------------

OR

- (iv) The key S_1 is closed and S_2 is open. The initial value of charging current in the resistor, is

(A) 5 mA	(B) 0.5 mA	(C) 2 mA	(D) 1 mA
--------------------	----------------------	--------------------	--------------------



~

खण्ड – ड

31. (a) (i) (1) कलासंबद्ध स्रोत क्या होते हैं ? सतत व्यतिकरण पैटर्न का प्रेक्षण करने के लिए इनका होना आवश्यक क्यों है ?
- (2) दो स्वतंत्र स्रोतों के प्रकाश कलासंबद्ध नहीं होते हैं। व्याख्या कीजिए।
- (ii) किसी पर्दे से 1.20 m की दूरी पर एक दूसरे से 0.1 mm दूरी पर दो झिरियाँ व्यवस्थित की गयी हैं। इन झिरियों पर किसी दूरस्थ प्रकाश स्रोत से 600 nm तरंगदैर्घ्य का प्रकाश आपतन कर रहा है।
- (1) पर्दे पर निकटवर्ती चमकीली व्यतिकरण फ्रिंजों के बीच कितनी दूरी होगी ?
- (2) पहली चमकीली फ्रिंज की कोणीय चौड़ाई (अंशों में) ज्ञात कीजिए।

5

अथवा

- (b) (i) तरंगाग्र की परिभाषा लिखिए। कोई आपतित समतल तरंग किसी उत्तल लेंस पर आपतन करती है और उससे अपवर्तित हो जाती है। आपतित और अपवर्तित तरंगाग्रों को आरेख खींचकर दर्शाइए।
- (ii) किसी दूरस्थ स्रोत से आता कोई प्रकाश पुंज 15 cm त्रिज्या की किसी काँच (अपवर्तनांक 1.5) की गोल गेंद द्वारा अपवर्तित होता है। किरण आरेख खींचकर बनने वाले अंतिम प्रतिबिम्ब की स्थिति प्राप्त कीजिए।
32. (a) (i) $5 \mu\text{C}$ और $-1 \mu\text{C}$ के दो बिन्दु आवेश क्रमशः $(-3 \text{ cm}, 0, 0)$ और $(3 \text{ cm}, 0, 0)$ बिन्दुओं पर स्थित हैं। इस प्रदेश में किसी बाह्य विद्युत क्षेत्र $\vec{E} = \frac{A}{r^2} \hat{r}$ को अनुप्रयुक्त किया गया है, यहाँ $A = 3 \times 10^5 \text{ Vm}$ है। इस विद्युत क्षेत्र के कारण निकाय की स्थिर विद्युत ऊर्जा में परिवर्तन परिकलित कीजिए।
- (ii) वायु में स्थित दो चालकों के किसी निकाय पर नेट आवेश $+80\mu\text{C}$ तथा $-80\mu\text{C}$ है जो उनके बीच 16V का विभवान्तर उत्पन्न करता है।
- (1) निकाय की धारिता ज्ञात कीजिए।
- (2) यदि संधारित्र में वायु के स्थान पर परावैद्युतांक 3 का कोई परावैद्युत माध्यम भर दिया जाए तो दो चालकों के बीच विभवान्तर क्या होगा ?
- (3) यदि इन चालकों पर आवेशों को परिवर्तित करके $+160 \mu\text{C}$ और $-160 \mu\text{C}$ कर दिया जाए तो क्या निकाय की धारिता में कोई परिवर्तन होगा ? अपने उत्तर के लिए कारण दीजिए।

5

अथवा



~

SECTION – E

31. (a) (i) (1) What are coherent sources ? Why are they necessary for observing a sustained interference pattern ? 5
(2) Lights from two independent sources are not coherent. Explain.
(ii) Two slits 0.1 mm apart are arranged 1.20 m from a screen. Light of wavelength 600 nm from a distant source is incident on the slits.
(1) How far apart will adjacent bright interference fringes be on the screen ?
(2) Find the angular width (in degree) of the first bright fringe.

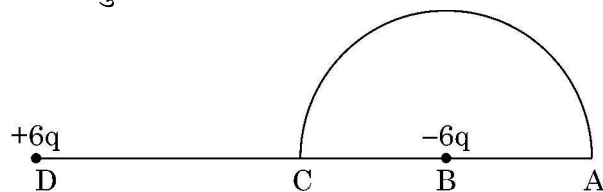
OR

- (b) (i) Define a wavefront. An incident plane wave falls on a convex lens and gets refracted through it. Draw a diagram to show the incident and refracted wavefront.
(ii) A beam of light coming from a distant source is refracted by a spherical glass ball (refractive index 1.5) of radius 15 cm. Draw the ray diagram and obtain the position of the final image formed.
32. (a) (i) Two point charges $5 \mu\text{C}$ and $-1 \mu\text{C}$ are placed at points $(-3 \text{ cm}, 0, 0)$ and $(3 \text{ cm}, 0, 0)$ respectively. An external electric field $\vec{E} = \frac{A}{r^2} \hat{r}$ where $A = 3 \times 10^5 \text{ Vm}$ is switched on in the region. Calculate the change in electrostatic energy of the system due to the electric field. 5
(ii) A system of two conductors is placed in air and they have net charge of $+80 \mu\text{C}$ and $-80 \mu\text{C}$ which causes a potential difference of 16 V between them.
(1) Find the capacitance of the system.
(2) If the air between the capacitor is replaced by a dielectric medium of dielectric constant 3, what will be the potential difference between the two conductors ?
(3) If the charges on two conductors are changed to $+160 \mu\text{C}$ and $-160 \mu\text{C}$, will the capacitance of the system change ? Give reason for your answer.

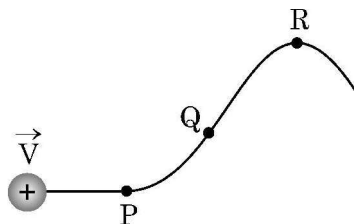
OR



- (b) (i) तीन ऐसे धात्विक गोलीय खोल A, B और C पर विचार कीजिए जिनमें प्रत्येक की त्रिज्या R है। प्रत्येक खोल में त्रिज्या R/10 की संकेंद्री धातु की गेंद है। इन गोलीय खोलों को क्रमशः $+6q, -4q$ तथा $14q$ आवेश दिया गया है। इनके भीतर की गेंदों को भी क्रमशः $-2q, +8q$ और $-10q$ आवेश दिए गए हैं। इन खोलों A, B और C के केन्द्रों से $3R$ दूरी पर इन खोलों के कारण उत्पन्न विद्युत क्षेत्रों की तुलना कीजिए।
- (ii) आरेख में दर्शाए अनुसार 5 cm त्रिज्या के किसी अर्धवृत्त के केन्द्र B पर कोई $-6 \mu\text{C}$ आवेश स्थित है। बिन्दु B से 10 cm दूरी पर स्थित बिन्दु D पर कोई अन्य परिमाण में समान परन्तु विजातीय आवेश स्थित है। इस अर्धवृत्त की परिधि के अनुदिश कोई $+5 \mu\text{C}$ आवेश बिन्दु C से बिन्दु A ले जाया गया है। आवेश पर किया गया कार्य परिकलित कीजिए।



33. (a) (i) किसी असमान चुम्बकीय क्षेत्र में वेग \vec{V} से गतिमान कोई प्रोटॉन आरेख में दर्शाए अनुसार पथ संरेखित करता है।



प्रोटॉन द्वारा चला गया पथ सदैव कागज के तल में ही होता है। बिन्दु P, Q और R के निकट के प्रदेश में चुम्बकीय क्षेत्र की दिशा क्या है? इन बिन्दुओं पर चुम्बकीय क्षेत्रों के आपेक्षिक परिमाणों के विषय में आप क्या कह सकते हैं?

- (ii) क्षेत्रफल A का कोई धारावाही वृत्ताकार पाश अपने केन्द्र पर कोई चुम्बकीय क्षेत्र B उत्पन्न करता है। यह दर्शाइए कि पाश का चुम्बकीय आघूर्ण $\frac{2BA}{\mu_0} \sqrt{\frac{A}{\pi}}$ है।

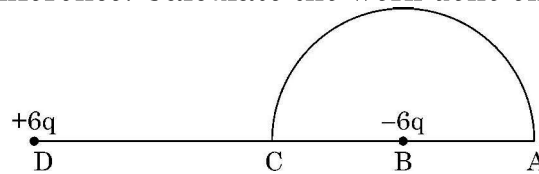
अथवा

- (b) (i) किसी एकसमान चुम्बकीय क्षेत्र में निलंबित किसी आयताकार धारा पाश पर कार्यरत बल आघूर्ण के लिए व्यंजक व्युत्पन्न कीजिए।
- (ii) किसी एकसमान चुम्बकीय क्षेत्र \vec{B} में कोई आवेशित कण वेग \vec{V} से वर्तुल मार्ग पर गमन कर रहा है। इस आवेशित कण को किसी लैड की चादर से गुजारा जाता है जिसके फलस्वरूप इसकी गति की दिशा में बिना कोई परिवर्तन हुए इसकी गतिज ऊर्जा घटकर आधी रह जाती है। इस कण के (1) पथ की त्रिज्या तथा (2) परिक्रमण के आवर्तकाल में क्या परिवर्तन होगा?



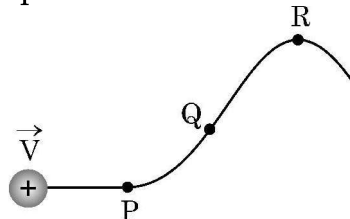
~

- (b) (i) Consider three metal spherical shells A, B and C, each of radius R . Each shell is having a concentric metal ball of radius $R/10$. The spherical shells A, B and C are given charges $+6q$, $-4q$, and $14q$ respectively. Their inner metal balls are also given charges $-2q$, $+8q$ and $-10q$ respectively. Compare the magnitude of the electric fields due to shells A, B and C at a distance $3R$ from their centres.
- (ii) A charge $-6 \mu\text{C}$ is placed at the centre B of a semicircle of radius 5 cm , as shown in the figure. An equal and opposite charge is placed at point D at a distance of 10 cm from B. A charge $+5 \mu\text{C}$ is moved from point 'C' to point 'A' along the circumference. Calculate the work done on the charge.



33. (a) (i) A proton moving with velocity \vec{V} in a non-uniform magnetic field traces a path as shown in the figure.

5



The path followed by the proton is always in the plane of the paper. What is the direction of the magnetic field in the region near points P, Q and R? What can you say about relative magnitude of magnetic fields at these points?

- (ii) A current carrying circular loop of area A produces a magnetic field B at its centre. Show that the magnetic moment of the loop is $\frac{2BA}{\mu_0} \sqrt{\frac{A}{\pi}}$.

OR

- (b) (i) Derive an expression for the torque acting on a rectangular current loop suspended in a uniform magnetic field.
- (ii) A charged particle is moving in a circular path with velocity \vec{V} in a uniform magnetic field \vec{B} . It is made to pass through a sheet of lead and as a consequence, it loses one half of its kinetic energy without change in its direction. How will (1) the radius of its path (2) its time period of revolution change?



2

Marking Scheme
Strictly Confidential
(For Internal and Restricted use only)
Senior School Certificate Examination, 2025
SUBJECT NAME PHYSICS (PAPER CODE 55/1/1)


General Instructions: -

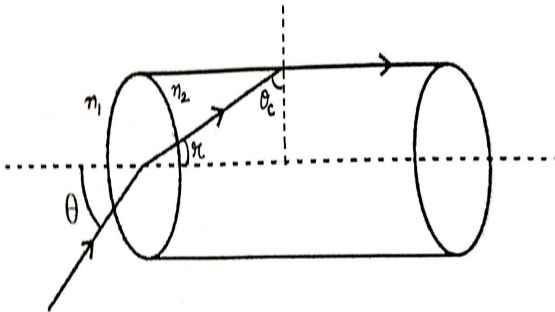
1	You are aware that evaluation is the most important process in the actual and correct assessment of the candidates. A small mistake in evaluation may lead to serious problems which may affect the future of the candidates, education system and teaching profession. To avoid mistakes, it is requested that before starting evaluation, you must read and understand the spot evaluation guidelines carefully.
2	“Evaluation policy is a confidential policy as it is related to the confidentiality of the examinations conducted, Evaluation done and several other aspects. Its’ leakage to public in any manner could lead to derailment of the examination system and affect the life and future of millions of candidates. Sharing this policy/document to anyone, publishing in any magazine and printing in News Paper/Website etc may invite action under various rules of the Board and IPC.”
3	Evaluation is to be done as per instructions provided in the Marking Scheme. It should not be done according to one’s own interpretation or any other consideration. Marking Scheme should be strictly adhered to and religiously followed. However, while evaluating, answers which are based on latest information or knowledge and/or are innovative, they may be assessed for their correctness otherwise and due marks be awarded to them. In class-X, while evaluating two competency-based questions, please try to understand given answer and even if reply is not from marking scheme but correct competency is enumerated by the candidate, due marks should be awarded.
4	The Marking scheme carries only suggested value points for the answers These are in the nature of Guidelines only and do not constitute the complete answer. The students can have their own expression and if the expression is correct, the due marks should be awarded accordingly.
5	The Head-Examiner must go through the first five answer books evaluated by each evaluator on the first day, to ensure that evaluation has been carried out as per the instructions given in the Marking Scheme. If there is any variation, the same should be zero after deliberation and discussion. The remaining answer books meant for evaluation shall be given only after ensuring that there is no significant variation in the marking of individual evaluators.
6	Evaluators will mark($\sqrt{}$) wherever answer is correct. For wrong answer CROSS ‘X” be marked. Evaluators will not put right (✓) while evaluating which gives an impression that answer is correct and no marks are awarded. This is most common mistake which evaluators are committing.
7	If a question has parts, please award marks on the right-hand side for each part. Marks awarded for different parts of the question should then be totaled up and written in the left-hand margin and encircled. This may be followed strictly.
8	If a question does not have any parts, marks must be awarded in the left-hand margin and encircled. This may also be followed strictly.
9	If a student has attempted an extra question, answer of the question deserving more marks should be retained and the other answer scored out with a note “Extra Question” .
10	No marks to be deducted for the cumulative effect of an error. It should be penalized only once.
11	A full scale of marks <u>70</u> (example 0 to 80/70/60/50/40/30 marks as given in Question Paper) has to be used. Please do not hesitate to award full marks if the answer

	deserves it.
12	Every examiner has to necessarily do evaluation work for full working hours i.e., 8 hours every day and evaluate 20 answer books per day in main subjects and 25 answer books per day in other subjects (Details are given in Spot Guidelines). This is in view of the reduced syllabus and number of questions in question paper.
13	<p>Ensure that you do not make the following common types of errors committed by the Examiner in the past:-</p> <ul style="list-style-type: none"> • Leaving answer or part thereof unassessed in an answer book. • Giving more marks for an answer than assigned to it. • Wrong totaling of marks awarded on an answer. • Wrong transfer of marks from the inside pages of the answer book to the title page. • Wrong question wise totaling on the title page. • Wrong totaling of marks of the two columns on the title page. • Wrong grand total. • Marks in words and figures not tallying/not same. • Wrong transfer of marks from the answer book to online award list. • Answers marked as correct, but marks not awarded. (Ensure that the right tick mark is correctly and clearly indicated. It should merely be a line. Same is with the X for incorrect answer.) • Half or a part of answer marked correct and the rest as wrong, but no marks awarded.
14	While evaluating the answer books if the answer is found to be totally incorrect, it should be marked as cross (X) and awarded zero (0) Marks.
15	Any un assessed portion, non-carrying over of marks to the title page, or totaling error detected by the candidate shall damage the prestige of all the personnel engaged in the evaluation work as also of the Board. Hence, in order to uphold the prestige of all concerned, it is again reiterated that the instructions be followed meticulously and judiciously.
16	The Examiners should acquaint themselves with the guidelines given in the “ Guidelines for spot Evaluation ” before starting the actual evaluation.
17	Every Examiner shall also ensure that all the answers are evaluated, marks carried over to the title page, correctly totaled and written in figures and words.
18	The candidates are entitled to obtain photocopy of the Answer Book on request on payment of the prescribed processing fee. All Examiners/Additional Head Examiners/Head Examiners are once again reminded that they must ensure that evaluation is carried out strictly as per value points for each answer as given in the Marking Scheme.

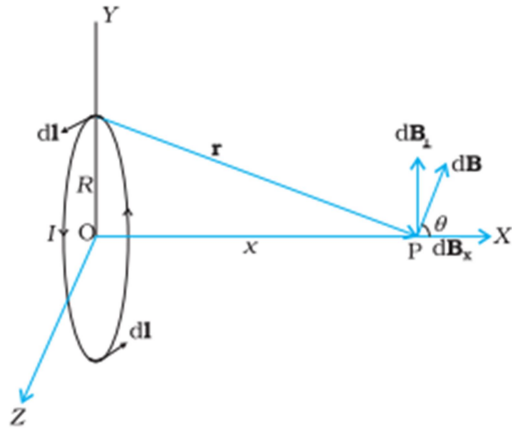
MARKING SCHEME: PHYSICS(042)

Code: 55/1/1

Q.No	VALUE POINTS/EXPECTED ANSWERS	Marks	Total Marks
SECTION A			
1	(A) $q_2 < q_3 < q_1$	1	1
2	(C) $\frac{R}{8}$	1	1
3	(B) $(-3\hat{j}+2\hat{k})\mu\text{N}$	1	1
4	(B) 0.30 C	1	1
5	(B) 2866	1	1
6	(D) $\frac{i_0 v_0}{2} \cos \phi$	1	1
7	(A) X- rays , Micro waves , UV radiation	1	1
8	(B) $\frac{3H}{4}$	1	1
9	(C) $\frac{h}{m}$	1	1
10	(B) $\lambda_e > \lambda_p > \lambda_d$	1	1
11	(A) 	1	1
12	(C) The barrier height and the depletion layer width both decrease.	1	1
13	(A) Both Assertion (A) and Reason (R) are true and Reason (R) is the correct explanation of Assertion(A).	1	1
14	(A) Both Assertion (A) and Reason (R) are true and Reason (R) is the correct explanation of Assertion(A).	1	1
15	(C) Assertion (A) is true but Reason (R) is false.	1	1
16	(D) Assertion (A) is false and Reason (R) is also false.	1	1
SECTION - B			
17	<div style="border: 1px solid black; padding: 5px; display: inline-block;"> Calculating the value of E 1 Calculating the value of r 1 </div> <p> $E = V + Ir$ In first case $E = 5 + 2r$ In second case $E = 4 + 4r$ After solving </p>	 ½ ½	

	$\Delta\phi = \frac{2\pi}{\lambda} \Delta x$ $\therefore \Delta x = \frac{\lambda}{8} \text{ (given)}$ $\Delta\phi = \frac{2\pi}{\lambda} \times \frac{\lambda}{8}$ $\Delta\phi = \frac{\pi}{4}$ $I = 4I_0 \cos^2\left(\frac{\phi}{2}\right)$ $I = 4I_0 \cos^2\left(\frac{\pi}{8}\right)$	$\frac{1}{2}$ $\frac{1}{2}$ $\frac{1}{2}$	2
19	<div style="border: 1px solid black; padding: 5px; margin-bottom: 20px;"> Calculating angle θ <div style="text-align: right;">2</div> </div> <div style="text-align: center;">  </div> <p>For critical Angle</p> $\frac{n_2}{n_1} = \frac{1}{\sin \theta_c}$ $n_1=1 \quad n_2= \frac{2}{\sqrt{3}} \quad \text{(given)}$ $\frac{2}{\sqrt{3}} = \frac{1}{\sin \theta_c}$ $\sin \theta_c = \frac{\sqrt{3}}{2}$ $\theta_c = 60^\circ$ $r = 90 - \theta_c$ $= 30^\circ$ <p>From Snell's law at air rod interface</p> $n_1 \sin i = n_2 \sin r$	$\frac{1}{2}$ $\frac{1}{2}$	

	<div>OR</div> <div>(b)</div> <div><div><div>(i) Finding the relation</div><div>(i) between R' and R</div><div>(ii) between v_d' and v_d</div><div>(ii) To identify whether all free electrons are moving in the same direction.</div></div><div><div>1</div><div>1</div><div>1</div></div></div> <div><div>(i)</div><div>$l' = 2l$</div><div>$Al = A'l' = \text{volume of the wire}$</div><div>$Al = A'(2l)$</div><div>$\frac{A}{2} = A'$</div><div>$R = \frac{\rho l}{A}$</div><div>$R' = \frac{\rho l'}{A'}$</div><div>$R' = \frac{\rho(2l)}{A/2}$</div><div>$\frac{R'}{R} = 4$</div><div>Alternatively</div><div>$R' = n^2 R$</div><div>$n = 2$</div><div>$R' = 4R$</div><div>(ii) $v_d = \frac{eE}{m} \tau$</div><div>$v_d = \frac{eV}{ml} \tau$</div><div>$v_d' = \frac{eV}{ml'} \tau$</div><div>$\frac{v_d'}{v_d} = \frac{l}{l'} = \frac{1}{2}$</div><div>(ii) No</div></div>	<div><div><div><div><div>1/2</div></div><div><div>1/2</div></div><div><div>1/2</div></div><div><div>1/2</div></div><div><div>1/2</div></div><div><div>1</div></div></div></div><div><div>3</div></div></div>	
23	<div><div>Derivation for</div><div>Magnetic field on the axis</div><div>Magnetic field at the centre</div></div> <div><div>2 1/2</div><div>1/2</div></div>		



1/2

From Biot Savart's Law

$$|d\vec{B}| = \frac{\mu_0}{4\pi} \frac{I |d\vec{l} \times \vec{r}|}{r^3}$$

1/2

Now $r^2 = x^2 + R^2$

Because $|d\vec{l} \times \vec{r}| = r dl$

$$\therefore dB = \frac{\mu_0}{4\pi} \frac{idl}{(x^2 + R^2)}$$

1/2

$d\vec{B}$ has two components.

All the components perpendicular to x- axis are summed over and we obtain a null result.

Only x- components contribute. The net contribution along x- direction

$$dB_x = dB \cos \theta$$

1/2

$$\cos \theta = \frac{R}{(R^2 + x^2)^{\frac{1}{2}}}$$

Thus :

$$dB_x = \frac{\mu_0 i}{4\pi} dl \frac{R}{(R^2 + x^2)^{\frac{3}{2}}}$$

Summing dB_x over the entire loop

$$\oint dl = 2\pi R$$

$$\vec{B} = B_x \hat{i} = \frac{\mu_0 i R^2}{2(x^2 + R^2)^{\frac{3}{2}}} \hat{i}$$

1/2

Magnetic field at the centre of the loop-

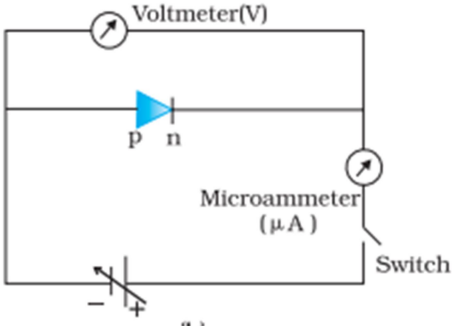
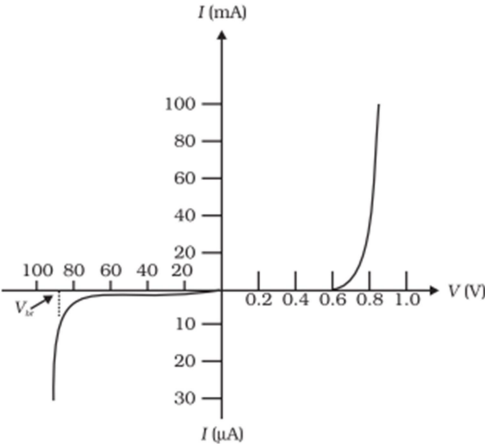
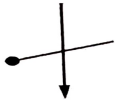
Here $x=0$

$$\therefore \vec{B} = \frac{\mu_0 i}{2R} \hat{i}$$

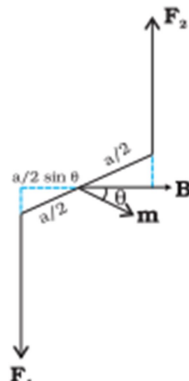
1/2

3

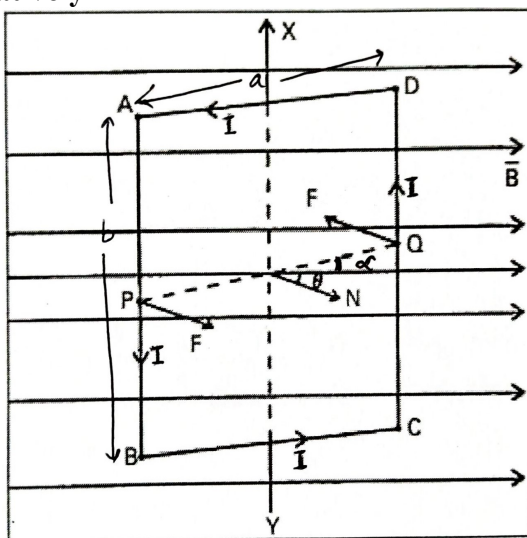
24	<div style="border: 1px solid black; padding: 5px; margin-bottom: 10px;"> <p>a) Deriving the expression for energy stored in an inductor. 1 ½</p> <p>b) Deriving the energy density of magnetic field. 1 ½</p> </div> <p>a) Induced emf in an inductor</p> $ \varepsilon = L \frac{dI}{dt}$ <p>Rate of work done at any instant</p> $\frac{dW}{dt} = \varepsilon I$ <p>Total Amount of work done in establishing current I</p> $W = \int dW = \int_0^I L I dI$ <p>Energy required to build up current I is</p> $W = \frac{1}{2} L I^2$ <p>b) The Magnetic Energy is</p> $W = U_B = \frac{1}{2} L I^2$ $= \frac{1}{2} L \left(\frac{B}{n \mu_0} \right)^2 \quad \text{as } B = n \mu_0 I$ <p>Using $L = \mu_0 n^2 A l$</p> $U_B = \frac{1}{2} (\mu_0 n^2 A l) \left(\frac{B^2}{\mu_0^2 n^2} \right)$ <p>Energy density = $\frac{U_B}{\text{volume}}$</p> $\frac{U_B}{\text{volume}} = \frac{1}{2} \times \mu_0 n^2 A l \times \frac{B^2}{\mu_0^2 n^2} \times \frac{1}{A l}$ $= \frac{1}{2} \frac{B^2}{\mu_0}$	<p>½</p> <p>½</p> <p>½</p> <p>½</p> <p>½</p> <p>½</p> <p>½</p>	3
25	<div style="border: 1px solid black; padding: 5px; margin-bottom: 10px;"> <p>a) Showing that ($I_c + I_d$) has the same value. 2</p> <p>b) Explanation of Kirchhoff's first rule at each plate of capacitor. 1</p> </div> <p>a) \therefore Total current $I = I_c + I_d$ outside the capacitor</p> $I_d = 0$ $\therefore I = I_c$ <p>Inside the capacitor</p> $I_c = 0$	<p>½</p> <p>½</p>	

	 <p>Circuit diagram for Reverse characteristics</p> <p>b)</p>  <p>Note : Please do not deduct marks for not writing values.</p> <p>c) Any two informations Knee voltage / reverse saturation current / Breakdown voltage / very low resistance in forward biasing / very high resistance in Reverse biasing.</p>	<p>$\frac{1}{2}$</p> <p>1</p> <p>$\frac{1}{2} + \frac{1}{2}$</p> <p>3</p>	
	SECTION - D		
29	<p>i) (B) 5mC ii) (A) zero iii) (D) $[M^0L^0TA^0]$ iv) (A) $\frac{1}{2\sqrt{e}}mA$</p> <p>Note: 1 mark for this part may be given to all the students who have attempted other parts of the question. OR (B) 0.5 mA</p>	<p>1 1 1</p> <p>1</p>	4
30	<p>i) (C)</p>  <p>ii) (A) For a convex mirror magnification is always negative iii) (B) 2f</p>	<p>1</p> <p>1 1</p>	

	<p>Since $Q = 4q$ and $r = 3R$</p> $E = \frac{k(4q)}{9R^2} = \frac{4kq}{9R^2}$ <p>$\therefore E_A = E_B = E_c$</p> <p>ii) $V_c = \left[\frac{k \times 6 \times 10^{-6}}{5 \times 10^{-2}} - \frac{k \times 6 \times 10^{-6}}{5 \times 10^{-2}} \right]$</p> $= 0$ $V_A = \left[\frac{k \times 6 \times 10^{-6}}{15 \times 10^{-2}} - \frac{k \times 6 \times 10^{-6}}{5 \times 10^{-2}} \right]$ $= \frac{k \times 6 \times 10^{-6}}{10^{-2}} \left[\frac{1-3}{15} \right]$ $= -\frac{9 \times 10^9 \times 6 \times 10^{-6} \times 2}{15 \times 10^{-2}}$ $= -7.2 \times 10^5 \text{ V}$ $W = q[V_A - V_c]$ $= 5 \times 10^{-6} [-7.2 \times 10^5 - 0]$ $W = -3.6 \text{ J}$	<p>$\frac{1}{2}$</p> <p>$\frac{1}{2}$</p> <p>1</p> <p>$\frac{1}{2}$</p> <p>$\frac{1}{2}$</p> <p>$\frac{1}{2}$</p> <p>$\frac{1}{2}$</p>	5
32	<p>a)</p> <div style="border: 1px solid black; padding: 5px; margin: 5px;"> <p>i) Finding the direction of magnetic field near points P,Q and R $\frac{1}{2} + \frac{1}{2} + \frac{1}{2}$ Conclusion about the relative magnitude of magnetic field. $\frac{1}{2} + \frac{1}{2} + \frac{1}{2}$ ii) Showing the given expression of magnetic moment. 2</p> </div> <p>i) <u>Near point P</u> Magnetic field is acting into the plane of the paper as Force is acting upwards.</p> <p><u>Near point Q</u> Magnetic field is into the plane of paper as force is acting upwards.</p> <p><u>Near point R</u> Magnetic field is acting out of the plane of the paper as \vec{F} is acting downwards.</p> <p><u>Relative Magnitude of the Magnetic field.</u> As $B \propto \frac{1}{r}$ Therefore, Near point P, magnitude of B is small. Near point Q, B is relatively smaller than point P. Near point R, B is relatively larger than point P. ($B_Q < B_P < B_R$)</p> <p>ii) Let r be the radius of the circular coil and I is the current in the coil then</p>	<p>$\frac{1}{2}$</p> <p>$\frac{1}{2}$</p> <p>$\frac{1}{2}$</p> <p>$\frac{1}{2}$</p> <p>$\frac{1}{2}$</p> <p>$\frac{1}{2}$</p>	

$B = \frac{\mu_0 I}{2r} \text{ or } I = \frac{2Br}{\mu_0}$	$\frac{1}{2}$	
$A = \pi r^2 \qquad r = \sqrt{\frac{A}{\pi}}$	$\frac{1}{2}$	
$M = IA$	$\frac{1}{2}$	
$= \frac{2Br}{\mu_0} A$		
$= \frac{2BA}{\mu_0} \sqrt{\frac{A}{\pi}}$	$\frac{1}{2}$	
OR		
b)		
<div><div>i) Deriving the expression for the torque.</div><div>3</div></div> <div><div>ii) 1) Finding the change in radius.</div><div>1</div></div> <div><div>2) Finding the change in time period of Revolution.</div><div>1</div></div>		
i)		
	$\frac{1}{2}$	
\vec{F}_1 and \vec{F}_2 are the forces acting on two arms of the rectangular coil having sides a and b.		
$ \vec{F}_1 = \vec{F}_2 = I b B \qquad (b = \text{length of the arm})$	1	
Forces constitute a couple. The magnitude of Torque on the loop is –		
$\tau = F_1 \frac{a}{2} \sin \theta + F_2 \frac{a}{2} \sin \theta$		
$= I a b B \sin \theta$	$\frac{1}{2}$	
$= I A B \sin \theta$	$\frac{1}{2}$	
$\vec{\tau} = I \vec{A} \times \vec{B}$	$\frac{1}{2}$	

Alternatively



If the plane of the current carrying coil makes an angle α with the magnetic field

$$\vec{F}_{DA} = -\vec{F}_{BC} \text{ (cancel each other) .}$$

Force on the arm DC is into the plane of the paper

$$|F_{DC}| = IbB .$$

Force on the arm AB is out of the plane of the paper.

$$|F_{AB}| = IbB$$

Both of them form a couple and Torque acting on the coil is

τ = either force \times perpendicular distance between the two forces.

$$\tau = IbB \times a \cos \alpha$$

$$= IabB \cos \alpha$$

$$\tau = IAB \cos \alpha$$

Let \hat{n} = outward drawn normal to the plane of the coil.

$$\theta + \alpha = 90^\circ$$

$$\alpha = 90^\circ - \theta$$

$$\tau = IAB \cos(90 - \theta)$$

$$= IAB \sin \theta$$

$$\vec{\tau} = I\vec{A} \times \vec{B}$$

$$\text{ii) 1) } r = \frac{mv}{qB} = \frac{\sqrt{2mK}}{qB}$$

$$r \propto \sqrt{K}$$

$$\frac{r'}{r} = \frac{\sqrt{K/2}}{\sqrt{K}} = \frac{1}{\sqrt{2}}$$

$$r' = \frac{r}{\sqrt{2}}$$

1/2

1/2

1/2

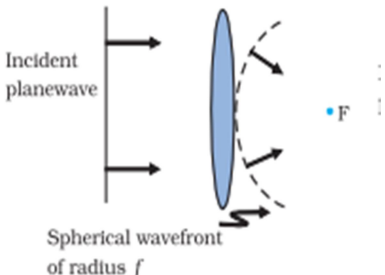
1/2

1/2

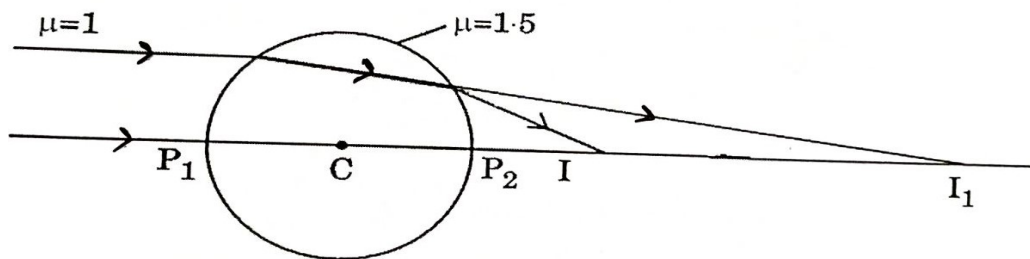
1/2

1/2

1/2

	2) $T = \frac{2\pi m}{qB}$ Time period does not depend on Kinetic Energy \therefore Time period will not change.	$\frac{1}{2}$ $\frac{1}{2}$	5
33	<div>a)<div><div>i) 1) Definition of coherent sources.1 Necessity of coherent sources for sustained interference pattern1 2) Explanation1 ii) 1) Finding distance between adjacent bright fringes.1 2) Finding angular width1</div></div><div>i) 1) If the phase difference between the displacement produced by each of the wave from two sources does not change with time then two sources are said to be coherent. Alternatively Two sources are said to be coherent if they emit light continuously of same frequency / wavelength and having zero or constant phase difference. Coherent sources are required to get constant phase difference. 2) Two independent sources will never be coherent because phase difference between them will not be constant. ii) 1) Distance between adjacent bright fringe = fringe width $\beta = \frac{\lambda D}{d}$$= \frac{600 \times 10^{-9} \times 1.2}{0.1 \times 10^{-3}} = 7.2 \text{ mm}$ 2) $\theta = \frac{\lambda}{d}$$= \frac{600 \times 10^{-9}}{0.1 \times 10^{-3}} = 6 \times 10^{-3} \text{ rad} = 0.34^\circ$ Give full marks if the student writes the answer in radians only. OR b)<div><div>i) Definition of wave front.1 Drawing the incident and refracted wave front$\frac{1}{2} + \frac{1}{2}$ ii) Drawing the ray diagram1 Obtaining the position of final image2</div></div><div>i) A wavefront is a locus of all the points which oscillate in phase. </div></div></div>	1 $\frac{1}{2}$ $\frac{1}{2}$ $\frac{1}{2}$ $\frac{1}{2}$ <	

ii)



From 1st surface, Refraction is from rarer to denser medium and object is at ∞

$$n_1 = 1, \quad n_2 = 1.5, \quad R = 15 \text{ cm}, \quad u = \infty$$

$$\frac{n_2}{v} - \frac{n_1}{u} = \frac{n_2 - n_1}{R}$$

$$\frac{1.5}{v} - \frac{1}{\infty} = \frac{1.5 - 1}{15}$$

$$v = 45 \text{ cm}$$

From 2nd surface, Refraction is from denser to rarer medium and object is at 15 cm

$$n_1 = 1.5, \quad n_2 = 1, \quad R = -15 \text{ cm}, \quad u = 15 \text{ cm}$$

$$\frac{n_1}{v} - \frac{n_2}{u} = \frac{n_1 - n_2}{R}$$

$$\frac{1.5}{v} - \frac{1}{15} = \frac{1.5 - 1}{-15}$$

$$v = 7.5 \text{ cm}$$

1

$\frac{1}{2}$

$\frac{1}{2}$

$\frac{1}{2}$

$\frac{1}{2}$


5

Marking Scheme
Strictly Confidential
(For Internal and Restricted use only)
Senior School Certificate Examination, 2025
SUBJECT NAME PHYSICS (PAPER CODE 55/1/2)

General Instructions: -

1	You are aware that evaluation is the most important process in the actual and correct assessment of the candidates. A small mistake in evaluation may lead to serious problems which may affect the future of the candidates, education system and teaching profession. To avoid mistakes, it is requested that before starting evaluation, you must read and understand the spot evaluation guidelines carefully.
2	“Evaluation policy is a confidential policy as it is related to the confidentiality of the examinations conducted, Evaluation done and several other aspects. Its’ leakage to public in any manner could lead to derailment of the examination system and affect the life and future of millions of candidates. Sharing this policy/document to anyone, publishing in any magazine and printing in News Paper/Website etc may invite action under various rules of the Board and IPC.”
3	Evaluation is to be done as per instructions provided in the Marking Scheme. It should not be done according to one’s own interpretation or any other consideration. Marking Scheme should be strictly adhered to and religiously followed. However, while evaluating, answers which are based on latest information or knowledge and/or are innovative, they may be assessed for their correctness otherwise and due marks be awarded to them. In class-X, while evaluating two competency-based questions, please try to understand given answer and even if reply is not from marking scheme but correct competency is enumerated by the candidate, due marks should be awarded.
4	The Marking scheme carries only suggested value points for the answers. These are in the nature of Guidelines only and do not constitute the complete answer. The students can have their own expression and if the expression is correct, the due marks should be awarded accordingly.
5	The Head-Examiner must go through the first five answer books evaluated by each evaluator on the first day, to ensure that evaluation has been carried out as per the instructions given in the Marking Scheme. If there is any variation, the same should be zero after deliberation and discussion. The remaining answer books meant for evaluation shall be given only after ensuring that there is no significant variation in the marking of individual evaluators.
6	Evaluators will mark($\sqrt{}$) wherever answer is correct. For wrong answer CROSS ‘X” be marked. Evaluators will not put right (✓) while evaluating which gives an impression that answer is correct and no marks are awarded. This is most common mistake which evaluators are committing.
7	If a question has parts, please award marks on the right-hand side for each part. Marks awarded for different parts of the question should then be totaled up and written in the left-hand margin and encircled. This may be followed strictly.
8	If a question does not have any parts, marks must be awarded in the left-hand margin and encircled. This may also be followed strictly.
9	If a student has attempted an extra question, answer of the question deserving more marks should be retained and the other answer scored out with a note “Extra Question” .
10	No marks to be deducted for the cumulative effect of an error. It should be penalized only once.
11	A full scale of marks <u>70</u> (example 0 to 80/70/60/50/40/30 marks as given in Question Paper) has to be used. Please do not hesitate to award full marks if the answer

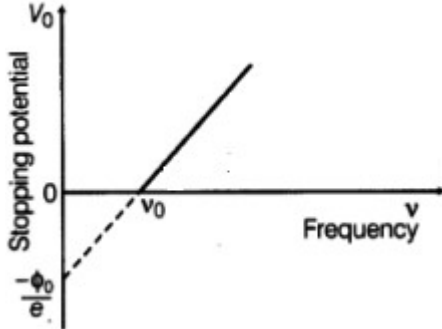
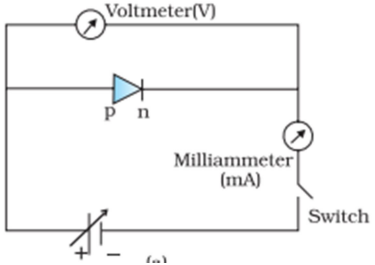
	deserves it.
12	Every examiner has to necessarily do evaluation work for full working hours i.e., 8 hours every day and evaluate 20 answer books per day in main subjects and 25 answer books per day in other subjects (Details are given in Spot Guidelines). This is in view of the reduced syllabus and number of questions in question paper.
13	<p>Ensure that you do not make the following common types of errors committed by the Examiner in the past:-</p> <ul style="list-style-type: none"> • Leaving answer or part thereof unassessed in an answer book. • Giving more marks for an answer than assigned to it. • Wrong totaling of marks awarded on an answer. • Wrong transfer of marks from the inside pages of the answer book to the title page. • Wrong question wise totaling on the title page. • Wrong totaling of marks of the two columns on the title page. • Wrong grand total. • Marks in words and figures not tallying/not same. • Wrong transfer of marks from the answer book to online award list. • Answers marked as correct, but marks not awarded. (Ensure that the right tick mark is correctly and clearly indicated. It should merely be a line. Same is with the X for incorrect answer.) • Half or a part of answer marked correct and the rest as wrong, but no marks awarded.
14	While evaluating the answer books if the answer is found to be totally incorrect, it should be marked as cross (X) and awarded zero (0) Marks.
15	Any un assessed portion, non-carrying over of marks to the title page, or totaling error detected by the candidate shall damage the prestige of all the personnel engaged in the evaluation work as also of the Board. Hence, in order to uphold the prestige of all concerned, it is again reiterated that the instructions be followed meticulously and judiciously.
16	The Examiners should acquaint themselves with the guidelines given in the “ Guidelines for spot Evaluation ” before starting the actual evaluation.
17	Every Examiner shall also ensure that all the answers are evaluated, marks carried over to the title page, correctly totaled and written in figures and words.
18	The candidates are entitled to obtain photocopy of the Answer Book on request on payment of the prescribed processing fee. All Examiners/Additional Head Examiners/Head Examiners are once again reminded that they must ensure that evaluation is carried out strictly as per value points for each answer as given in the Marking Scheme.

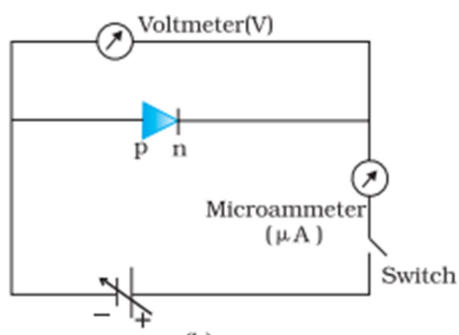
MARKING SCHEME: PHYSICS(042)			
Code: 55/1/2			
Q.No.	VALUE POINTS/EXPECTED ANSWERS	Marks	Total Marks
	SECTION A		
1	(C) C	1	1
2	(B) Using a wire of same radius and half length.	1	1
3	(B) $(-3\hat{j}+2\hat{k})\mu\text{N}$	1	1
4	(C) 2	1	1
5	(B) 2866	1	1
6	(D) $\frac{i_0 v_0}{2} \cos \phi$	1	1
7	(B) Speed Remains same Wavelength Decreases Frequency Increases	1	1
8	(A) medium '1' and at an angle greater than $\sin^{-1} \left(\frac{v_1}{v_2} \right)$	1	1
9	(A) 10^{16}	1	1
10	(A) 	1	1
11	(C) The barrier height and the depletion layer width both decrease.	1	1
12	(B) $\lambda_e > \lambda_p > \lambda_d$	1	1
13	(D) Assertion (A) is false and Reason (R) is also false.	1	1
14	(C) Assertion (A) is true but Reason (R) is false.	1	1
15	(A) Both Assertion (A) and Reason (R) are true and Reason (R) is the correct explanation of Assertion (A).	1	1
16	A) Both Assertion (A) and Reason (R) are true and Reason (R) is the correct explanation of Assertion (A).	1	1
	SECTION - B		
17	<div style="border: 1px solid black; padding: 5px; display: inline-block;"> Obtaining Ohm's law from $\vec{E} = \rho \vec{j}$ 1 ½ Writing the condition ½ </div> $\vec{E} = \rho \vec{j}$ $\frac{V}{l} = \rho \frac{I}{A}$	½ ½	

[illegible]

	<div> <div> (b) <div> <div> (i) Finding the relation</div> <div> (i) between R' and R <div>1</div> </div> </div> <div> (ii) between v_d' and v_d <div>1</div> </div> </div> <div> (ii) To identify whether all free electrons are moving in the same direction. <div>1</div> </div> </div> <div> (i) $l' = 2l$ $Al = A'l' = \text{volume of the wire}$ $Al = A'(2l)$ $\frac{A}{2} = A'$ $R = \frac{\rho l}{A}$ $R' = \frac{\rho l'}{A'}$ $R' = \frac{\rho(2l)}{A/2}$ $\frac{R'}{R} = 4$ Alternatively $R' = n^2 R$ $n = 2$ $R' = 4R$ (ii) $v_d = \frac{eE}{m} \tau$ $v_d = \frac{eV}{ml} \tau$ $v_d' = \frac{eV}{ml'} \tau$ $\frac{v_d'}{v_d} = \frac{l}{l'} = \frac{1}{2}$ </div> <div> (ii) No </div>	<div> <div>1/2</div> <div>1/2</div> <div>1/2</div> <div>1/2</div> <div>1/2</div> <div>1/2</div> <div>1/2</div> <div>1</div> </div>	<div> <div>3</div> </div>
23	<div> <div> a) Defining magnetic moment <div>1</div> </div> <div> SI unit of magnetic moment <div>1/2</div> </div> </div> <div> b) Finding the magnitude of magnetic field <div>1 1/2</div> </div> <div> a) Magnetic moment of a current carrying coil is defined as the product of </div>	<div> <div>1</div> </div>	

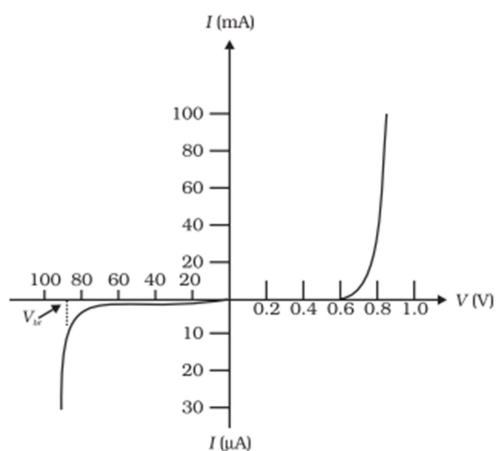
	<p>Considering Reverse case, when I_1 current is set up in S_1, flux linkage with S_2 is –</p> $N_2\phi_2 = M_{21}I_1 \quad \text{--(iii)}$ $N_2\phi_2 = (n_2l)(\mu r_1^2)(\mu_0 n_1 I_1) \quad \text{--(iv)}$ <p>From (iii) and (iv)</p> $M_{21} = n_1 n_2 \mu r_1^2 l$ $\therefore M_{12} = M_{21}$	$\frac{1}{2}$	
		$\frac{1}{2}$	3
25	<div style="border: 1px solid black; padding: 5px; margin-bottom: 10px;"> <p>a) Showing that $(I_c + I_d)$ has the same value. 2</p> <p>b) Explanation of Kirchhoff's first rule at each plate of capacitor. 1</p> </div> <p>a) \therefore Total current $I = I_c + I_d$ outside the capacitor $I_d = 0$ $\therefore I = I_c$ Inside the capacitor $I_c = 0$</p> $\therefore I = I_d = \epsilon_0 \frac{d\phi_E}{dt}$ $= \epsilon_0 \frac{d}{dt}[EA]$ $= \epsilon_0 \frac{d}{dt}\left[\frac{\sigma}{\epsilon_0} A\right]$ $= \frac{\epsilon_0}{\epsilon_0} A \frac{d}{dt}\left[\frac{Q}{A}\right]$ $I = \frac{dQ}{dt} = I_c$ <p>Alternatively \therefore Total current $I = I_c + I_d$ outside the capacitor $I_d = 0$ $\therefore I = I_c$ Inside the capacitor $I_c = 0$</p> $I = I_d = \epsilon_0 \frac{d\phi_E}{dt}$ $= \epsilon_0 \frac{d}{dt}\left[\frac{Q}{\epsilon_0}\right]$ $I = \frac{dQ}{dt} = I_c$ <p>hence $I_c + I_d$ has the same value at all points of the circuit.</p>	$\frac{1}{2}$	
		$\frac{1}{2}$	
		$\frac{1}{2}$	
		$\frac{1}{2}$	
		$\frac{1}{2}$	
		$\frac{1}{2}$	
		$\frac{1}{2}$	
		$\frac{1}{2}$	

	<p>b) Yes Current entering the capacitor is (I_c) and between the plates capacitor is (I_d) $I_c = I_d$ which validates Kirchhoff's junction rule.</p>	1	3
26	<div> <p>a) Drawing a plot of frequency(ν) as a function of stopping potential (V_0) 1 Obtaining information from intercept $\frac{1}{2}$</p> <p>b) Calculating i) the momentum 1 ii) de Broglie wavelength $\frac{1}{2}$</p> </div> <p>a)</p>  <p>Value of work function can be obtained from intercept.</p> <p>b) i) $p = \sqrt{2mK}$ $= \sqrt{2 \times 9.1 \times 10^{-31} \times 80 \times 1.6 \times 10^{-19}}$ $= 4.8 \times 10^{-24} \text{ kg m/s}$</p> <p>ii) $\lambda = \frac{h}{p} = \frac{6.63 \times 10^{-34}}{4.8 \times 10^{-25}} = 1.38 \times 10^{-9} \text{ m}$</p>	1 $\frac{1}{2}$ $\frac{1}{2}$ $\frac{1}{2}$ $\frac{1}{2}$	3
27	<div> <p>a) Circuit Arrangement for studying V–I characteristics. 1</p> <p>b) Showing the shape of characteristic curves. 1</p> <p>c) Two informations from the characteristics $\frac{1}{2} + \frac{1}{2}$</p> </div> <p>a)</p>  <p>Circuit diagram for forward characteristics</p>	$\frac{1}{2}$	



Circuit diagram for Reverse characteristics

b)



Note : Please do not deduct marks for not writing values.

c) Any two informations

Knee voltage / reverse saturation current / Breakdown voltage / very low resistance in forward biasing / very high resistance in Reverse biasing.

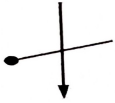
28

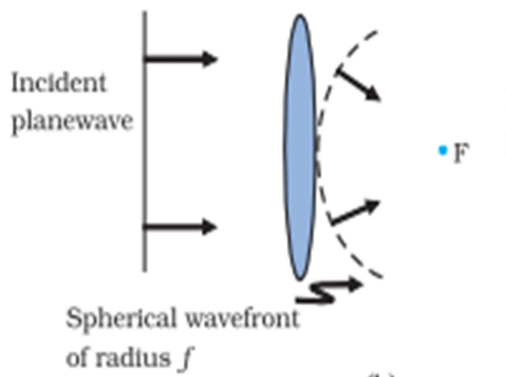
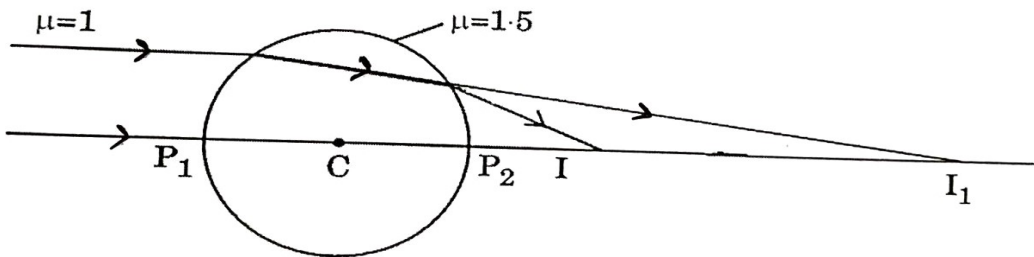
- | | | |
|----|----------------------------|---|
| a) | Defining Mass Defect | ½ |
| | Defining Binding Energy | ½ |
| | Describing Fission Process | ½ |
| b) | Calculation of Mass Defect | 1 |
| | Calculation of Energy | ½ |

a) Difference in the mass of the nucleus and its constituents is defined as mass defect.

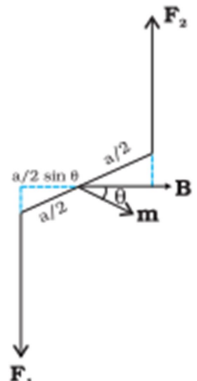
Binding Energy is the energy required to separate the nucleons from the nucleus.

In Fission process a heavy nucleus splits into lighter nuclei and energy is released. As a result the Binding Energy per nucleon increases.

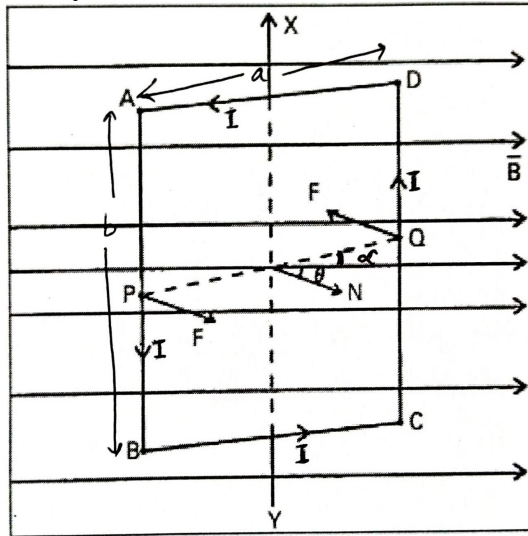
	b) $\Delta m = (m_p + m_n) - m_d$ $\Delta m = (1.007277 + 1.008665) - 2.013553$ $\Delta m = 0.002389 \text{ u}$ Energy released $= \Delta m \times c^2$ Energy released $= 0.002389 \times 931.5$ $= 2.2253 \text{ MeV} \approx 2.22 \text{ MeV}$	$\frac{1}{2}$ $\frac{1}{2}$ $\frac{1}{2}$	3
	SECTION - D		
29	i) (C)  ii) (A) For a convex mirror magnification is always negative iii) (B) $2f$ OR (B) 12 cm iv) (C) $\sqrt{X_1 X_2}$	1 1 1 1	4
30	i) (B) 5mC ii) (A) zero iii) (D) $[M^0 L^0 T A^0]$ iv) (A) $\frac{1}{2\sqrt{e}} \text{ mA}$ Note: 1 mark for this part may be given to all the students who have attempted other parts of the question. OR (B) 0.5 mA	1 1 1 1	4
	SECTION - E		
31	a) <div style="border: 1px solid black; padding: 5px; margin: 5px;"> i) 1) Definition of coherent sources. 1 Necessity of coherent sources for sustained interference pattern 1 2) Explanation 1 ii) 1) Finding distance between adjacent bright fringes. 1 2) Finding angular width 1 </div> i) 1) If the phase difference between the displacement produced by each of the wave from two sources does not change with time then two sources are said to be coherent. Alternatively Two sources are said to be coherent if they emit light continuously of same frequency / wavelength and having zero or constant phase difference. Coherent sources are required to get constant phase difference. 2) Two independent sources will never be coherent because phase difference between them will not be constant. ii) 1) Distance between adjacent bright fringe = fringe width	 1 1 1	

<div>$\beta = \frac{\lambda D}{d}$$= \frac{600 \times 10^{-9} \times 1.2}{0.1 \times 10^{-3}} = 7.2 \text{ mm}$</div> <div>2) $\theta = \frac{\lambda}{d}$$= \frac{600 \times 10^{-9}}{0.1 \times 10^{-3}} = 6 \times 10^{-3} \text{ rad} = 0.34^\circ$</div> <div>Give full marks if the student writes the answer in radians only. OR</div> <div>b)</div> <div><table><tr><td>i) Definition of wave front.</td><td>1</td></tr><tr><td>Drawing the incident and refracted wave front</td><td>$\frac{1}{2} + \frac{1}{2}$</td></tr><tr><td>ii) Drawing the ray diagram</td><td>1</td></tr><tr><td>Obtaining the position of final image</td><td>2</td></tr></table></div> <div><div>i) A wavefront is a locus of all the points which oscillate in phase.</div><div></div><div>ii)</div><div></div><div><div>From Ist surface , Refraction is from rarer to denser medium and object is at ∞ $n_1 = 1$, $n_2 = 1.5$, $R = 15 \text{ cm}$, $u = \infty$ $\frac{n_2}{v} - \frac{n_1}{u} = \frac{n_2 - n_1}{R}$</div></div></div>	i) Definition of wave front.	1	Drawing the incident and refracted wave front	$\frac{1}{2} + \frac{1}{2}$	ii) Drawing the ray diagram	1	Obtaining the position of final image	2	<div>$\frac{1}{2}$</div> <div>$\frac{1}{2}$</div> <div>$\frac{1}{2}$</div> <div>$\frac{1}{2}$</div> <div>1</div> <div>$\frac{1}{2} + \frac{1}{2}$</div> <div>1</div> <div>$\frac{1}{2}$</div>
i) Definition of wave front.	1								
Drawing the incident and refracted wave front	$\frac{1}{2} + \frac{1}{2}$								
ii) Drawing the ray diagram	1								
Obtaining the position of final image	2								

	<div>b)</div> <div><div><div>i) Comparing the magnitude of the Electric fields</div><div>ii) Calculating the work done on the charge</div></div><div><div>2</div><div>3</div></div></div> <div>Total charge for A = Total charge for B = Total charge for C = +4q</div> <div>As , $E = \frac{kQ}{r^2}$</div> <div>Since $Q = 4q$ and $r = 3R$</div> <div>$E = \frac{k(4q)}{9R^2} = \frac{4kq}{9R^2}$</div> <div>$\therefore E_A = E_B = E_c$</div> <div>ii) $V_c = \left[\frac{k \times 6 \times 10^{-6}}{5 \times 10^{-2}} - \frac{k \times 6 \times 10^{-6}}{5 \times 10^{-2}} \right]$</div> <div>$= 0$</div> <div>$V_A = \left[\frac{k \times 6 \times 10^{-6}}{15 \times 10^{-2}} - \frac{k \times 6 \times 10^{-6}}{5 \times 10^{-2}} \right]$</div> <div>$= \frac{k \times 6 \times 10^{-6}}{10^{-2}} \left[\frac{1-3}{15} \right]$</div> <div>$= - \frac{9 \times 10^9 \times 6 \times 10^{-6} \times 2}{15 \times 10^{-2}}$</div> <div>$= - 7.2 \times 10^5 \text{ V}$</div> <div>$W = q[V_A - V_c]$</div> <div>$= 5 \times 10^{-6} [-7.2 \times 10^5 - 0]$</div> <div>$W = - 3.6 \text{ J}$</div>	<div>1</div> <div><div><div><div>$\frac{1}{2}$</div><div>$\frac{1}{2}$</div><div>1</div><div>$\frac{1}{2}$</div><div>$\frac{1}{2}$</div><div>$\frac{1}{2}$</div></div></div></div> <div>5</div>
33	<div>a)</div> <div><div><div>i) Finding the direction of magnetic field near points P,Q and R</div><div>Conclusion about the relative magnitude of magnetic field.</div><div>ii) Showing the given expression of magnetic moment.</div></div><div><div>$\frac{1}{2} + \frac{1}{2} + \frac{1}{2}$</div><div>$\frac{1}{2} + \frac{1}{2} + \frac{1}{2}$</div><div>2</div></div></div> <div>i) <u>Near point P</u></div> <div>Magnetic field is acting into the plane of the paper as Force is acting upwards.</div> <div><u>Near point Q</u></div> <div>Magnetic field is into the plane of paper as force is acting upwards.</div> <div><u>Near point R</u></div> <div>Magnetic field is acting out of the plane of the paper as \vec{F} is acting downwards.</div> <div><u>Relative Magnitude of the Magnetic field.</u></div> <div>As $B \propto \frac{1}{r}$</div> <div>Therefore,</div> <div>Near point P, magnitude of B is small.</div> <div>Near point Q, B is relatively smaller than point P.</div>	<div>$\frac{1}{2}$</div> <div>$\frac{1}{2}$</div> <div>$\frac{1}{2}$</div> <div>$\frac{1}{2}$</div> <div>$\frac{1}{2}$</div>

<p>Near point R, B is relatively larger than point P. ($B_Q < B_P < B_R$)</p> <p>ii) Let r be the radius of the circular coil and I is the current in the coil then</p> $B = \frac{\mu_0 I}{2r} \text{ or } I = \frac{2Br}{\mu_0}$ $A = \pi r^2 \quad r = \sqrt{\frac{A}{\pi}}$ $M = IA$ $= \frac{2Br}{\mu_0} A$ $= \frac{2BA}{\mu_0} \sqrt{\frac{A}{\pi}}$ <p style="text-align: center;">OR</p> <p>b)</p> <table border="1" style="margin-left: auto; margin-right: auto;"> <tr> <td>i) Deriving the expression for the torque.</td> <td style="text-align: right;">3</td> </tr> <tr> <td>ii) 1) Finding the change in radius.</td> <td style="text-align: right;">1</td> </tr> <tr> <td>2) Finding the change in time period of Revolution.</td> <td style="text-align: right;">1</td> </tr> </table> <p>i)</p> <div style="text-align: center;">  </div> <p>\vec{F}_1 and \vec{F}_2 are the forces acting on two arms of the rectangular coil having sides a and b.</p> $ \vec{F}_1 = \vec{F}_2 = I b B \quad (b = \text{length of the arm})$ <p>Forces constitute a couple. The magnitude of Torque on the loop is –</p> $\tau = F_1 \frac{a}{2} \sin \theta + F_2 \frac{a}{2} \sin \theta$ $= I a b B \sin \theta$ $= I A B \sin \theta$ $\vec{\tau} = I \vec{A} \times \vec{B}$	i) Deriving the expression for the torque.	3	ii) 1) Finding the change in radius.	1	2) Finding the change in time period of Revolution.	1	<p>$\frac{1}{2}$</p> <p>$\frac{1}{2}$</p> <p>$\frac{1}{2}$</p> <p>$\frac{1}{2}$</p> <p></p> <p></p> <p>$\frac{1}{2}$</p> <p></p> <p>1</p> <p>$\frac{1}{2}$</p> <p>$\frac{1}{2}$</p> <p>$\frac{1}{2}$</p>	
i) Deriving the expression for the torque.	3							
ii) 1) Finding the change in radius.	1							
2) Finding the change in time period of Revolution.	1							

Alternatively



1/2

If the plane of the current carrying coil makes an angle α with the magnetic field

$\vec{F}_{DA} = -\vec{F}_{BC}$ (cancel each other) .

1/2

Force on the arm DC is into the plane of the paper

$$|F_{DC}| = IbB .$$

1/2

Force on the arm AB is out of the plane of the paper.

$$|F_{AB}| = IbB$$

1/2

Both of them form a couple and Torque acting on the coil is

$\tau = \text{either force} \times \text{perpendicular distance between the two forces.}$

$$\tau = IbB \times a \cos \alpha$$

$$= IabB \cos \alpha$$

$$\tau = IAB \cos \alpha$$

1/2

Let \hat{n} = outward drawn normal to the plane of the coil.

$$\theta + \alpha = 90^\circ$$

$$\alpha = 90^\circ - \theta$$

$$\tau = IAB \cos(90 - \theta)$$

$$= IAB \sin \theta$$

$$\vec{\tau} = I\vec{A} \times \vec{B}$$

1/2

$$\text{ii) 1) } r = \frac{mv}{qB} = \frac{\sqrt{2mK}}{qB}$$

1/2

$$\begin{aligned} r &\propto \sqrt{K} \\ \frac{r'}{r} &= \frac{\sqrt{K/2}}{\sqrt{K}} = \frac{1}{\sqrt{2}} \end{aligned}$$

$$r' = \frac{r}{\sqrt{2}}$$

1/2

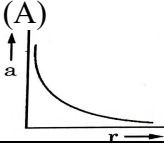
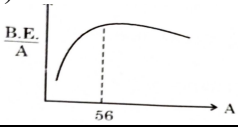
	2) $T = \frac{2\pi m}{qB}$ Time period does not depend on Kinetic Energy \therefore Time period will not change.	$\frac{1}{2}$ $\frac{1}{2}$	5
--	--	--------------------------------	---

Marking Scheme
Strictly Confidential
(For Internal and Restricted use only)
Senior School Certificate Examination, 2025
SUBJECT NAME PHYSICS (PAPER CODE 55/1/3)

General Instructions: -

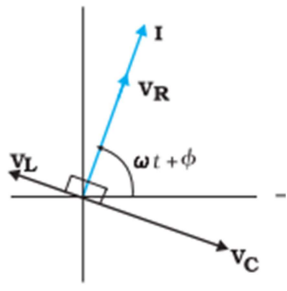
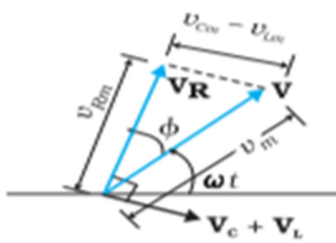
1	You are aware that evaluation is the most important process in the actual and correct assessment of the candidates. A small mistake in evaluation may lead to serious problems which may affect the future of the candidates, education system and teaching profession. To avoid mistakes, it is requested that before starting evaluation, you must read and understand the spot evaluation guidelines carefully.
2	“Evaluation policy is a confidential policy as it is related to the confidentiality of the examinations conducted, Evaluation done and several other aspects. Its’ leakage to public in any manner could lead to derailment of the examination system and affect the life and future of millions of candidates. Sharing this policy/document to anyone, publishing in any magazine and printing in News Paper/Website etc may invite action under various rules of the Board and IPC.”
3	Evaluation is to be done as per instructions provided in the Marking Scheme. It should not be done according to one’s own interpretation or any other consideration. Marking Scheme should be strictly adhered to and religiously followed. However, while evaluating, answers which are based on latest information or knowledge and/or are innovative, they may be assessed for their correctness otherwise and due marks be awarded to them. In class-X, while evaluating two competency-based questions, please try to understand given answer and even if reply is not from marking scheme but correct competency is enumerated by the candidate, due marks should be awarded.
4	The Marking scheme carries only suggested value points for the answers. These are in the nature of Guidelines only and do not constitute the complete answer. The students can have their own expression and if the expression is correct, the due marks should be awarded accordingly.
5	The Head-Examiner must go through the first five answer books evaluated by each evaluator on the first day, to ensure that evaluation has been carried out as per the instructions given in the Marking Scheme. If there is any variation, the same should be zero after deliberation and discussion. The remaining answer books meant for evaluation shall be given only after ensuring that there is no significant variation in the marking of individual evaluators.
6	Evaluators will mark($\sqrt{}$) wherever answer is correct. For wrong answer CROSS ‘X” be marked. Evaluators will not put right (✓) while evaluating which gives an impression that answer is correct and no marks are awarded. This is most common mistake which evaluators are committing.
7	If a question has parts, please award marks on the right-hand side for each part. Marks awarded for different parts of the question should then be totaled up and written in the left-hand margin and encircled. This may be followed strictly.
8	If a question does not have any parts, marks must be awarded in the left-hand margin and encircled. This may also be followed strictly.
9	If a student has attempted an extra question, answer of the question deserving more marks should be retained and the other answer scored out with a note “Extra Question” .
10	No marks to be deducted for the cumulative effect of an error. It should be penalized only once.
11	A full scale of marks <u>70</u> (example 0 to 80/70/60/50/40/30 marks as given in Question Paper) has to be used. Please do not hesitate to award full marks if the answer

	deserves it.
12	Every examiner has to necessarily do evaluation work for full working hours i.e., 8 hours every day and evaluate 20 answer books per day in main subjects and 25 answer books per day in other subjects (Details are given in Spot Guidelines). This is in view of the reduced syllabus and number of questions in question paper.
13	<p>Ensure that you do not make the following common types of errors committed by the Examiner in the past:-</p> <ul style="list-style-type: none"> • Leaving answer or part thereof unassessed in an answer book. • Giving more marks for an answer than assigned to it. • Wrong totaling of marks awarded on an answer. • Wrong transfer of marks from the inside pages of the answer book to the title page. • Wrong question wise totaling on the title page. • Wrong totaling of marks of the two columns on the title page. • Wrong grand total. • Marks in words and figures not tallying/not same. • Wrong transfer of marks from the answer book to online award list. • Answers marked as correct, but marks not awarded. (Ensure that the right tick mark is correctly and clearly indicated. It should merely be a line. Same is with the X for incorrect answer.) • Half or a part of answer marked correct and the rest as wrong, but no marks awarded.
14	While evaluating the answer books if the answer is found to be totally incorrect, it should be marked as cross (X) and awarded zero (0) Marks.
15	Any un assessed portion, non-carrying over of marks to the title page, or totaling error detected by the candidate shall damage the prestige of all the personnel engaged in the evaluation work as also of the Board. Hence, in order to uphold the prestige of all concerned, it is again reiterated that the instructions be followed meticulously and judiciously.
16	The Examiners should acquaint themselves with the guidelines given in the “ Guidelines for spot Evaluation ” before starting the actual evaluation.
17	Every Examiner shall also ensure that all the answers are evaluated, marks carried over to the title page, correctly totaled and written in figures and words.
18	The candidates are entitled to obtain photocopy of the Answer Book on request on payment of the prescribed processing fee. All Examiners/Additional Head Examiners/Head Examiners are once again reminded that they must ensure that evaluation is carried out strictly as per value points for each answer as given in the Marking Scheme.

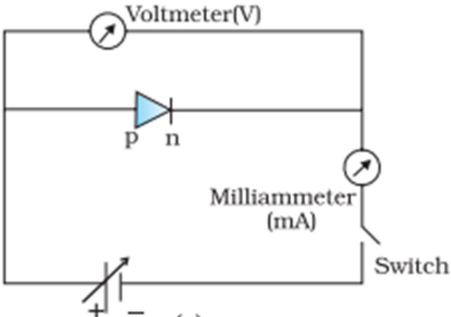
MARKING SCHEME: PHYSICS(042)			
Code: 55/1/3			
Q.No.	VALUE POINTS/EXPECTED ANSWERS	Marks	Total Marks
SECTION A			
1	(A) 	1	1
2	(A) 2	1	1
3	(B) $(-3\hat{j}+2\hat{k})\mu\text{N}$	1	1
4	(D) 0.1 A	1	1
5	(B) 2866	1	1
6	(D) $\frac{i_0 v_0}{2} \cos \phi$	1	1
7	(B) have wavelength smaller than that of ultraviolet radiation	1	1
8	(B) $\frac{\pi H^2}{(n^2-1)}$	1	1
9	(C) 2.5eV	1	1
10	(C) The barrier height and the depletion layer width both decrease.	1	1
11	(B) $\lambda_e > \lambda_p > \lambda_d$	1	1
12	(A) 	1	1
13	(C) Assertion (A) is true but Reason (R) is false.	1	1
14	(D) Assertion (A) is false and Reason (R) is also false.	1	1
15	(A) Both Assertion (A) and Reason (R) are true and Reason (R) is the correct explanation of Assertion(A).	1	1
16	(A) Both Assertion (A) and Reason (R) are true and Reason (R) is the correct explanation of Assertion(A).	1	1
SECTION - B			
17	<div style="border: 1px solid black; padding: 5px; margin-bottom: 10px;"> Calculating the potential difference 2 </div> <p>Net e.m.f = (n-4)E</p> $\therefore I = \frac{(n-4)E}{nr}$ <p>Potential difference across ' X'</p> $V = E + Ir$	<div style="text-align: center;">1/2</div> <div style="text-align: center;">1/2</div>	

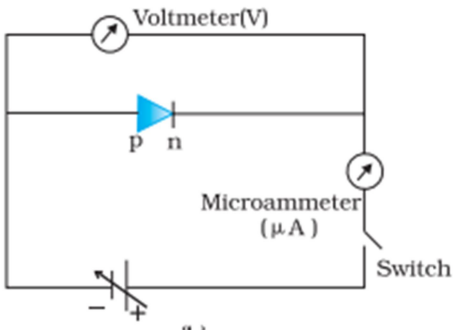
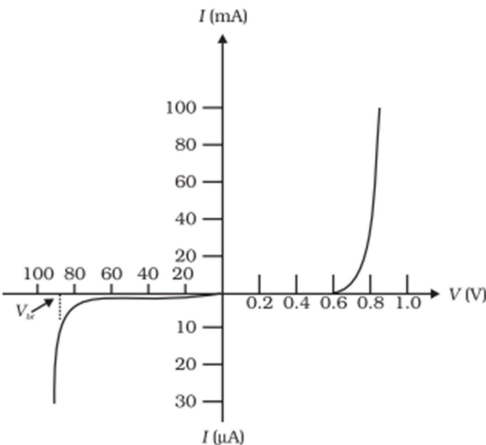
	$= E + \frac{(n-4)E}{nr} \times r$ $= \frac{(2n-4)E}{n}$	½ ½	2
18	<p>(a)</p> <div style="border: 1px solid black; padding: 5px; margin-bottom: 10px;">Calculating the width of the slit 2</div> <p>Condition for Minima $a \sin\theta = n\lambda$ For First Minima $n=1$ $a \sin 30^\circ = 600 \times 10^{-9} \text{ m}$ $a \times \frac{1}{2} = 600 \times 10^{-9} \text{ m}$ $a = 1200 \times 10^{-9} \text{ m}$ $= 1.2 \times 10^{-6} \text{ m}$</p> <p>OR</p> <p>(b)</p> <div style="border: 1px solid black; padding: 5px; margin-bottom: 10px;">Finding the Intensity 2</div> <p>Phase difference = $\frac{2\pi}{\lambda} \times \text{path difference}$</p> $\Delta\phi = \frac{2\pi}{\lambda} \Delta x$ $\therefore \Delta x = \frac{\lambda}{8} \text{ (given)}$ $\Delta\phi = \frac{2\pi}{\lambda} \times \frac{\lambda}{8}$ $\Delta\phi = \frac{\pi}{4}$ $I = I_o + I_o + 2\sqrt{I_o I_o} \cos \frac{\pi}{4}$ $= 2I_o + 2I_o \times \frac{1}{\sqrt{2}}$ $I = 2I_o \left(1 + \frac{1}{\sqrt{2}}\right)$ $= I_o(2 + \sqrt{2})$ $I = 3.414 I_o$ <p>Alternatively</p>	1 ½ ½ ½ ½ ½ ½ ½	

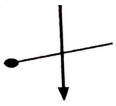
	OR		
(b)	<div><div>(i) Finding the relation</div><div>(i) between R' and R1</div><div>(ii) between V_d' and V_d1</div><div>(ii) To identify whether all free electrons are moving in the same direction.1</div></div>		
(i)	$l' = 2l$ $Al = A'l' = \text{volume of the wire}$ $Al = A'(2l)$ $\frac{A}{2} = A'$ $R = \frac{\rho l}{A}$ $R' = \frac{\rho l'}{A'}$ $R' = \frac{\rho(2l)}{A/2}$ $\frac{R'}{R} = 4$ Alternatively $R' = n^2 R$ $n = 2$ $R' = 4R$ (ii) $v_d = \frac{eE}{m} \tau$ $v_d = \frac{eV}{ml} \tau$ $v_d' = \frac{eV}{ml'} \tau$ $\frac{v_d'}{v_d} = \frac{l}{l'} = \frac{1}{2}$	$\frac{1}{2}$ 	

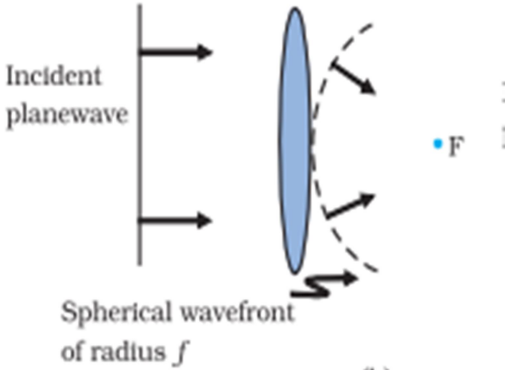
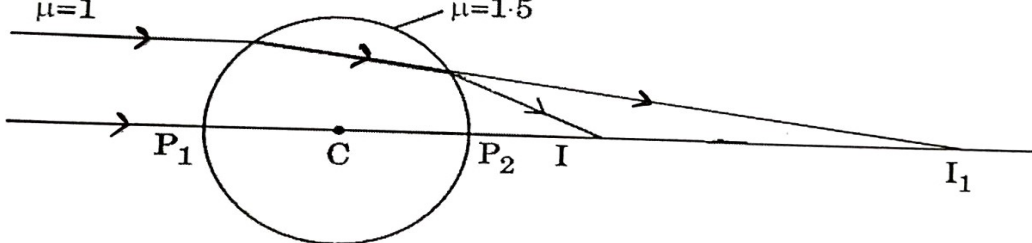
	<p>a) $\vec{B} = \frac{\mu_0 I}{2\pi d} (-\hat{K})$</p> <p>b) $\vec{F}_B = q(\vec{v} \times \vec{B}) = \frac{qv\mu_0 I}{2\pi d} (-\hat{j})$</p> <p>c) $q\vec{F}_e = -\vec{F}_B$ (For undeviation of charge particle)</p> <p>$\therefore \vec{F}_e = \frac{qv\mu_0 I}{2\pi d} (\hat{j})$</p> <p>$\vec{F}_e = q\vec{E}$</p> <p>$\therefore \vec{E} = \frac{\mu_0 v I}{2\pi d} \hat{j}$</p>	1		
		1		
		$\frac{1}{2}$		
		$\frac{1}{2}$		3
24	<div> <div> Drawing phasor diagram Obtaining the expression for Impedance of the circuit Phase difference </div> <div> 1 1 $\frac{1}{2}$ $\frac{1}{2}$ </div> </div> <p>a)</p>  <p>b)</p>  <p>$V_{Rm} = i_m R$, $V_{Cm} = i_m X_c$, $V_{Lm} = i_m X_L$</p> <p>From Phasor diagram</p> <p>$V_m^2 = V_{Rm}^2 + (V_{Cm} - V_{Lm})^2$</p> <p>$V_m^2 = (i_m R)^2 + (i_m X_c - i_m X_L)^2$</p>	$\frac{1}{2} + \frac{1}{2}$		
		$\frac{1}{2}$		

	$= (i_m)^2 [R^2 + (X_c - X_L)^2]$ <p>Or $i_m = \frac{V_m}{\sqrt{R^2 + (X_c - X_L)^2}}$</p> $\therefore i_m = \frac{V_m}{Z}$ $\therefore Z = \sqrt{R^2 + (X_c - X_L)^2}$ <p>From phasor diagram</p> $\tan \theta = \frac{V_{Cm} - V_{Lm}}{V_{Rm}}$ $= \frac{X_c - X_L}{R}$ $\therefore \theta = \tan^{-1} \left(\frac{X_c - X_L}{R} \right)$	1/2	
		1/2	
		1/2	3
25	<div style="border: 1px solid black; padding: 5px;"> <p>a) Showing that ($I_c + I_d$) has the same value. 2</p> <p>b) Explanation of Kirchhoff's first rule at each plate of capacitor. 1</p> </div> <p>a) \therefore Total current $I = I_c + I_d$ outside the capacitor $I_d = 0$ $\therefore I = I_c$ Inside the capacitor $I_c = 0$</p> $\therefore I = I_d = \epsilon_0 \frac{d\phi_E}{dt}$ $= \epsilon_0 \frac{d}{dt} [EA]$ $= \epsilon_0 \frac{d}{dt} \left[\frac{\sigma}{\epsilon_0} A \right]$ $= \frac{\epsilon_0}{\epsilon_0} A \frac{d}{dt} \left[\frac{Q}{A} \right]$ $I = \frac{dQ}{dt} = I_c$ <p>Alternatively \therefore Total current $I = I_c + I_d$ outside the capacitor $I_d = 0$ $\therefore I = I_c$ Inside the capacitor $I_c = 0$</p>	1/2	
		1/2	
		1/2	
		1/2	
		1/2	
		1/2	

	$I = I_d = \epsilon_0 \frac{d\phi_E}{dt}$ $= \epsilon_0 \frac{d}{dt} \left[\frac{Q}{\epsilon_0} \right]$ $I = \frac{dQ}{dt} = I_c$ <p>hence $I_c + I_d$ has the same value at all points of the circuit.</p> <p>b) Yes Current entering the capacitor is (I_c) and between the plates capacitor is (I_d) $I_c = I_d$ which validates Kirchhoff's junction rule.</p>	$\frac{1}{2}$ $\frac{1}{2}$ 1	3
26	<div style="border: 1px solid black; padding: 5px; margin-bottom: 10px;"> <p>a) Mentioning three features 1 $\frac{1}{2}$</p> <p>b) Calculating the value of Planck's constant 1 $\frac{1}{2}$</p> </div> <p>a) Three features</p> <p>i) The existence of threshold frequency (ν_0)</p> <p>ii) Maximum Kinetic energy of photoelectrons is independent of intensity of incident radiation.</p> <p>iii) Instantaneous nature of photoelectric effect.</p> <p>b) slope = $\frac{h}{e}$ $\therefore h = e \times \text{slope}$ $= 1.6 \times 10^{-19} \times 4.12 \times 10^{-15}$ $= 6.6 \times 10^{-34} \text{ Js}$</p>	$\frac{1}{2}$ $\frac{1}{2}$ $\frac{1}{2}$ 1 $\frac{1}{2}$	3
27	<div style="border: 1px solid black; padding: 5px; margin-bottom: 10px;"> <p>a) Circuit Arrangement for studying V–I characteristics. 1</p> <p>b) Showing the shape of characteristic curves. 1</p> <p>c) Two informations from the characteristics $\frac{1}{2} + \frac{1}{2}$</p> </div> <p>a)</p>  <p style="text-align: center;">Circuit diagram for forward characteristics</p>	$\frac{1}{2}$	

	 <p>Circuit diagram for Reverse characteristics</p> <p>b)</p>  <p>Note : Please do not deduct marks for not writing values.</p> <p>c) Any two informations Knee voltage / reverse saturation current / Breakdown voltage / very low resistance in forward biasing / very high resistance in Reverse biasing.</p>	<p>$\frac{1}{2}$</p> <p>1</p> <p>$\frac{1}{2} + \frac{1}{2}$</p>	3
28	<div style="border: 1px solid black; padding: 10px; margin-bottom: 10px;"> <p>a) Defining Mass Defect $\frac{1}{2}$ Defining Binding Energy $\frac{1}{2}$ Describing Fission Process $\frac{1}{2}$</p> <p>b) Calculation of Mass Defect 1 Calculation of Energy $\frac{1}{2}$</p> </div> <p>a) Difference in the mass of the nucleus and its constituents is defined as mass defect. Binding Energy is the energy required to separate the nucleons from the</p>	<p>$\frac{1}{2}$</p> <p>$\frac{1}{2}$</p>	

	<p>nucleus. In Fission process a heavy nucleus splits into lighter nuclei and energy is released. As a result the Binding Energy per nucleon increases.</p> <p>b) $\Delta m = (m_p + m_n) - m_d$ $\Delta m = (1.007277 + 1.008665) - 2.013553$ $\Delta m = 0.002389 \text{ u}$ Energy released = $\Delta m \times c^2$ Energy released = 0.002389×931.5 $= 2.2253 \text{ MeV} \approx 2.22 \text{ MeV}$</p>	$\frac{1}{2}$ $\frac{1}{2}$ $\frac{1}{2}$ $\frac{1}{2}$	3										
	SECTION - D												
29	<p>i) (C)</p>  <p>ii) (A) For a convex mirror magnification is always negative iii) (B) $2f$ OR (B) 12 cm iv) (C) $\sqrt{X_1 X_2}$</p>	1 1 1 1	 4										
30	<p>i) (B) $5mC$ ii) (A) zero iii) (D) $[M^0L^0TA^0]$ iv) (A) $\frac{1}{2\sqrt{e}}mA$</p> <p>Note: 1 mark for this part may be given to all the students who have attempted other parts of the question. OR (B) 0.5 mA</p>	1 1 1 1	 4										
	SECTION - E												
31	<p>a)</p> <table border="1"><tr><td>i) 1) Definition of coherent sources.</td><td>1</td></tr><tr><td>Necessity of coherent sources for sustained interference pattern</td><td>1</td></tr><tr><td>2) Explanation</td><td>1</td></tr><tr><td>ii) 1) Finding distance between adjacent bright fringes.</td><td>1</td></tr><tr><td>2) Finding angular width</td><td>1</td></tr></table> <p>i) 1) If the phase difference between the displacement produced by each of the wave from two sources does not change with time then two sources are said to be coherent. Alternatively Two sources are said to be coherent if they emit light continuously of same frequency / wavelength and having zero or constant phase difference. Coherent sources are required to get constant phase difference. 2) Two independent sources will never be coherent because phase difference between them will not be constant.</p>	i) 1) Definition of coherent sources.	1	Necessity of coherent sources for sustained interference pattern	1	2) Explanation	1	ii) 1) Finding distance between adjacent bright fringes.	1	2) Finding angular width	1	 1 1 1	
i) 1) Definition of coherent sources.	1												
Necessity of coherent sources for sustained interference pattern	1												
2) Explanation	1												
ii) 1) Finding distance between adjacent bright fringes.	1												
2) Finding angular width	1												

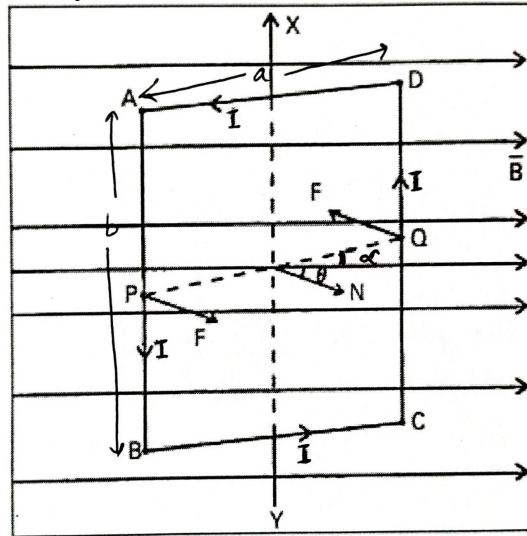
<p>ii) 1) Distance between adjacent bright fringe = fringe width</p> $\beta = \frac{\lambda D}{d}$ $= \frac{600 \times 10^{-9} \times 1.2}{0.1 \times 10^{-3}} = 7.2 \text{ mm}$ <p>2) $\theta = \frac{\lambda}{d}$</p> $= \frac{600 \times 10^{-9}}{0.1 \times 10^{-3}} = 6 \times 10^{-3} \text{ rad} = 0.34^\circ$ <p>Give full marks if the student writes the answer in radians only.</p> <p>OR</p> <p>b)</p> <table border="1"><tr><td>i) Definition of wave front.</td><td>1</td></tr><tr><td>Drawing the incident and refracted wave front</td><td>$\frac{1}{2} + \frac{1}{2}$</td></tr><tr><td>ii) Drawing the ray diagram</td><td>1</td></tr><tr><td>Obtaining the position of final image</td><td>2</td></tr></table> <p>i) A wavefront is a locus of all the points which oscillate in phase.</p>  <p>ii)</p>  <p>From Ist surface , Refraction is from rarer to denser medium and object is at ∞ $n_1 = 1$, $n_2 = 1.5$, $R = 15 \text{ cm}$, $u = \infty$</p>	i) Definition of wave front.	1	Drawing the incident and refracted wave front	$\frac{1}{2} + \frac{1}{2}$	ii) Drawing the ray diagram	1	Obtaining the position of final image	2	<p>$\frac{1}{2}$</p> <p>$\frac{1}{2}$</p> <p>$\frac{1}{2}$</p> <p>$\frac{1}{2}$</p> <p>1</p> <p>$\frac{1}{2} + \frac{1}{2}$</p> <p>1</p>
i) Definition of wave front.	1								
Drawing the incident and refracted wave front	$\frac{1}{2} + \frac{1}{2}$								
ii) Drawing the ray diagram	1								
Obtaining the position of final image	2								

	$\frac{n_2}{v} - \frac{n_1}{u} = \frac{n_2 - n_1}{R}$ $\frac{1.5}{v} - \frac{1}{\infty} = \frac{1.5 - 1}{15}$ $v = 45 \text{ cm}$ <p>From 2nd surface, Refraction is from denser to rarer medium and object is at 15 cm</p> $n_1 = 1, \quad n_2 = 1.5, \quad R = -15 \text{ cm}, \quad u = 15 \text{ cm}$ $\frac{n_1}{v} - \frac{n_2}{u} = \frac{n_1 - n_2}{R}$ $\frac{1}{v} - \frac{1.5}{15} = \frac{1 - 1.5}{-15}$ $v = 7.5 \text{ cm}$	$\frac{1}{2}$ $\frac{1}{2}$ $\frac{1}{2}$ $\frac{1}{2}$	5
32	<p>a)</p> <div style="border: 1px solid black; padding: 5px; margin: 5px;"> <p>i) Calculating the change in electrostatic energy of the system 2</p> <p>ii) (1) Finding the capacitance. 1</p> <p> (2) Finding the potential difference. 1</p> <p> (3) Answering and Reason $\frac{1}{2} + \frac{1}{2}$</p> </div> <p>(i) $\vec{E} = \frac{3 \times 10^5}{r^2} \hat{r}$ (Given) $dV = -\vec{E} \cdot d\vec{r}$</p> <p>$V = 3 \times 10^5 / r$</p> <p>Electrostatic energy of the system in the absence of the field</p> $U_i = \frac{Kq_1q_2}{r_{12}}$ <p>Electrostatic energy in the presence of the field</p> $U_f = \frac{Kq_1q_2}{r_{12}} + q_1V(\vec{r}_1) + q_2V(\vec{r}_2)$ $\Delta U = U_f - U_i = q_1V(\vec{r}_1) + q_2V(\vec{r}_2)$ $\Delta U = \frac{5 \times 10^{-6} \times 3 \times 10^5}{3 \times 10^{-2}} - \frac{1 \times 10^{-6} \times 3 \times 10^5}{3 \times 10^{-2}}$ $= 40 \text{ J}$ <p>ii) 1) $C = \frac{Q}{V} = \frac{80}{16} = 5 \mu\text{F}$</p> <p>2) $C' = KC$ $= 3 \times 5 \mu\text{F} = 15 \mu\text{F}$ $V' = \frac{Q}{C'} = \frac{80 \mu\text{C}}{15 \mu\text{F}} = 5.33 \text{ V}$</p> <p>3) No,</p>	$\frac{1}{2}$ $\frac{1}{2}$ $\frac{1}{2}$ $\frac{1}{2}$ $\frac{1}{2}$ $\frac{1}{2}$ $\frac{1}{2}$	

	<p>The capacitance of the system depends on its geometry.</p> <p>OR</p> <div><p>b)</p><div><p>i) Comparing the magnitude of the Electric fields 2</p><p>ii) Calculating the work done on the charge 3</p></div></div> <p>Total charge for A = Total charge for B = Total charge for C = +4q</p> <p>As , $E = \frac{kQ}{r^2}$</p> <p>Since $Q = 4q$ and $r = 3R$</p> <p>$E = \frac{k(4q)}{9R^2} = \frac{4kq}{9R^2}$</p> <p>$\therefore E_A = E_B = E_c$</p> <p>ii) $V_c = \left[\frac{k \times 6 \times 10^{-6}}{5 \times 10^{-2}} - \frac{k \times 6 \times 10^{-6}}{5 \times 10^{-2}} \right]$</p> <p>$= 0$</p> <p>$V_A = \left[\frac{k \times 6 \times 10^{-6}}{15 \times 10^{-2}} - \frac{k \times 6 \times 10^{-6}}{5 \times 10^{-2}} \right]$</p> <p>$= \frac{k \times 6 \times 10^{-6}}{10^{-2}} \left[\frac{1-3}{15} \right]$</p> <p>$= -\frac{9 \times 10^9 \times 6 \times 10^{-6} \times 2}{15 \times 10^{-2}}$</p> <p>$= -7.2 \times 10^5 \text{ V}$</p> <p>$W = q[V_A - V_c]$</p> <p>$= 5 \times 10^{-6} [-7.2 \times 10^5 - 0]$</p> <p>$W = -3.6 \text{ J}$</p>	<p>½</p> <p>1</p> <p>½</p> <p>½</p> <p>1</p> <p>½</p> <p>½</p> <p>½</p> <p>5</p>	
33	<p>a)</p> <div><p>i) Finding the direction of magnetic field near points P,Q and R ½ + ½ + ½</p><p>Conclusion about the relative magnitude of magnetic field. ½ + ½ + ½</p><p>ii) Showing the given expression of magnetic moment. 2</p></div> <p>i) <u>Near point P</u></p> <p>Magnetic field is acting into the plane of the paper as Force is acting upwards.</p> <p><u>Near point Q</u></p> <p>Magnetic field is into the plane of paper as force is acting upwards.</p> <p><u>Near point R</u></p> <p>Magnetic field is acting out of the plane of the paper as \vec{F} is acting downwards.</p> <p><u>Relative Magnitude of the Magnetic field.</u></p> <p>As $B \propto \frac{1}{r}$</p>	<p>½</p> <p>½</p> <p>½</p>	

Page 16 of 18

Alternatively



If the plane of the current carrying coil makes an angle α with the magnetic field

$\vec{F}_{DA} = -\vec{F}_{BC}$ (cancel each other) .

Force on the arm DC is into the plane of the paper

$$|F_{DC}| = IbB .$$

Force on the arm AB is out of the plane of the paper.

$$|F_{AB}| = IbB$$

Both of them form a couple and Torque acting on the coil is

$\tau = \text{either force} \times \text{perpendicular distance between the two forces.}$

$$\tau = IbB \times a \cos \alpha$$

$$= IabB \cos \alpha$$

$$\tau = IAB \cos \alpha$$

Let \hat{n} = outward drawn normal to the plane of the coil.

$$\theta + \alpha = 90^\circ$$

$$\alpha = 90^\circ - \theta$$

$$\tau = IAB \cos(90 - \theta)$$

$$= IAB \sin \theta$$

$$\vec{\tau} = I\vec{A} \times \vec{B}$$

$$\text{ii) 1) } r = \frac{mv}{qB} = \frac{\sqrt{2mK}}{qB}$$

$$r \propto \sqrt{K}$$

$$\frac{r'}{r} = \frac{\sqrt{K/2}}{\sqrt{K}} = \frac{1}{\sqrt{2}}$$

$$r' = \frac{r}{\sqrt{2}}$$

$\frac{1}{2}$

$\frac{1}{2}$

$\frac{1}{2}$

$\frac{1}{2}$

$\frac{1}{2}$

$\frac{1}{2}$

$\frac{1}{2}$

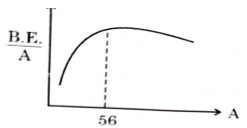
$\frac{1}{2}$

	<p>2) $T = \frac{2\pi m}{qB}$</p> <p>Time period does not depend on Kinetic Energy</p> <p>\therefore Time period will not change.</p>	$\frac{1}{2}$ $\frac{1}{2}$	5
--	---	------------------------------------	---

Marking Scheme Strictly Confidential (For Internal and Restricted use only) Senior School Certificate Examination, 2024 SUBJECT NAME PHYSICS (PAPER CODE 55/1/1)	
<u>General Instructions: -</u>	
1	You are aware that evaluation is the most important process in the actual and correct assessment of the candidates. A small mistake in evaluation may lead to serious problems which may affect the future of the candidates, education system and teaching profession. To avoid mistakes, it is requested that before starting evaluation, you must read and understand the spot evaluation guidelines carefully.
2	“Evaluation policy is a confidential policy as it is related to the confidentiality of the examinations conducted, Evaluation done and several other aspects. Its’ leakage to public in any manner could lead to derailment of the examination system and affect the life and future of millions of candidates. Sharing this policy/document to anyone, publishing in any magazine and printing in News Paper/Website etc may invite action under various rules of the Board and IPC.”
3	Evaluation is to be done as per instructions provided in the Marking Scheme. It should not be done according to one’s own interpretation or any other consideration. Marking Scheme should be strictly adhered to and religiously followed. However, while evaluating, answers which are based on latest information or knowledge and/or are innovative, they may be assessed for their correctness otherwise and due marks be awarded to them. In class-X, while evaluating two competency-based questions, please try to understand given answer and even if reply is not from marking scheme but correct competency is enumerated by the candidate, due marks should be awarded.
4	The Marking scheme carries only suggested value points for the answers These are in the nature of Guidelines only and do not constitute the complete answer. The students can have their own expression and if the expression is correct, the due marks should be awarded accordingly.
5	The Head-Examiner must go through the first five answer books evaluated by each evaluator on the first day, to ensure that evaluation has been carried out as per the instructions given in the Marking Scheme. If there is any variation, the same should be zero after deliberation and discussion. The remaining answer books meant for evaluation shall be given only after ensuring that there is no significant variation in the marking of individual evaluators.
6	Evaluators will mark(✓) wherever answer is correct. For wrong answer CROSS ‘X’ be marked. Evaluators will not put right (✓)while evaluating which gives an

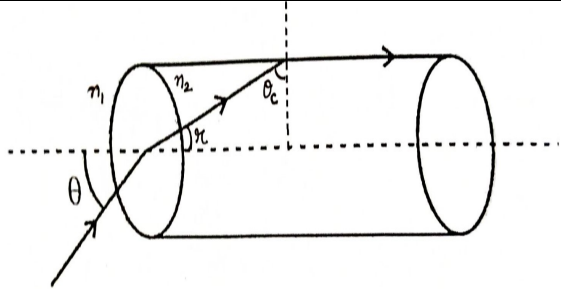
	impression that answer is correct and no marks are awarded. This is most common mistake which evaluators are committing.
7	If a question has parts, please award marks on the right-hand side for each part. Marks awarded for different parts of the question should then be totaled up and written in the left-hand margin and encircled. This may be followed strictly.
8	If a question does not have any parts, marks must be awarded in the left-hand margin and encircled. This may also be followed strictly.
9	If a student has attempted an extra question, answer of the question deserving more marks should be retained and the other answer scored out with a note "Extra Question" .
10	No marks to be deducted for the cumulative effect of an error. It should be penalized only once.
11	A full scale of marks _____(example 0 to 80/70/60/50/40/30 marks as given in Question Paper) has to be used. Please do not hesitate to award full marks if the answer deserves it.
12	Every examiner has to necessarily do evaluation work for full working hours i.e., 8 hours every day and evaluate 20 answer books per day in main subjects and 25 answer books per day in other subjects (Details are given in Spot Guidelines).This is in view of the reduced syllabus and number of questions in question paper.
13	<p>Ensure that you do not make the following common types of errors committed by the Examiner in the past:-</p> <ul style="list-style-type: none"> • Leaving answer or part thereof unassessed in an answer book. • Giving more marks for an answer than assigned to it. • Wrong totaling of marks awarded on an answer. • Wrong transfer of marks from the inside pages of the answer book to the title page. • Wrong question wise totaling on the title page. • Wrong totaling of marks of the two columns on the title page. • Wrong grand total. • Marks in words and figures not tallying/not same. • Wrong transfer of marks from the answer book to online award list. • Answers marked as correct, but marks not awarded. (Ensure that the right tick mark is correctly and clearly indicated. It should merely be a line. Same is with the X for incorrect answer.) • Half or a part of answer marked correct and the rest as wrong, but no marks awarded.
14	While evaluating the answer books if the answer is found to be totally incorrect, it should be marked as cross (X) and awarded zero (0)Marks.
15	Any un assessed portion, non-carrying over of marks to the title page, or totaling error detected by the candidate shall damage the prestige of all the personnel

	engaged in the evaluation work as also of the Board. Hence, in order to uphold the prestige of all concerned, it is again reiterated that the instructions be followed meticulously and judiciously.
16	The Examiners should acquaint themselves with the guidelines given in the " Guidelines for spot Evaluation " before starting the actual evaluation.
17	Every Examiner shall also ensure that all the answers are evaluated, marks carried over to the title page, correctly totaled and written in figures and words.
18	The candidates are entitled to obtain photocopy of the Answer Book on request on payment of the prescribed processing fee. All Examiners/Additional Head Examiners/Head Examiners are once again reminded that they must ensure that evaluation is carried out strictly as per value points for each answer as given in the Marking Scheme.

अंक योजना : भौतिकी (042)			
कोड: 55/1/1			
प्र.सं.	मूल्यांकन बिन्दु / अपेक्षित उत्तर	अंक	कुल अंक
खण्ड (क)			
1.	(A) $q_2 < q_3 < q_1$	1	1
2.	(C) $\frac{R}{8}$	1	1
3.	(B) $(-3\hat{j}+2\hat{k})\mu\text{N}$	1	1
4.	(B) 0.30 C	1	1
5.	(B) 2866	1	1
6.	(D) $\frac{i_0 v_0}{2} \cos \phi$	1	1
7.	(A) X- किरणें, सूक्ष्म तरंगें, UV विकिरण	1	1
8.	(B) $\frac{3H}{4}$	1	1
9.	(C) $\frac{h}{m}$	1	1
10	(B) $\lambda_e > \lambda_p > \lambda_d$	1	1
11	(A) 	1	1
12	(C) रोधिका की ऊँचाई और हासी स्तर की चौड़ाई दोनों में कमी होती है।	1	1

13	(A) अभिकथन (A) और कारण (R) दोनों सत्य हैं और कारण (R) अभिकथन (A) की सही व्याख्या है।	1	1
14	(A) अभिकथन (A) और कारण (R) दोनों सत्य हैं और कारण (R) अभिकथन (A) की सही व्याख्या है।	1	1
15	(C) अभिकथन (A) सत्य है, परन्तु कारण (R) असत्य है।	1	1
16	(D) अभिकथन (A) और कारण (R) दोनों ही असत्य हैं।	1	1
खण्ड (ख)			
17	<div style="border: 1px solid black; padding: 5px; display: inline-block;"> E के मान का परिकलन 1 r के मान का परिकलन 1 </div> $E = V + Ir$ पहले प्रकरण में $E = 5 + 2r$ द्वितीय प्रकरण में $E = 4 + 4r$ हल करने के बाद $E = 6 \text{ V}$ $R = 0.5 \Omega$	 1/2 1/2 1/2 1/2	
18	(a) <div style="border: 1px solid black; padding: 5px; display: inline-block;">झिरी की चौड़ाई का परिकलन 2</div> निम्निष्ठ के लिए शर्त $a \sin \theta = n\lambda$ पहला निम्निष्ठ के लिए $n=1$ $a \sin 30^\circ = 600 \times 10^{-9} \text{ m}$ $a \times \frac{1}{2} = 600 \times 10^{-9} \text{ m}$ $a = 1200 \times 10^{-9} \text{ m}$ $= 1.2 \times 10^{-6} \text{ m}$ अथवा (b) <div style="border: 1px solid black; padding: 5px; display: inline-block;">तीव्रता को ज्ञात करना 2</div> कलान्तर $= \frac{2\pi}{\lambda} \times \text{पथान्तर}$	 1 1/2 1/2 1/2	

	$\Delta\phi = \frac{2\pi}{\lambda} \Delta x$ $\therefore \Delta x = \frac{\lambda}{8} \text{ (दिया गया है)}$ $\Delta\phi = \frac{2\pi}{\lambda} \times \frac{\lambda}{8}$ $\Delta\phi = \frac{\pi}{4}$ $I = I_0 + I_0 + 2\sqrt{I_0 I_0} \cos \frac{\pi}{4}$ $= 2I_0 + 2I_0 \times \frac{1}{\sqrt{2}}$ $I = 2I_0 \left(1 + \frac{1}{\sqrt{2}} \right)$ $= I_0 (2 + \sqrt{2})$ $I = 3.414 I_0$ <p><u>वैकल्पिक</u></p> $\text{कलान्तर} = \frac{2\pi}{\lambda} \times \text{पथान्तर}$ $\Delta\phi = \frac{2\pi}{\lambda} \Delta x$ $\therefore \Delta x = \frac{\lambda}{8} \text{ (दिया गया है)}$ $\Delta\phi = \frac{2\pi}{\lambda} \times \frac{\lambda}{8}$ $\Delta\phi = \frac{\pi}{4}$ $I = 4I_0 \cos^2 \left(\frac{\phi}{2} \right)$ $I = 4I_0 \cos^2 \left(\frac{\pi}{8} \right)$	$\frac{1}{2}$ $\frac{1}{2}$ $\frac{1}{2}$ $\frac{1}{2}$	
19	<div style="border: 1px solid black; padding: 5px; display: flex; justify-content: space-between;"> θ कोण की गणना 2 </div>		

	 <p>क्रांतिक कोण के लिए</p> $\frac{n_2}{n_1} = \frac{1}{\sin \theta_c}$ <p>$n_1=1$ $n_2=\frac{2}{\sqrt{3}}$ (दिया है)</p> $\frac{2}{\sqrt{3}} = \frac{1}{\sin \theta_c}$ $\sin \theta_c = \frac{\sqrt{3}}{2}$ $\theta_c = 60^\circ$ $r = 90 - \theta_c$ $= 30^\circ$ <p>स्रेल के नियम वायु-छड़ के अंतरापृष्ठ पर</p> $n_1 \sin i = n_2 \sin r$ $n_2 = \frac{\sin \theta}{\sin r}$ $\frac{2}{\sqrt{3}} = \frac{\sin \theta}{\sin 30^\circ}$ $\frac{2}{\sqrt{3}} \times \frac{1}{2} = \sin \theta$ $\frac{1}{\sqrt{3}} = \sin \theta$ $\theta = \sin^{-1} \left(\frac{1}{\sqrt{3}} \right)$	1/2	
20	<div style="border: 1px solid black; padding: 5px; margin-bottom: 10px;"> परिक्रमण का आवर्तकाल , $T \propto n^3$ सिद्ध करना 2 </div> $T = \frac{2\pi r}{v}$ <p>बोर के क्वांटमीकरण की शर्त से</p> <p style="text-align: right;">----- (1)</p>	1/2	2

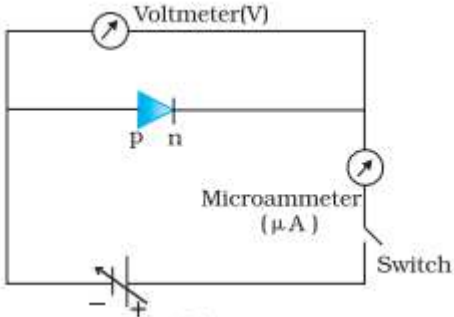
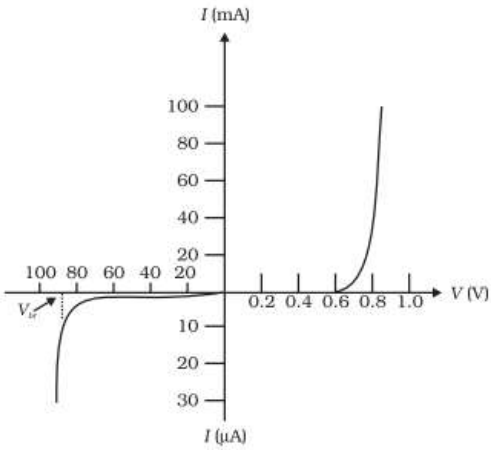
	$mvr = \frac{nh}{2\pi}$ $v = \frac{nh}{2\pi mr}$ <p>(1) और (2) से</p> $T = \frac{2\pi r}{\left(\frac{nh}{2\pi mr}\right)}$ $T = \frac{2\pi r(2\pi mr)}{nh}$ $T = \frac{4\pi^2 mr^2}{nh}$ <p>से $r = \frac{n^2 h^2}{4\pi^2 m k e^2}$</p> $T = \frac{4\pi^2 m}{nh} \left(\frac{n^2 h^2}{4\pi^2 m k e^2} \right)^2$ $T = \frac{n^3 h^3}{4\pi^2 m k e^4}$ $\Rightarrow T \propto n^3$ <p>वैकल्पिक</p> $T = \frac{2\pi r}{v}$ $\therefore r \propto n^2$ <p>और $v \propto \frac{1}{n}$</p> $\therefore T \propto n^3$	<p>1/2</p> <p>1/2</p> <p>1/2</p> <p>1/2</p> <p>1/2</p> <p>1/2</p> <p>1/2</p> <p>1/2</p>	2
21	<div style="border: 1px solid black; padding: 5px; margin-bottom: 10px;"> <p>होलों की संख्या ज्ञात करना 1</p> <p>एक उदाहरण 1</p> </div> <p>एक अपमिश्रक परमाणु प्रति 5×10^7 सिलिकॉन परमाणु और सिलिकॉन परमाणु का संख्या घनत्व = 5×10^{28} परमाणु प्रति घनमीटर दिया है प्रति घनमीटर में निर्मित होलों की संख्या = $\frac{5 \times 10^{28}}{5 \times 10^7} = 10^{21}$ प्रति घनसेंटीमीटर से निर्मित होलों की संख्या = $\frac{10^{21}}{10^6} = 10^{15}$</p> <p>अपमिश्रक का कोई एक उदाहरण - एल्युमिनियम / इंडीयम / गैलियम</p>	<p>1</p> <p>1</p>	2

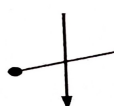
	खण्ड - ग		
22	<div><div><div>(a)</div><div><div>ज्ञात करना</div><div><div>(i) संयोजन का तुल्य emf</div><div>1</div></div><div><div>(ii) संयोजन का तुल्य आंतरिक प्रतिरोध</div><div>1</div></div><div><div>(iii) संयोजन से ली गई धारा</div><div>1</div></div></div></div><div><div>(i) क्योंकि $E_{eq} = \frac{E_1 r_2 + E_2 r_1}{r_1 + r_2}$</div><div>$E_{eq} = \frac{3 \times 0.4 + 6 \times 0.2}{0.6} = 4 \text{ V}$</div><div><div>(ii) $r_{eq} = \frac{r_1 r_2}{r_1 + r_2}$</div><div>$r_{eq} = \frac{0.2 \times 0.4}{0.2 + 0.4} = 0.133 \Omega$</div><div><div>(iii) $I = \frac{E}{R + r_{eq}}$</div><div>$I = \frac{4}{4 + 0.13} = \frac{4}{4.13} \text{ A}$</div><div>$I = 0.9 \text{ A}$</div></div></div><div>अथवा</div><div><div><div>(b)</div><div><div>(i) संबंध ज्ञात करना</div><div><div>(i) R' और R के बीच</div><div>1</div></div><div><div>(ii) v_d' और v_d के बीच</div><div>1</div></div><div><div>(ii) यह पता लगाना कि क्या सभी मुक्त इलेक्ट्रॉन एक ही दिशा में गति कर रहे हैं </div><div>1</div></div></div></div><div><div>(i) $l' = 2l$</div><div>$Al = A'l' = \text{तार का आयतन}$</div><div>$Al = A'(2l)$</div><div>$\frac{A}{2} = A'$</div></div></div></div><td><div><div>$\frac{1}{2}$</div><div>$\frac{1}{2}$</div><div>$\frac{1}{2}$</div><div>$\frac{1}{2}$</div><div>$\frac{1}{2}$</div></div></td><td></td></div>	<div><div>$\frac{1}{2}$</div><div>$\frac{1}{2}$</div><div>$\frac{1}{2}$</div><div>$\frac{1}{2}$</div><div>$\frac{1}{2}$</div></div>	

	<p>बायो-सवर्ट नियम से</p> $ d\vec{B} = \frac{\mu_0}{4\pi} \frac{I d\vec{l} \times \vec{r} }{r^3}$ <p>अब $r^2 = x^2 + R^2$</p> <p>क्योंकि $d\vec{l} \times \vec{r} = r dl$</p> $\therefore dB = \frac{\mu_0}{4\pi} \frac{idl}{(x^2 + R^2)}$ <p>$d\vec{B}$ के दो अवयव हैं</p> <p>x- अक्ष के लम्बवत सभी अवयवों को जोड़ दिया जाता है और हमें शून्य परिमाण प्राप्त होता है </p> <p>केवल x- अवयव ही योगदान करते हैं x- दिशा के अनुदिश नेट योगदान</p> $dB_x = dB \cos \theta$ $\cos \theta = \frac{R}{(R^2 + x^2)^{\frac{1}{2}}}$ <p>अतः</p> $dB_x = \frac{\mu_0 i}{4\pi} dl \frac{R}{(R^2 + x^2)^{\frac{3}{2}}}$ <p>संपूर्ण लूप पर dB_x का योग</p> $\oint dl = 2\pi R$ $\vec{B} = B_x \hat{i} = \frac{\mu_0 i R^2}{2(x^2 + R^2)^{\frac{3}{2}}} \hat{i}$ <p>लूप के केन्द्र पर चुम्बकीय क्षेत्र</p> <p>यहां $x = 0$</p> $\therefore \vec{B} = \frac{\mu_0 i}{2R} \hat{i}$	<p>1/2</p> <p>1/2</p> <p>1/2</p> <p>1/2</p> <p>1/2</p> <p>1/2</p>	<p>3</p>
24	<div style="border: 1px solid black; padding: 5px; margin-bottom: 10px;"> <p>a) प्रेरक में ऊर्जा-संचयन का व्यंजक उत्पन्न करना 1 1/2</p> <p>b) चुम्बकीय क्षेत्र की ऊर्जा घनत्व का व्युत्पन्न 1 1/2</p> </div> <p>a) एक प्रेरक (कुंडली) में प्रेरित वैद्युत वाहक बल</p> $ \varepsilon = L \frac{dI}{dt}$ <p>किसी क्षण कार्य करने की दर</p> $\frac{dW}{dt} = \varepsilon I$	<p>1/2</p> <p>1/2</p>	

	<p>धारा स्थापित करने में किया गया कुल कार्य है</p> $W = \int dW = \int_0^I LI dI$ <p>धारा स्थापित करने में आवश्यक ऊर्जा होगी</p> $W = \frac{1}{2} L I^2$ <p>b) चुम्बकीय ऊर्जा</p> $W = U_B = \frac{1}{2} L I^2$ $= \frac{1}{2} L \left(\frac{B}{n \mu_0} \right)^2 \quad \text{as } B = n \mu_0 I$ <p>प्रयोग करके $L = \mu_0 n^2 A l$</p> $U_B = \frac{1}{2} (\mu_0 n^2 A l) \left(\frac{B^2}{\mu_0^2 n^2} \right)$ <p>ऊर्जा घनत्व = $\frac{U_B}{\text{volume}}$</p> $\frac{U_B}{\text{volume}} = \frac{1}{2} \times \mu_0 n^2 A l \times \frac{B^2}{\mu_0^2 n^2} \times \frac{1}{A l}$ $= \frac{1}{2} \frac{B^2}{\mu_0}$	<p>$\frac{1}{2}$</p> <p>$\frac{1}{2}$</p> <p>$\frac{1}{2}$</p> <p>$\frac{1}{2}$</p>	
25	<div style="border: 1px solid black; padding: 5px; margin-bottom: 10px;"> <p>a) दर्शाइए कि $(I_c + I_d)$ का मान प्रत्येक बिन्दु पर समान रहता है 2</p> <p>b) किरखोफ के प्रथम नियम का धारिता की प्रत्येक प्लेट पर व्याख्या 1</p> </div> <p>a) \therefore कुल धारा $I = I_c + I_d$</p> <p>संधारित्र के बाहर</p> $I_d = 0$ $\therefore I = I_c$ <p>संधारित्र के अन्दर</p> $I_c = 0$ $\therefore I = I_d = \epsilon_0 \frac{d\phi_E}{dt}$ $= \epsilon_0 \frac{d}{dt} [EA]$ $= \epsilon_0 \frac{d}{dt} \left[\frac{\sigma}{\epsilon_0} A \right]$	<p>$\frac{1}{2}$</p> <p>$\frac{1}{2}$</p> <p>$\frac{1}{2}$</p>	3

	$= \frac{\epsilon_0}{\epsilon_0} A \frac{d}{dt} \left[\frac{Q}{A} \right]$ $I = \frac{dQ}{dt} = I_c$ <p>वैकल्पिक</p> <p>∴ कुल धारा $I = I_c + I_d$ संधारित्र के बाहर</p> $I_d = 0$ <p>∴ $I = I_c$ संधारित्र के अन्दर</p> $I_c = 0$ $I = I_d = \epsilon_0 \frac{d\phi_E}{dt}$ $= \epsilon_0 \frac{d}{dt} \left[\frac{Q}{\epsilon_0} \right]$ $I = \frac{dQ}{dt} = I_c$ <p>इसलिए $I_c + I_d$ का मान परिपथ के सभी बिन्दुओं पर समान है</p> <p>b) हाँ संधारित्र में प्रवेश करने वाली धारा (I_c) और संधारित्र के प्लेटों के बीच विस्थापन धारा (I_d) है</p> $\therefore I_c = I_d$ <p>जो कि किरखोफ संधि नियम को मान्य करता है</p>	<p>1/2</p> <p>1/2</p> <p>1/2</p> <p>1/2</p> <p>1/2</p> <p>1</p>	3
26	<div style="border: 1px solid black; padding: 5px;"> <p>कारण</p> <p>a) सभी फोटोइलेक्ट्रॉनों की गतिज ऊर्जा का एक समान न होने का कारण 1</p> <p>b) विभिन्न तीव्रताओं के लिए संतृप्त धारा भिन्न होती है का कारण 1</p> <p>c) फोटोइलेक्ट्रॉनों का किसी निश्चित तरंगदैर्घ्य पर उत्सर्जन का रुकने का कारण 1</p> </div> <p>a) जब एक वर्णीय प्रकाश किसी धातु पर आपतित होता है तब अधिक / कम दृढबद्ध अवस्था में इलेक्ट्रॉन कम / अधिक गतिज ऊर्जा से निकलते हैं , इसलिए सभी फोटोइलेक्ट्रॉन समान गतिज ऊर्जा में बाहर नहीं निकलते ।</p> <p>b) उत्सर्जित होने वाले प्रति सेकेंड प्रकाशिक इलेक्ट्रॉनों की संख्या आपतित विकिरण की तीव्रता के समानुपाती है इसलिए विभिन्न तीव्रताओं पर संतृप्त धारा विभिन्न होती है ।</p>	<p>1</p> <p>1</p>	

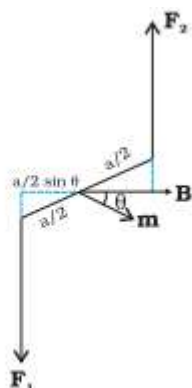
	 <p>पश्चदिशिक अभिलाक्षणिक के लिए परिपथ आरेख</p> <p>b)</p>  <p>नोट : कृपया मान न लिखने के लिए अंकों को ना काटें</p> <p>c) कोई दो सूचनाएं देहली वोल्टता / प्रतीप संतृप्त धारा / भंजन वोल्टता / अग्रदिशिक बायस में बहुत कम प्रतिरोध / पश्चदिशिक बायस में बहुत तीव्र प्रतिरोध</p>	1/2	1	3
	खण्ड - घ			
29	<p>i) (B) 5mC ii) (A) zero iii) (D) $[M^0L^0TA^0]$ iv) (A) $\frac{1}{2\sqrt{e}}mA$</p> <p>प्रत्येक छात्र को 1 अंक प्रश्न के इस भाग के लिए प्रदान करें यदि छात्र ने इस प्रश्न के दूसरे भागों को हल करने का प्रयास किया है</p> <p>अथवा</p> <p>(B) 0.5 mA</p>	1 1 1	1	4

30	<p>i) (C)</p>  <p>ii) (A) उत्तल दर्पण के लिए आवर्धन सदैव ऋणात्मक होता है। iii) (B) $2f$</p> <p style="text-align: center;">अथवा</p> <p>(B) 12 cm iv) (C) $\sqrt{X_1 X_2}$</p>	<p>1 1 1</p> <p>1</p>	4
खण्ड - ड			
31	<p>a)</p> <div style="border: 1px solid black; padding: 10px; margin: 10px 0;"> <p>i) निकाय की स्थिर विद्युत ऊर्जा में परिवर्तन का परिकलन 2 ii) (1) धारिता ज्ञात करना 1 (2) विभवान्तर ज्ञात करना 1 (3) उत्तर और कारण $\frac{1}{2} + \frac{1}{2}$</p> </div> <p>(i) $\vec{E} = \frac{3 \times 10^5}{r^2} \hat{r}$ (दिया गया है) $dV = -\vec{E} \cdot d\vec{r}$ $V = 3 \times 10^5 / r$ क्षेत्र की अनुपस्थिति में निकाय की स्थिर विद्युत ऊर्जा $U_i = \frac{Kq_1 q_2}{r_{12}}$ $\frac{1}{2}$ क्षेत्र की उपस्थिति में स्थिर विद्युत ऊर्जा $U_f = \frac{Kq_1 q_2}{r_{12}} + q_1 V(r_1) + q_2 V(r_2)$ $\frac{1}{2}$ $\Delta U = U_f - U_i = q_1 V(r_1) + q_2 V(r_2)$ $\Delta U = \frac{5 \times 10^{-6} \times 3 \times 10^5}{3 \times 10^{-2}} - \frac{1 \times 10^{-6} \times 3 \times 10^5}{3 \times 10^{-2}}$ $\frac{1}{2}$ $= 40\text{ J}$ $\frac{1}{2}$ (ii) 1) $C = \frac{Q}{V} = \frac{80}{16} = 5\mu F$ 1 2) $C' = KC$ $\frac{1}{2}$ $= 3 \times 5\mu F = 15\mu F$</p>	<p>$\frac{1}{2}$</p> <p>$\frac{1}{2}$</p> <p>$\frac{1}{2}$</p> <p>$\frac{1}{2}$</p> <p>1</p> <p>$\frac{1}{2}$</p>	

	$V' = \frac{Q}{C'} = \frac{80\mu C}{15\mu F} = 5.33V$	1/2					
	3) नहीं, निकाय की धारिता इसकी ज्यामिती पर निर्भर करती है अथवा	1/2 1/2					
	b) <table border="1"> <tr> <td>i) विद्युत क्षेत्रों के परिणाम की तुलना</td> <td>2</td> </tr> <tr> <td>ii) आवेश पर किये गये कार्य का परिकलन</td> <td>3</td> </tr> </table>	i) विद्युत क्षेत्रों के परिणाम की तुलना	2	ii) आवेश पर किये गये कार्य का परिकलन	3		
i) विद्युत क्षेत्रों के परिणाम की तुलना	2						
ii) आवेश पर किये गये कार्य का परिकलन	3						
	A के लिए कुल आवेश = B के लिए कुल आवेश = C के लिए कुल आवेश = +4q क्योंकि, $E = \frac{kQ}{r^2}$ चूँकि $Q = 4q$ तथा $r = 3R$ $E = \frac{k(4q)}{9R^2} = \frac{4kq}{9R^2}$ $\therefore E_A = E_B = E_C$	1 1/2 1/2					
	ii) $V_c = \left[\frac{k \times 6 \times 10^{-6}}{5 \times 10^{-2}} - \frac{k \times 6 \times 10^{-6}}{5 \times 10^{-2}} \right]$ $= 0$ $V_A = \left[\frac{k \times 6 \times 10^{-6}}{15 \times 10^{-2}} - \frac{k \times 6 \times 10^{-6}}{5 \times 10^{-2}} \right]$ $= \frac{k \times 6 \times 10^{-6}}{10^{-2}} \left[\frac{1-3}{15} \right]$ $= -\frac{9 \times 10^9 \times 6 \times 10^{-6} \times 2}{15 \times 10^{-2}}$ $= -7.2 \times 10^5 V$ $W = q[V_A - V_c]$ $= 5 \times 10^{-6} [-7.2 \times 10^5 - 0]$ $W = -3.6 J$	1 1/2 1/2 1/2					
32	a) <table border="1"> <tr> <td>i) बिन्दु P,Q और R पर चुम्बकीय क्षेत्र की दिशा ज्ञात करने के लिए चुम्बकीय क्षेत्रों के आपेक्षिक परिमाण के बारे में निष्कर्ष</td> <td>1/2+1/2+1/2 1/2+1/2+1/2</td> </tr> <tr> <td>ii) पाश के चुम्बकीय आघूर्ण को दर्शाना</td> <td>2</td> </tr> </table>	i) बिन्दु P,Q और R पर चुम्बकीय क्षेत्र की दिशा ज्ञात करने के लिए चुम्बकीय क्षेत्रों के आपेक्षिक परिमाण के बारे में निष्कर्ष	1/2+1/2+1/2 1/2+1/2+1/2	ii) पाश के चुम्बकीय आघूर्ण को दर्शाना	2		5
i) बिन्दु P,Q और R पर चुम्बकीय क्षेत्र की दिशा ज्ञात करने के लिए चुम्बकीय क्षेत्रों के आपेक्षिक परिमाण के बारे में निष्कर्ष	1/2+1/2+1/2 1/2+1/2+1/2						
ii) पाश के चुम्बकीय आघूर्ण को दर्शाना	2						

	<p>i) बिन्दु P के पास चुम्बकीय क्षेत्र, तल के अभिलम्बवत अन्दर की ओर कार्य कर रहा है जिससे बल ऊपर की ओर लग रहा है।</p> <p>बिन्दु Q के पास चुम्बकीय क्षेत्र, तल के अभिलम्बवत अन्दर की ओर कार्य कर रहा है जिससे बल ऊपर की ओर लग रहा है।</p> <p>बिन्दु R के पास चुम्बकीय क्षेत्र, तल के अभिलम्बवत बाहर की ओर कार्य कर रहा है जिससे बल नीचे की ओर लग रहा है।</p> <p>चुम्बकीय क्षेत्र, के आपेक्षिक परिणाम क्योंकि $B \propto \frac{1}{r}$</p> <p>अतः P बिन्दु के पास B का परिमाण कम है।</p> <p>Q बिन्दु के पास P बिन्दु के सापेक्ष B का परिमाण कम है।</p> <p>R बिन्दु के पास P बिन्दु के सापेक्ष B का परिमाण अधिक है। ($B_Q < B_P < B_R$)</p> <p>ii) यदि वृत्ताकार पाश की त्रिज्या r है और पाश में धारा I है तब</p> $B = \frac{\mu_0 I}{2r} \text{ or } I = \frac{2Br}{\mu_0}$ $A = \pi r^2 \quad r = \sqrt{\frac{A}{\pi}}$ $M = IA$ $= \frac{2Br}{\mu_0} A$ $= \frac{2BA}{\mu_0} \sqrt{\frac{A}{\pi}}$ <p style="text-align: center;">अथवा</p> <p>b)</p> <div style="border: 1px solid black; padding: 10px; margin-top: 10px;"> <p>i) बल आघूर्ण का व्यंजक व्युत्पन्न करना 3</p> <p>ii) 1) त्रिज्या में परिवर्तन को ज्ञात करना 1</p> <p>2) परिक्रमण के आवर्तकाल में परिवर्तन को ज्ञात करना 1</p> </div>	<p>1/2</p> <p>1/2</p> <p>1/2</p> <p>1/2</p> <p>1/2</p> <p>1/2</p> <p>1/2</p> <p>1/2</p> <p>1/2</p> <p>1/2</p>	
--	--	---	--

(i)



आयताकार कुंडली जिनकी भुजा a और b है, दोनों भुजा पर लगने वाले बल \vec{F}_1 और \vec{F}_2 है।

$$|\vec{F}_1| = |\vec{F}_2| = I b B \quad (b = \text{भुजा की लंबाई})$$

लगने वाले बलों से बलयुग्म बनता है। पाश पर बल आघूर्ण का परिणाम है –

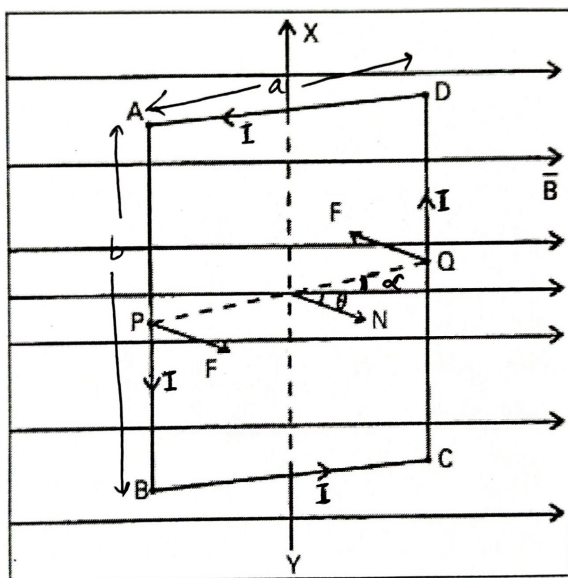
$$\tau = F_1 \frac{a}{2} \sin \theta + F_2 \frac{a}{2} \sin \theta$$

$$= I a b B \sin \theta$$

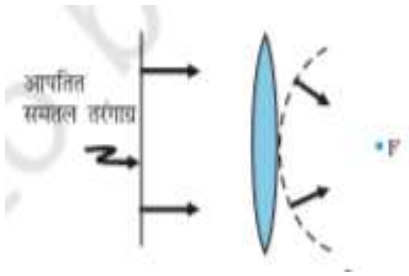
$$= I A B \sin \theta$$

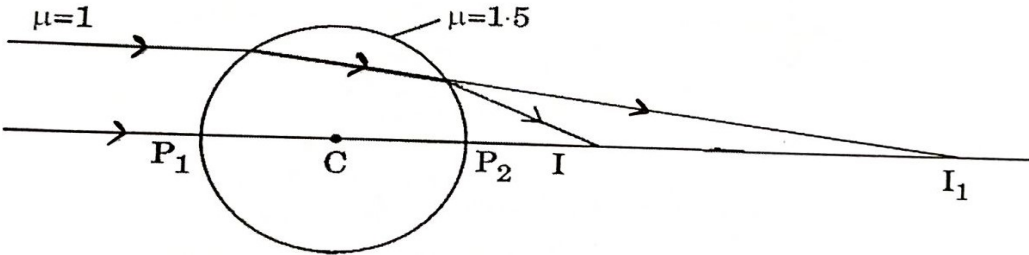
$$\vec{\tau} = I \vec{A} \times \vec{B}$$

वैकल्पिक



	<p>यदि धारा रहित कुंडली का तल चुम्बकीय क्षेत्र के साथ α कोण बनाता है $\vec{F}_{DA} = -\vec{F}_{BC}$ (एक दूसरे को निर्गत करते हैं) भुजा BC पर बल पृष्ठ के नीचे तल पर है $F_{DC} = I b B$. भुजा DA पर बल पृष्ठ के ऊपर तल पर है $F_{AB} = I b B$ दोनों ही बल बलयुग्म बनाते हैं और कुंडली पर लगने वाला बल आघूर्ण है $\tau = \text{कोई बल} \times \text{दो बलों के बीच लम्बवत् दूरी}$ $\tau = I b B \times a \cos \alpha$ $= I a b B \cos \alpha$ $\tau = I A B \cos \alpha$ Let \hat{n} = माना में = कुंडली के तल पर बाहर की ओर $\theta + \alpha = 90^\circ$ $\alpha = 90^\circ - \theta$ $\tau = I A B \cos(90 - \theta)$ $= I A B \sin \theta$ $\vec{\tau} = I \vec{A} \times \vec{B}$</p> <p>ii) 1) $r = \frac{mv}{qB} = \frac{\sqrt{2mK}}{qB}$ $r \propto \sqrt{K}$ $\frac{r'}{r} = \frac{\sqrt{K/2}}{\sqrt{K}} = \frac{1}{\sqrt{2}}$ $r' = \frac{r}{\sqrt{2}}$</p> <p>2) $T = \frac{2\pi m}{qB}$</p> <p>आवर्तकाल गतिज्ञ ऊर्जा पर निर्भर नहीं करता है \therefore आवर्तकाल नहीं बदलेगा</p>	<p>1/2</p> <p>1/2</p> <p>1/2</p> <p>1/2</p> <p>1/2</p> <p>1/2</p> <p>1/2</p> <p>1/2</p> <p>1/2</p>	5
33	<p>a)</p> <div style="border: 1px solid black; padding: 10px;"> <p>i) 1) कलासंबद्ध स्रोत की परिभाषा 1 सतत व्यतिकरण पैटर्न के लिए कला संबद्ध स्रोतों का आवश्यक होना 1 2) व्याख्या 1</p> <p>ii) 1) निकटवर्ती चमकीली व्यतिकरण फ्रिंजों के बीच की दूरी का परिकलन 1 2) कोणीय चौड़ाई का परिकलन 1</p> </div>		

a) i) 1) यदि दो स्रोत कलासंबद्ध है तो किसी भी बिन्दु पर कलांतर समय के साथ नहीं बदलेगा ।		1
वैकल्पिक		
1) दो स्रोत कलासंबद्ध कहे जाते हैं यदि वे लगातार समान आवृत्ति / तरंगदैर्घ्य और शून्य अथवा सतत कलांतर के साथ प्रकाश उत्सर्जित करते हैं ।		
सतत कलांतर पाने के लिए कलासंबद्ध स्रोतों की आवश्यकता होती है		1
2) दो स्वतंत्र स्रोत कभी भी कला संबद्ध नहीं होंगे , क्योंकि इनके बीच कलांतर सतत नहीं होता है ।		1
ii) 1) निकटवर्ती चमकीली फ्रिंज के बीच की दूरी = फ्रिंज चौड़ाई		
$\beta = \frac{\lambda D}{d}$		$\frac{1}{2}$
$= \frac{600 \times 10^{-9} \times 1.2}{0.1 \times 10^{-3}} = 7.2 \text{ mm}$		$\frac{1}{2}$
2) $\theta = \frac{\lambda}{d}$		$\frac{1}{2}$
$= \frac{600 \times 10^{-9}}{0.1 \times 10^{-3}} = 6 \times 10^{-3} \text{ rad} = 0.34^\circ$		$\frac{1}{2}$
यदि छात्र उत्तर को सिर्फ रेडियन में लिखता है तो पूरे अंक दिए जायें । अथवा		
b)	<div><div>i) तरंगाग्र की परिभाषा आपतित और अपवर्तित तरंगाग्रों का आरेख खींचना ii) किरण आरेख खींचना अंतिम प्रतिबिम्ब की स्थिति प्राप्त करना</div><div>1 $\frac{1}{2} + \frac{1}{2}$ 1 2</div></div>	
b) i) समान कला में दोलन करते ऐसे सभी बिन्दुओं का बिन्दु पथ तरंगाग्र कहलाता है ।		1
		$\frac{1}{2} + \frac{1}{2}$
f त्रिज्या का गोलीय तरंगाग्र		

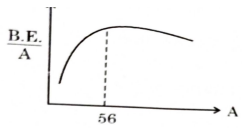
	<p>(ii)</p>  <p>प्रथम पृष्ठ से , विरल माध्यम से सघन माध्यम में अपवर्तन और वस्तु अनंत पर रखी है $n_1 = 1$, $n_2 = 1.5$, $R = 15 \text{ cm}$, $u = \infty$ $\frac{n_2}{v} - \frac{n_1}{u} = \frac{n_2 - n_1}{R}$ $\frac{1.5}{v} - \frac{1}{\infty} = \frac{1.5 - 1}{15}$ $v = 45 \text{ cm}$ <p>द्वितीय पृष्ठ से , सघन माध्यम से विरल माध्यम में अपवर्तन और वस्तु पर 15 cm पर रखी है $n_1 = 1$, $n_2 = 1.5$, $R = -15 \text{ cm}$, $u = 15 \text{ cm}$ $\frac{n_1}{v} - \frac{n_2}{u} = \frac{n_1 - n_2}{R}$ $\frac{1}{v} - \frac{1.5}{15} = \frac{1 - 1.5}{-15}$ $v = 7.5 \text{ cm}$</p> </p>	<p>1</p> <p>$\frac{1}{2}$</p> <p>$\frac{1}{2}$</p> <p>$\frac{1}{2}$</p>	<p>5</p>
--	---	--	----------

Marking Scheme
Strictly Confidential
(For Internal and Restricted use only)
Senior School Certificate Examination, 2025
SUBJECT NAME PHYSICS (PAPER CODE 55/1/2)

General Instructions: -

1	You are aware that evaluation is the most important process in the actual and correct assessment of the candidates. A small mistake in evaluation may lead to serious problems which may affect the future of the candidates, education system and teaching profession. To avoid mistakes, it is requested that before starting evaluation, you must read and understand the spot evaluation guidelines carefully.
2	“Evaluation policy is a confidential policy as it is related to the confidentiality of the examinations conducted, Evaluation done and several other aspects. Its’ leakage to public in any manner could lead to derailment of the examination system and affect the life and future of millions of candidates. Sharing this policy/document to anyone, publishing in any magazine and printing in News Paper/Website etc may invite action under various rules of the Board and IPC.”
3	Evaluation is to be done as per instructions provided in the Marking Scheme. It should not be done according to one’s own interpretation or any other consideration. Marking Scheme should be strictly adhered to and religiously followed. However, while evaluating, answers which are based on latest information or knowledge and/or are innovative, they may be assessed for their correctness otherwise and due marks be awarded to them. In class-X, while evaluating two competency-based questions, please try to understand given answer and even if reply is not from marking scheme but correct competency is enumerated by the candidate, due marks should be awarded.
4	The Marking scheme carries only suggested value points for the answers. These are in the nature of Guidelines only and do not constitute the complete answer. The students can have their own expression and if the expression is correct, the due marks should be awarded accordingly.
5	The Head-Examiner must go through the first five answer books evaluated by each evaluator on the first day, to ensure that evaluation has been carried out as per the instructions given in the Marking Scheme. If there is any variation, the same should be zero after deliberation and discussion. The remaining answer books meant for evaluation shall be given only after ensuring that there is no significant variation in the marking of individual evaluators.
6	Evaluators will mark(√) wherever answer is correct. For wrong answer CROSS ‘X” be marked. Evaluators will not put right (✓) while evaluating which gives an impression that answer is correct and no marks are awarded. This is most common mistake which evaluators are committing.
7	If a question has parts, please award marks on the right-hand side for each part. Marks awarded for different parts of the question should then be totaled up and written in the left-hand margin and encircled. This may be followed strictly.
8	If a question does not have any parts, marks must be awarded in the left-hand margin and encircled. This may also be followed strictly.
9	If a student has attempted an extra question, answer of the question deserving more marks should be retained and the other answer scored out with a note “Extra Question” .
10	No marks to be deducted for the cumulative effect of an error. It should be penalized only once.

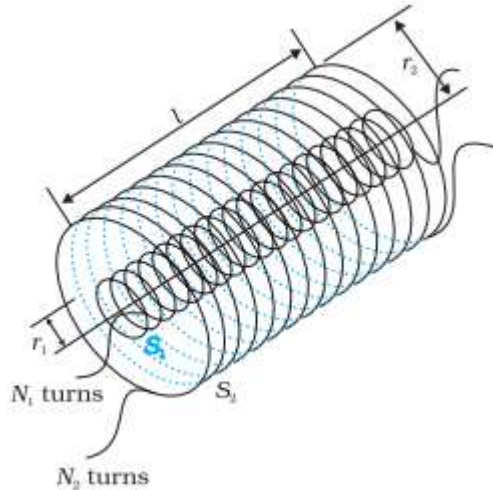
11	A full scale of marks ____70____ (example 0 to 80/70/60/50/40/30 marks as given in Question Paper) has to be used. Please do not hesitate to award full marks if the answer deserves it.
12	Every examiner has to necessarily do evaluation work for full working hours i.e., 8 hours every day and evaluate 20 answer books per day in main subjects and 25 answer books per day in other subjects (Details are given in Spot Guidelines). This is in view of the reduced syllabus and number of questions in question paper.
13	<p>Ensure that you do not make the following common types of errors committed by the Examiner in the past:-</p> <ul style="list-style-type: none"> • Leaving answer or part thereof unassessed in an answer book. • Giving more marks for an answer than assigned to it. • Wrong totaling of marks awarded on an answer. • Wrong transfer of marks from the inside pages of the answer book to the title page. • Wrong question wise totaling on the title page. • Wrong totaling of marks of the two columns on the title page. • Wrong grand total. • Marks in words and figures not tallying/not same. • Wrong transfer of marks from the answer book to online award list. • Answers marked as correct, but marks not awarded. (Ensure that the right tick mark is correctly and clearly indicated. It should merely be a line. Same is with the X for incorrect answer.) • Half or a part of answer marked correct and the rest as wrong, but no marks awarded.
14	While evaluating the answer books if the answer is found to be totally incorrect, it should be marked as cross (X) and awarded zero (0) Marks.
15	Any un assessed portion, non-carrying over of marks to the title page, or totaling error detected by the candidate shall damage the prestige of all the personnel engaged in the evaluation work as also of the Board. Hence, in order to uphold the prestige of all concerned, it is again reiterated that the instructions be followed meticulously and judiciously.
16	The Examiners should acquaint themselves with the guidelines given in the “ Guidelines for spot Evaluation ” before starting the actual evaluation.
17	Every Examiner shall also ensure that all the answers are evaluated, marks carried over to the title page, correctly totaled and written in figures and words.
18	The candidates are entitled to obtain photocopy of the Answer Book on request on payment of the prescribed processing fee. All Examiners/Additional Head Examiners/Head Examiners are once again reminded that they must ensure that evaluation is carried out strictly as per value points for each answer as given in the Marking Scheme.

अंक योजना : भौतिकी (042)			
कोड: 55/1/2			
प्र.सं.	मूल्यांकन बिन्दु / अपेक्षित उत्तर	अंक	कुल अंक
	खण्ड-क		
1.	(C) C	1	1
2.	(B) समान त्रिज्या का लम्बाई में आधा तार	1	1
3.	(B) $(-3\hat{j}+2\hat{k})\mu\text{N}$	1	1
4.	(C) 2	1	1
5.	(B) 2866	1	1
6.	(D) $\frac{i_0 v_0}{2} \cos \phi$	1	1
7.	(B) चाल तरंगदैर्घ्य आवृत्ति कोई परिवर्तन नहीं घट जाती है वृद्धि होती है	1	1
8.	(A) माध्यम '1' से कोण $\sin^{-1}\left(\frac{v_1}{v_2}\right)$ से अधिक पर	1	1
9.	(A) 10^{16}	1	1
10	(A) 	1	1
11	(C) रोधिका की ऊँचाई और हासी स्तर की चौड़ाई दोनों में कमी होती है।	1	1
12	(B) $\lambda_e > \lambda_p > \lambda_d$	1	1
13	(D) अभिकथन (A) और कारण (R) दोनों ही असत्य हैं।	1	1
14	(C) अभिकथन (A) सत्य है, परन्तु कारण (R) असत्य है।	1	1
15	(A) अभिकथन (A) और कारण (R) दोनों सत्य हैं कारण (R) अभिकथन (A) की सही व्याख्या है।	1	1
16	(A) अभिकथन (A) और कारण (R) दोनों सत्य हैं कारण (R) अभिकथन (A) की सही व्याख्या है।	1	1
	खण्ड ख		
17	<div style="border: 1px solid black; padding: 10px; display: inline-block;"> $\vec{E} = \rho \vec{j}$ से ओम के नियम को प्राप्त करना 1½ स्थिति का उल्लेख करना ½ </div> $\vec{E} = \rho \vec{j}$	½	

	<p><u>वैकल्पिक</u></p> <p>कलान्तर = $\frac{2\pi}{\lambda} \times \text{पथान्तर}$</p> <p>$\Delta\phi = \frac{2\pi}{\lambda} \Delta x$</p> <p>$\therefore \Delta x = \frac{\lambda}{8}$ (दिया गया है)</p> <p>$\Delta\phi = \frac{2\pi}{\lambda} \times \frac{\lambda}{8}$</p> <p>$\Delta\phi = \frac{\pi}{4}$</p> <p>$I = 4I_0 \cos^2\left(\frac{\phi}{2}\right)$</p> <p>$I = 4I_0 \cos^2\left(\frac{\pi}{8}\right)$</p>	<p>$\frac{1}{2}$</p> <p>$\frac{1}{2}$</p> <p>$\frac{1}{2}$</p> <p>$\frac{1}{2}$</p>	2
19	<div> स्थिति का परिकलन बनने वाले प्रतिबिम्ब की प्रकृति </div> <div> $1\frac{1}{2}$ $\frac{1}{2}$ </div> <p>विरल से सघन माध्यम में प्रकाश का अपवर्तन</p> <p>$u = -\frac{R}{2}, n_1 = 1, n_2 = 1.5$</p> <p>$\frac{2}{R} + \frac{1.5}{v} = \frac{1.5-1}{R}$</p> <p>$\frac{1.5}{v} = \frac{0.5}{R} - \frac{2}{R}$</p> <p>$\frac{1.5}{v} = -\frac{1.5}{R}$</p> <p>$v = -R$</p> <p>हवा में आभासी प्रतिबिम्ब R दूरी पर है।</p>	<p>$\frac{1}{2}$</p> <p>$\frac{1}{2}$</p> <p>$\frac{1}{2}$</p> <p>$\frac{1}{2}$</p>	2
20	<div> कोणीय संवेग का परिकलन </div> <div>2</div> <p>$E_n = -\frac{13.6}{n^2} eV$</p>	<p>$\frac{1}{2}$</p>	

	$I = \frac{4}{4 + 0.13} = \frac{4}{4.13} A$ $I = 0.9A$ <p style="text-align: center;">अथवा</p> <div style="border: 1px solid black; padding: 5px;"> <p>(b) (i) संबंध ज्ञात करना</p> <p style="text-align: right;">(i) R' और R के बीच 1</p> <p style="text-align: right;">(ii) v_d' और v_d के बीच 1</p> <p>(ii) यह पता लगाना कि क्या सभी मुक्त इलेक्ट्रॉन एक ही दिशा में गति कर रहे हैं 1</p> </div>	1/2	
	<p>(i) $l' = 2l$ $Al = A'l' = \text{तार का आयतन}$ $Al = A'(2l)$ $\frac{A}{2} = A'$ $R = \frac{\rho l}{A}$ $R' = \frac{\rho l'}{A'}$ $R' = \frac{\rho(2l)}{A/2}$ $\frac{R'}{R} = 4$</p> <p>वैकल्पिक $R' = n^2 R$ $n = 2$ $R' = 4R$</p> <p>(ii) $v_d = \frac{eE}{m} \tau$</p> <p style="text-align: center;">$v_d = \frac{eV}{ml} \tau$</p> <p style="text-align: center;">$v_d' = \frac{eV}{ml'} \tau$</p>	1/2	
		1/2	
		1/2	
		1/2	

	$\frac{v_d'}{v_d} = \frac{l}{l'} = \frac{1}{2}$ <p>(ii) नहीं</p>	$\frac{1}{2}$ 1	3
23	<div style="border: 1px solid black; padding: 5px; margin-bottom: 10px;"> <p>a) चुम्बकीय आघूर्ण की परिभाषा 1</p> <p>चुम्बकीय आघूर्ण का SI मात्रक $\frac{1}{2}$</p> <p>b) चुम्बकीय क्षेत्र को परिणाम को ज्ञात करना $1\frac{1}{2}$</p> </div> <p>a) धारा रहित कुंडली के चुम्बकीय आघूर्ण को कुंडली से प्रवाहित धारा और कुंडली के क्षेत्रफल के गुणनफल से परिभाषित किया जाता है।</p> <p>वैकल्पिक $\vec{M} = I\vec{A}$ Am^2 S.I. मात्रक है</p> <p>b) $\tau = NIAB\sin\theta$</p> <p>$\tau_1 = 0.12 = 60 \times 2 \times 1.5 \times 10^{-3} \times B\sin\theta$ $B\sin\theta = \frac{2}{3}$</p> <p>$\tau_2 = 0.05 = 60 \times 2 \times 1.5 \times 10^{-3} \times B\cos\theta$ $B\cos\theta = \frac{5}{18}$</p> <p>$B = \sqrt{B^2\sin^2\theta + B^2\cos^2\theta}$ $= \sqrt{\left(\frac{2}{3}\right)^2 + \left(\frac{5}{18}\right)^2} = \frac{13}{18} \text{ T}$</p>	1 $\frac{1}{2}$ $\frac{1}{2}$ $\frac{1}{2}$	3
24	<div style="border: 1px solid black; padding: 5px;"> <p>अन्योन्य प्रेरकत्व के लिए व्यंजक व्युत्पन्न करना 2</p> <p>$M_{21} = M_{12}$ दर्शाना 1</p> </div>		



मान लीजिए N_1 तथा N_2 क्रमशः कुंडलियों S_1 और S_2 में फेरों की कुल संख्या है। जब S_2 में धारा I_2 प्रवाहित करते हैं तो यह S_1 में एक चुम्बकीय फ्लक्स स्थापित करती है।

$$\mathbf{N}_1 \phi_1 = \mathbf{M}_{12} \mathbf{I}_2 \quad \text{--(i)}$$

$$\mathbf{N}_1 \phi_1 = (\mathbf{n}_1 l) (\pi r_1^2) (\mu_0 \mathbf{n}_2 \mathbf{I}_2)$$

$$N_1 \phi_1 = \mu_0 n_1 n_2 \pi r_1^2 l I_2 \quad \text{--(ii)}$$

(i) तथा (ii) से

$$M_{12} = \mu_0 n_1 n_2 \pi r_1^2 l$$

विपरीत स्थिति में S_1 से एक विद्युत धारा I_1 प्रवाहित की जाती है, S_2 से फ्लक्स - बंधता है।

$$N_2 \phi_2 = M_{21} I_1 \quad \text{--(iii)}$$

$$N_2 \phi_2 = (n_2 l) (\pi r_1^2) (\mu_0 n_1 I_1) \quad \text{--(iv)}$$

(iii) और (iv) से

$$M_{21} = \mu_0 n_1 n_2 \pi r_1^2 l$$

$$\therefore M_{12} = M_{21}$$

25

- | | |
|--|---|
| a) दर्शाइए कि $(I_c + I_d)$ का मान प्रत्येक बिन्दु पर समान रहता है | 2 |
| b) किरखोफ के प्रथम नियम का धारिता की प्रत्येक प्लेट पर व्याख्या | 1 |

a) \therefore कुल धारा $I = I_c + I_d$
संधारित्र के बाहर

$$I_d = 0$$

$$\therefore l = l_c$$

संधारित्र के अन्दर

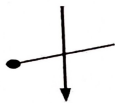
$$I_c = 0$$

$$\therefore I = I_d = \epsilon_0 \frac{d\phi_E}{dt}$$

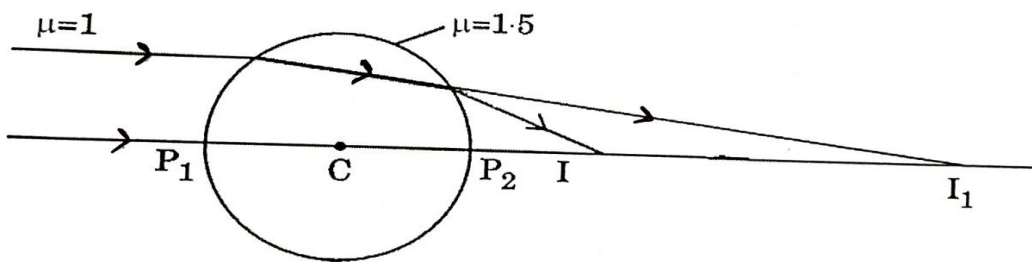
Page 10 of 20

26	<div data-bbox="321 226 1320 457"> <p>a) निरोधी विभव (V_0) के फलन का आवृत्ति (ν) का ग्राफ खीचना 1 अपरोधन के मान से सूचना प्राप्त करना $\frac{1}{2}$</p> <p>b) परिकलन</p> <p>i) संवेग 1</p> <p>ii) डी-ब्रोग्ली तरंगदैर्घ्य $\frac{1}{2}$</p> </div> <div data-bbox="313 541 938 909"> <p>a)</p> <p>अपरोधन से कार्यफलन का मान प्राप्त किया जा सकता है</p> <p>b) i) $p = \sqrt{2mK}$ $= \sqrt{2 \times 9.1 \times 10^{-31} \times 80 \times 1.6 \times 10^{-19}}$ $= 4.8 \times 10^{-24} \text{ kg m/s}$</p> <p>ii) $\lambda = \frac{h}{p} = \frac{6.63 \times 10^{-34}}{4.8 \times 10^{-25}} = 1.38 \times 10^{-9} \text{ m}$</p> </div>	1	
27	<div data-bbox="313 1245 1284 1444"> <p>a) a) V-I अभिलाक्षणिकों का अध्ययन करने के लिये परिपथ व्यवस्था 1 b) अभिलाक्षणिकों की आकृति को दर्शाना 1 c) अभिलाक्षणिकों से प्राप्त दो सूचनाएं $\frac{1}{2} + \frac{1}{2}$</p> </div> <div data-bbox="378 1476 833 1749"> <p>अग्रदिशिक अभिलाक्षणिक के लिए परिपथ आरेख</p> </div>	$\frac{1}{2}$	

	<div data-bbox="370 205 820 520" data-label="Diagram"> </div> <p data-bbox="310 527 893 611">पश्चद्विशिक अभिलाक्षणिक के लिए परिपथ आरेख b)</p> <div data-bbox="370 657 857 1098" data-label="Figure"> </div> <p data-bbox="310 1157 941 1199">नोट : कृपया मान न लिखने के लिए अंकों को ना काटें</p> <p data-bbox="310 1241 1344 1367">c) कोई दो सूचनाएं देहली वोल्टता / प्रतीप संतृप्त धारा / भंजन वोल्टता / अग्रद्विशिक बायस में बहुत कम प्रतिरोध / पश्चद्विशिक बायस में बहुत तीव्र प्रतिरोध</p>	<div data-bbox="1398 327 1430 359" data-label="Text">1/2</div> <div data-bbox="1398 873 1422 905" data-label="Text">1</div> <div data-bbox="1365 1335 1455 1367" data-label="Text">1/2 + 1/2</div> <div data-bbox="1528 1335 1552 1367" data-label="Text">3</div>															
28	<div data-bbox="347 1436 1256 1698" data-label="List-Group"> <table border="1"> <tbody> <tr> <td>a)</td> <td>द्रव्यमान क्षति ज्ञात करना</td> <td>1/2</td> </tr> <tr> <td></td> <td>बंधन ऊर्जा परिभाषित करना</td> <td>1/2</td> </tr> <tr> <td></td> <td>विखण्डन प्रक्रम का वर्णन करना</td> <td>1/2</td> </tr> <tr> <td>b)</td> <td>द्रव्यमान क्षति का परिकलन</td> <td>1</td> </tr> <tr> <td></td> <td>ऊर्जा का परिकलन</td> <td>1/2</td> </tr> </tbody> </table> </div> <p data-bbox="310 1719 1344 1881">a) नाभिक के द्रव्यमान एवं इसके घटकों के द्रव्यमान के अंतर को द्रव्यमान क्षति कहते हैं। किसी नाभिक को इसके न्यूक्लिऑनों में पृथक्कृत करने के आवश्यक ऊर्जा को बंधन ऊर्जा कहते हैं।</p>	a)	द्रव्यमान क्षति ज्ञात करना	1/2		बंधन ऊर्जा परिभाषित करना	1/2		विखण्डन प्रक्रम का वर्णन करना	1/2	b)	द्रव्यमान क्षति का परिकलन	1		ऊर्जा का परिकलन	1/2	<div data-bbox="1398 1724 1430 1755" data-label="Text">1/2</div> <div data-bbox="1398 1808 1430 1839" data-label="Text">1/2</div>
a)	द्रव्यमान क्षति ज्ञात करना	1/2															
	बंधन ऊर्जा परिभाषित करना	1/2															
	विखण्डन प्रक्रम का वर्णन करना	1/2															
b)	द्रव्यमान क्षति का परिकलन	1															
	ऊर्जा का परिकलन	1/2															

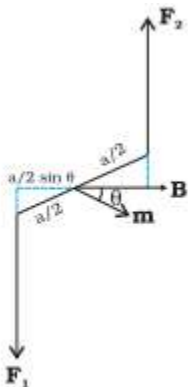
	<p>विखण्डन प्रक्रम में एक अत्यधिक भारी नाभिक जब दो हल्के नाभिक में विघटित होता है , इस प्रक्रिया में ऊर्जा विमुक्त होती है जिसके परिणाम स्वरूप बंधन ऊर्जा प्रति न्यूक्लिऑन बढ़ती है </p> <p>b) $\Delta m = (m_p + m_n) - m_d$ $\Delta m = (1.007277 + 1.008665) - 2.013553$ $\Delta m = 0.002389 \text{ u}$ विमुक्त ऊर्जा = $\Delta m \times c^2$ विमुक्त ऊर्जा = 0.002389×931.5 = $2.2253 \text{ MeV} \approx 2.22 \text{ MeV}$</p>	<p>$\frac{1}{2}$</p> <p>$\frac{1}{2}$</p> <p>$\frac{1}{2}$</p> <p>$\frac{1}{2}$</p>	3										
	खण्ड-घ												
29	<p>i) (C)</p>  <p>ii) (A) उत्तल दर्पण के लिए आवर्धन सदैव ऋणात्मक होता है </p> <p>iii) (B) $2f$</p> <p>अथवा</p> <p>(B) 12 cm</p> <p>iv) (C) $\sqrt{X_1 X_2}$</p>	<p>1</p> <p>1</p> <p>1</p> <p>1</p>	4										
30	<p>i) (B) $5mC$</p> <p>ii) (A) zero</p> <p>iii) (D) $[M^0 L^0 T A^0]$</p> <p>iv) (A) $\frac{1}{2\sqrt{e}} mA$</p> <p>प्रत्येक छात्र को 1 अंक प्रश्न के इस भाग के लिए प्रदान करें यदि छात्र ने इस प्रश्न के दूसरे भागों को हल करने का प्रयास किया है</p> <p>अथवा</p> <p>(B) 0.5 mA</p>	<p>1</p> <p>1</p> <p>1</p> <p>1</p>	4										
	खण्ड - ड												
31	<p>a)</p> <table border="1"> <tr> <td>i) 1) कलासंबद्ध स्रोत की परिभाषा</td> <td>1</td> </tr> <tr> <td>सतत व्यतिकरण पैटर्न के लिए कला संबद्ध स्रोतों का आवश्यक होना</td> <td>1</td> </tr> <tr> <td>2) व्याख्या</td> <td>1</td> </tr> <tr> <td>ii) 1) निकटवर्ती चमकीली व्यतिकरण फ्रिंजों के बीच की दूरी का परिकलन</td> <td>1</td> </tr> <tr> <td>2) कोणीय चौड़ाई का परिकलन</td> <td>1</td> </tr> </table>	i) 1) कलासंबद्ध स्रोत की परिभाषा	1	सतत व्यतिकरण पैटर्न के लिए कला संबद्ध स्रोतों का आवश्यक होना	1	2) व्याख्या	1	ii) 1) निकटवर्ती चमकीली व्यतिकरण फ्रिंजों के बीच की दूरी का परिकलन	1	2) कोणीय चौड़ाई का परिकलन	1		
i) 1) कलासंबद्ध स्रोत की परिभाषा	1												
सतत व्यतिकरण पैटर्न के लिए कला संबद्ध स्रोतों का आवश्यक होना	1												
2) व्याख्या	1												
ii) 1) निकटवर्ती चमकीली व्यतिकरण फ्रिंजों के बीच की दूरी का परिकलन	1												
2) कोणीय चौड़ाई का परिकलन	1												

<p>a) i) 1) यदि दो स्रोत कलासंबद्ध है तो किसी भी बिन्दु पर कलांतर समय के साथ नहीं बदलेगा।</p> <p><u>वैकल्पिक</u></p> <p>1) दो स्रोत कलासंबद्ध कहे जाते हैं यदि वे लगातार समान आवृत्ति / तरंगदैर्घ्य और शून्य अथवा सतत कलांतर के साथ प्रकाश उत्सर्जित करते हैं।</p> <p>सतत कलांतर पाने के लिए कलासंबद्ध स्रोतों की आवश्यकता होती है</p> <p>2) दो स्वतंत्र स्रोत कभी भी कला संबद्ध नहीं होंगे , क्योंकि इनके बीच कलांतर सतत नहीं होता है।</p> <p>ii) 1) निकटवर्ती चमकीली फ्रिज के बीच की दूरी = फ्रिज चौड़ाई</p> $\beta = \frac{\lambda D}{d}$ $= \frac{600 \times 10^{-9} \times 1.2}{0.1 \times 10^{-3}} = 7.2 \text{ mm}$ <p>2) $\theta = \frac{\lambda}{d}$</p> $= \frac{600 \times 10^{-9}}{0.1 \times 10^{-3}} = 6 \times 10^{-3} \text{ rad} = 0.34^\circ$ <p>यदि छात्र उत्तर को सिर्फ रेडियन में लिखता है तो पूरे अंक दिए जायें। अथवा</p> <p>b)</p> <table border="1"> <tr> <td>i) तरंगाग्र की परिभाषा</td> <td>1</td> </tr> <tr> <td>आपतित और अपवर्तित तरंगाग्रों का आरेख खींचना</td> <td>$\frac{1}{2} + \frac{1}{2}$</td> </tr> <tr> <td>ii) किरण आरेख खींचना</td> <td>1</td> </tr> <tr> <td>अंतिम प्रतिबिम्ब की स्थिति प्राप्त करना</td> <td>2</td> </tr> </table> <p>b) i) समान कला में दोलन करते ऐसे सभी बिन्दुओं का बिन्दु पथ तरंगाग्र कहलाता है।</p> <div> </div> <p>f त्रिज्या का गोलीय तरंगाग्र</p>	i) तरंगाग्र की परिभाषा	1	आपतित और अपवर्तित तरंगाग्रों का आरेख खींचना	$\frac{1}{2} + \frac{1}{2}$	ii) किरण आरेख खींचना	1	अंतिम प्रतिबिम्ब की स्थिति प्राप्त करना	2	<p>1</p> <p>1</p> <p>1</p> <p>$\frac{1}{2}$</p> <p>$\frac{1}{2}$</p> <p>$\frac{1}{2}$</p> <p>$\frac{1}{2}$</p> <p>1</p> <p>$\frac{1}{2} + \frac{1}{2}$</p>
i) तरंगाग्र की परिभाषा	1								
आपतित और अपवर्तित तरंगाग्रों का आरेख खींचना	$\frac{1}{2} + \frac{1}{2}$								
ii) किरण आरेख खींचना	1								
अंतिम प्रतिबिम्ब की स्थिति प्राप्त करना	2								

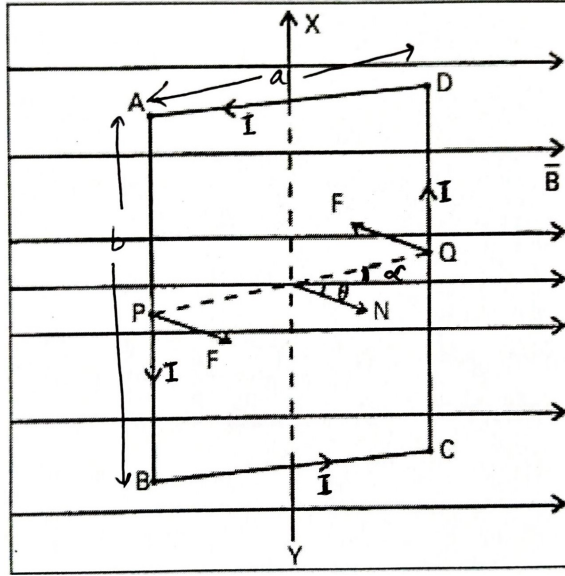
<p>(ii)</p>  <p>प्रथम पृष्ठ से , विरल माध्यम से सघन माध्यम में अपवर्तन और वस्तु अनंत पर रखी है $n_1 = 1$, $n_2 = 1.5$, $R = 15 \text{ cm}$, $u = \infty$ $\frac{n_2}{v} - \frac{n_1}{u} = \frac{n_2 - n_1}{R}$ $\frac{1.5}{v} - \frac{1}{\infty} = \frac{1.5 - 1}{15}$ $v = 45 \text{ cm}$</p> <p>द्वितीय पृष्ठ से , सघन माध्यम से विरल माध्यम में अपवर्तन और वस्तु पर 15 cm पर रखी है $n_1 = 1$, $n_2 = 1.5$, $R = -15 \text{ cm}$, $u = 15 \text{ cm}$ $\frac{n_1}{v} - \frac{n_2}{u} = \frac{n_1 - n_2}{R}$ $\frac{1}{v} - \frac{1.5}{15} = \frac{1 - 1.5}{-15}$ $v = 7.5 \text{ cm}$</p>	<p>1</p> <p>$\frac{1}{2}$</p> <p>$\frac{1}{2}$</p> <p>$\frac{1}{2}$</p> <p>$\frac{1}{2}$</p>	<p>5</p>								
<p>32</p> <p>a)</p> <table border="1" data-bbox="357 1375 1323 1596"> <tr> <td>i) निकाय की स्थिर विद्युत ऊर्जा में परिवर्तन का परिकलन</td> <td>2</td> </tr> <tr> <td>ii) (1) धारिता ज्ञात करना</td> <td>1</td> </tr> <tr> <td>(2) विभवान्तर ज्ञात करना</td> <td>1</td> </tr> <tr> <td>(3) उत्तर और कारण</td> <td>$\frac{1}{2} + \frac{1}{2}$</td> </tr> </table> <p>(i) $\vec{E} = \frac{3 \times 10^5}{r^2} \hat{r}$ (दिया गया है) $dV = -\vec{E} \cdot d\vec{r}$ $V = 3 \times 10^5 / r$ क्षेत्र की अनुपस्थिति में निकाय की स्थिर विद्युत ऊर्जा</p>	i) निकाय की स्थिर विद्युत ऊर्जा में परिवर्तन का परिकलन	2	ii) (1) धारिता ज्ञात करना	1	(2) विभवान्तर ज्ञात करना	1	(3) उत्तर और कारण	$\frac{1}{2} + \frac{1}{2}$		
i) निकाय की स्थिर विद्युत ऊर्जा में परिवर्तन का परिकलन	2									
ii) (1) धारिता ज्ञात करना	1									
(2) विभवान्तर ज्ञात करना	1									
(3) उत्तर और कारण	$\frac{1}{2} + \frac{1}{2}$									

$U_i = \frac{Kq_1q_2}{r_{12}}$	1/2				
<p>क्षेत्र की उपस्थिति में स्थिर विद्युत ऊर्जा</p> $U_f = \frac{Kq_1q_2}{r_{12}} + q_1V(r_1) + q_2V(r_2)$ $\Delta U = U_f - U_i = q_1V(r_1) + q_2V(r_2)$ $\Delta U = \frac{5 \times 10^{-6} \times 3 \times 10^5}{3 \times 10^{-2}} - \frac{1 \times 10^{-6} \times 3 \times 10^5}{3 \times 10^{-2}}$ $= 40 \text{ J}$	1/2				
<p>ii) 1) $C = \frac{Q}{V} = \frac{80}{16} = 5 \mu F$</p>	1/2 1				
<p>2) $C' = KC$ $= 3 \times 5 \mu F = 15 \mu F$ $V' = \frac{Q}{C'} = \frac{80 \mu C}{15 \mu F} = 5.33 V$</p>	1/2				
<p>3) नहीं, निकाय की धारिता इसकी ज्यामिती पर निर्भर करती है अथवा</p>	1/2 1/2				
<p>b)</p> <table border="1"> <tr> <td>i) विद्युत क्षेत्रों के परिणाम की तुलना</td> <td>2</td> </tr> <tr> <td>ii) आवेश पर किये गये कार्य का परिकलन</td> <td>3</td> </tr> </table>	i) विद्युत क्षेत्रों के परिणाम की तुलना	2	ii) आवेश पर किये गये कार्य का परिकलन	3	
i) विद्युत क्षेत्रों के परिणाम की तुलना	2				
ii) आवेश पर किये गये कार्य का परिकलन	3				
<p>A के लिए कुल आवेश = B के लिए कुल आवेश = C के लिए कुल आवेश = +4q क्योंकि, $E = \frac{kQ}{r^2}$ चूँकि $Q = 4q$ तथा $r = 3R$ $E = \frac{k(4q)}{9R^2} = \frac{4kq}{9R^2}$</p>	1				
<p>∴ $E_A = E_B = E_C$</p>	1/2				
<p>ii) $V_c = \left[\frac{k \times 6 \times 10^{-6}}{5 \times 10^{-2}} - \frac{k \times 6 \times 10^{-6}}{5 \times 10^{-2}} \right]$ $= 0$</p>	1/2 1				
<p>$V_A = \left[\frac{k \times 6 \times 10^{-6}}{15 \times 10^{-2}} - \frac{k \times 6 \times 10^{-6}}{5 \times 10^{-2}} \right]$ $= \frac{k \times 6 \times 10^{-6}}{10^{-2}} \left[\frac{1-3}{15} \right]$</p>	1/2				

	$= -\frac{9 \times 10^9 \times 6 \times 10^{-6} \times 2}{15 \times 10^{-2}}$ $= -7.2 \times 10^5 \text{ V}$ $W = q[V_A - V_c]$ $= 5 \times 10^{-6} [-7.2 \times 10^5 - 0]$ $W = -3.6 \text{ J}$	$\frac{1}{2}$ $\frac{1}{2}$ $\frac{1}{2}$	5
33	<p>a)</p> <div style="border: 1px solid black; padding: 5px; margin: 5px;"> <p>i) बिन्दु P, Q और R पर चुम्बकीय क्षेत्र की दिशा ज्ञात करने के लिए $\frac{1}{2} + \frac{1}{2} + \frac{1}{2}$</p> <p>चुम्बकीय क्षेत्रों के आपेक्षिक परिमाण के बारे में निष्कर्ष $\frac{1}{2} + \frac{1}{2} + \frac{1}{2}$</p> <p>ii) पाश के चुम्बकीय आघूर्ण को दर्शाना 2</p> </div> <p>i) बिन्दु P के पास चुम्बकीय क्षेत्र तल के अभिलम्बवत अन्दर की ओर कार्य कर रहा है जिससे बल ऊपर की ओर लग रहा है। बिन्दु Q के पास चुम्बकीय क्षेत्र तल के अभिलम्बवत अन्दर की ओर कार्य कर रहा है जिससे बल ऊपर की ओर लग रहा है। बिन्दु R के पास चुम्बकीय क्षेत्र तल के अभिलम्बवत बाहर की ओर कार्य कर रहा है जिससे बल नीचे की ओर लग रहा है। चुम्बकीय क्षेत्र के आपेक्षिक परिणाम क्योंकि $B \propto \frac{1}{r}$ अतः P बिन्दु के पास B का परिमाण कम है। Q बिन्दु के पास P बिन्दु के सापेक्ष B का परिमाण कम है। R बिन्दु के पास P बिन्दु के सापेक्ष B का परिमाण अधिक है। ($B_Q < B_P < B_R$)</p> <p>ii) यदि वृत्ताकार पाश की त्रिज्या r है और पाश में धारा I है तब</p> $B = \frac{\mu_0 I}{2r} \text{ or } I = \frac{2Br}{\mu_0}$ $A = \pi r^2 \quad r = \sqrt{\frac{A}{\pi}}$ <p>$M = IA$</p>	$\frac{1}{2}$ $\frac{1}{2}$ $\frac{1}{2}$ $\frac{1}{2}$ $\frac{1}{2}$	

	$= \frac{2Br}{\mu_0} A$ $= \frac{2BA}{\mu_0} \sqrt{\frac{A}{\pi}}$ <p style="text-align: center;">अथवा</p>	1/2	
	<p>b)</p> <div style="border: 1px solid black; padding: 10px; margin: 10px 0;"> <p>i) बल आघूर्ण का व्यंजक व्युत्पन्न करना 3</p> <p>ii) 1) त्रिज्या में परिवर्तन को ज्ञात करना 1</p> <p>2) परिक्रमण के आवर्तकाल में परिवर्तन को ज्ञात करना 1</p> </div>	1/2	
	<p>(i)</p>  <p>आयताकार कुंडली जिनकी भुजा a और b है , दोनों भुजा पर लगने वाले बल \vec{F}_1 और \vec{F}_2 है </p> $ \vec{F}_1 = \vec{F}_2 = I b B \quad (b = \text{भुजा की लंबाई})$ <p>लगने वाले बलों से बलयुग्म बनता है पाश पर बल आघूर्ण का परिणाम है -</p> $\tau = F_1 \frac{a}{2} \sin \theta + F_2 \frac{a}{2} \sin \theta$ $= I a b B \sin \theta$ $= I A B \sin \theta$ $\vec{\tau} = I \vec{A} \times \vec{B}$	1/2	
		1	
		1/2	
		1/2	
		1/2	

वैकल्पिक



1/2

यदि धारा रहित कुंडली का तल चुम्बकीय क्षेत्र के साथ α कोण बनाता है

$\vec{F}_{DA} = -\vec{F}_{BC}$ (एक दूसरे को निर्गत करते हैं)

1/2

भुजा BC पर बल पृष्ठ के नीचे तल पर है

1/2

$$|F_{BC}| = I b B$$

भुजा DA पर बल पृष्ठ के ऊपर तल पर है

1/2

$$|F_{DA}| = I b B$$

दोनों ही बल बलयुग्म बनाते हैं और कुंडली पर लगने वाला बल आघूर्ण है

$\tau = \text{कोई बल} \times \text{दो बलों के बीच लम्बवत् दूरी}$

$$\tau = I b B \times a \cos \alpha$$

$$= I a b B \cos \alpha$$

$$\tau = I A B \cos \alpha$$

1/2

Let \hat{n} = माना में = कुंडली के तल पर बाहर की ओर

$$\theta + \alpha = 90^\circ$$

$$\alpha = 90^\circ - \theta$$

$$\tau = I A B \cos(90 - \theta)$$

$$= I A B \sin \theta$$

1/2

$$\vec{\tau} = I \vec{A} \times \vec{B}$$

$$\text{ii) 1) } r = \frac{mv}{qB} = \frac{\sqrt{2mK}}{qB}$$

1/2

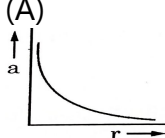
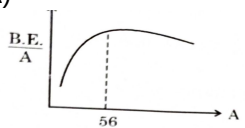
	$r \propto \sqrt{K}$ $\frac{r'}{r} = \frac{\sqrt{K/2}}{\sqrt{K}} = \frac{1}{\sqrt{2}}$ $r' = \frac{r}{\sqrt{2}}$	$\frac{1}{2}$	
2)	$T = \frac{2\pi m}{qB}$ <p>आवर्तकाल गतिज्ञ ऊर्जा पर निर्भर नहीं करता है \therefore आवर्तकाल नहीं बदलेगा</p>	$\frac{1}{2}$	
		$\frac{1}{2}$	5

Marking Scheme
Strictly Confidential
(For Internal and Restricted use only)
Senior School Certificate Examination, 2025
SUBJECT NAME PHYSICS (PAPER CODE 55/1/3)

General Instructions: -

1	You are aware that evaluation is the most important process in the actual and correct assessment of the candidates. A small mistake in evaluation may lead to serious problems which may affect the future of the candidates, education system and teaching profession. To avoid mistakes, it is requested that before starting evaluation, you must read and understand the spot evaluation guidelines carefully.
2	“Evaluation policy is a confidential policy as it is related to the confidentiality of the examinations conducted, Evaluation done and several other aspects. Its’ leakage to public in any manner could lead to derailment of the examination system and affect the life and future of millions of candidates. Sharing this policy/document to anyone, publishing in any magazine and printing in News Paper/Website etc may invite action under various rules of the Board and IPC.”
3	Evaluation is to be done as per instructions provided in the Marking Scheme. It should not be done according to one’s own interpretation or any other consideration. Marking Scheme should be strictly adhered to and religiously followed. However, while evaluating, answers which are based on latest information or knowledge and/or are innovative, they may be assessed for their correctness otherwise and due marks be awarded to them. In class-X, while evaluating two competency-based questions, please try to understand given answer and even if reply is not from marking scheme but correct competency is enumerated by the candidate, due marks should be awarded.
4	The Marking scheme carries only suggested value points for the answers. These are in the nature of Guidelines only and do not constitute the complete answer. The students can have their own expression and if the expression is correct, the due marks should be awarded accordingly.
5	The Head-Examiner must go through the first five answer books evaluated by each evaluator on the first day, to ensure that evaluation has been carried out as per the instructions given in the Marking Scheme. If there is any variation, the same should be zero after deliberation and discussion. The remaining answer books meant for evaluation shall be given only after ensuring that there is no significant variation in the marking of individual evaluators.
6	Evaluators will mark(✓) wherever answer is correct. For wrong answer CROSS ‘X’ be marked. Evaluators will not put right (✓)while evaluating which gives an impression that answer is correct and no marks are awarded. This is most common mistake which evaluators are committing.
7	If a question has parts, please award marks on the right-hand side for each part. Marks awarded for different parts of the question should then be totaled up and written in the left-hand margin and encircled. This may be followed strictly.
8	If a question does not have any parts, marks must be awarded in the left-hand margin and encircled. This may also be followed strictly.

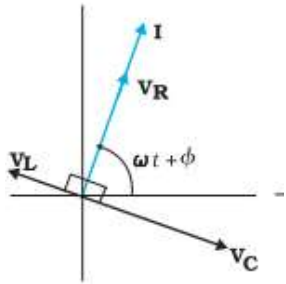
9	If a student has attempted an extra question, answer of the question deserving more marks should be retained and the other answer scored out with a note "Extra Question" .
10	No marks to be deducted for the cumulative effect of an error. It should be penalized only once.
11	A full scale of marks <u>70</u> (example 0 to 80/70/60/50/40/30 marks as given in Question Paper) has to be used. Please do not hesitate to award full marks if the answer deserves it.
12	Every examiner has to necessarily do evaluation work for full working hours i.e., 8 hours every day and evaluate 20 answer books per day in main subjects and 25 answer books per day in other subjects (Details are given in Spot Guidelines). This is in view of the reduced syllabus and number of questions in question paper.
13	<p>Ensure that you do not make the following common types of errors committed by the Examiner in the past:-</p> <ul style="list-style-type: none"> • Leaving answer or part thereof unassessed in an answer book. • Giving more marks for an answer than assigned to it. • Wrong totaling of marks awarded on an answer. • Wrong transfer of marks from the inside pages of the answer book to the title page. • Wrong question wise totaling on the title page. • Wrong totaling of marks of the two columns on the title page. • Wrong grand total. • Marks in words and figures not tallying/not same. • Wrong transfer of marks from the answer book to online award list. • Answers marked as correct, but marks not awarded. (Ensure that the right tick mark is correctly and clearly indicated. It should merely be a line. Same is with the X for incorrect answer.) • Half or a part of answer marked correct and the rest as wrong, but no marks awarded.
14	While evaluating the answer books if the answer is found to be totally incorrect, it should be marked as cross (X) and awarded zero (0) Marks.
15	Any un assessed portion, non-carrying over of marks to the title page, or totaling error detected by the candidate shall damage the prestige of all the personnel engaged in the evaluation work as also of the Board. Hence, in order to uphold the prestige of all concerned, it is again reiterated that the instructions be followed meticulously and judiciously.
16	The Examiners should acquaint themselves with the guidelines given in the "Guidelines for spot Evaluation" before starting the actual evaluation.
17	Every Examiner shall also ensure that all the answers are evaluated, marks carried over to the title page, correctly totaled and written in figures and words.
18	The candidates are entitled to obtain photocopy of the Answer Book on request on payment of the prescribed processing fee. All Examiners/Additional Head Examiners/Head Examiners are once again reminded that they must ensure that evaluation is carried out strictly as per value points for each answer as given in the Marking Scheme.

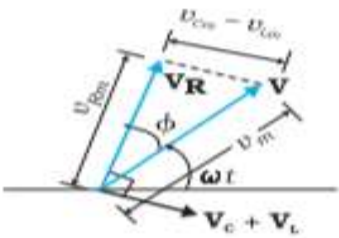
अंक योजना : भौतिकी (042)			
कोड: 55/1/3			
प्र.सं.	मूल्यांकन बिन्दु / अपेक्षित उत्तर	अंक	कुल अंक
खण्ड क			
1	(A) 	1	1
2	(A) 2	1	1
3	(B) $(-3\hat{j}+2\hat{k})\mu\text{N}$	1	1
4	(D) 0.1 A	1	1
5	(B) 2866	1	1
6	(D) $\frac{i_0 v_0}{2} \cos \phi$	1	1
7	(B) की तरंगदैर्घ्य पराबैंगनी विकिरणों की तरंगदैर्घ्य से कम होती है	1	1
8	(B) $\frac{nH^2}{(n^2-1)}$	1	1
9	(C) 2.5eV	1	1
10	(C) रोधिका की ऊँचाई और हासी स्तर की चौड़ाई दोनों में कमी होती है	1	1
11	(B) $\lambda_e > \lambda_p > \lambda_d$	1	1
12	(A) 	1	1
13	(C) अभिकथन (A) सत्य है, परन्तु कारण (R) असत्य है।	1	1
14	(D) अभिकथन (A) और कारण (R) दोनों ही असत्य हैं।	1	1
15	(A) अभिकथन (A) और कारण (R) दोनों सत्य हैं और कारण (R) अभिकथन (A) की सही व्याख्या है।	1	1
16	(A) अभिकथन (A) और कारण (R) दोनों सत्य हैं और कारण (R) अभिकथन (A) की सही व्याख्या है।	1	1
खण्ड-ख			
17	<div style="border: 1px solid black; padding: 5px; display: inline-block; width: 50%;"> विभवान्तर का परिकलन <div style="text-align: right;">2</div> </div> तुल्य विद्युत वाहक बल = $(n-4)E$ $\therefore I = \frac{(n-4)E}{nr}$ 'X' पर विभवान्तर	1/2	

	<p><u>वैकल्पिक</u></p> <p>कलान्तर = $\frac{2\pi}{\lambda} \times \text{पथान्तर}$</p> <p>$\Delta\phi = \frac{2\pi}{\lambda} \Delta x$</p> <p>$\therefore \Delta x = \frac{\lambda}{8}$ (दिया गया है)</p> <p>$\Delta\phi = \frac{2\pi}{\lambda} \times \frac{\lambda}{8}$</p> <p>$\Delta\phi = \frac{\pi}{4}$</p> <p>$I = 4I_0 \cos^2\left(\frac{\phi}{2}\right)$</p> <p>$I = 4I_0 \cos^2\left(\frac{\pi}{8}\right)$</p>	<p>$\frac{1}{2}$</p> <p>$\frac{1}{2}$</p> <p>$\frac{1}{2}$</p> <p>$\frac{1}{2}$</p> <p>2</p>	
19	<div>पानी में फोकस दूरी का परिकलन 2</div> <p>$\frac{1}{f} = \left(\frac{n_g}{n_w} - 1\right) \left(\frac{1}{R_1} - \frac{1}{R_2}\right)$</p> <p>उभयोत्तल लेंस के लिए $R_1=R$ और $R_2= -R$</p> <p>$\frac{1}{f} = \left(\frac{1.5}{1.33} - 1\right) \left(\frac{2}{R}\right)$</p> <p>$= \left(\frac{1.5 - 1.33}{1.33}\right) \left(\frac{2}{17}\right)$</p> <p>$f = 66.5 \text{ cm}$</p>	<p>$\frac{1}{2}$</p> <p>$\frac{1}{2}$</p> <p>$\frac{1}{2}$</p> <p>$\frac{1}{2}$</p> <p>2</p>	
20	<div>त्रिज्या में परिवर्तन का परिकलन 2</div> <p>$E_n = \frac{-13.6}{n^2} eV$</p> <p>के लिए $E_n = -1.51 eV$</p> <p>$-1.51 = \frac{-13.6}{n^2}$</p> <p>$n=3$</p> <p>के लिए $E_n = -3.40 eV$</p>	<p>$\frac{1}{2}$</p> <p>$\frac{1}{2}$</p>	

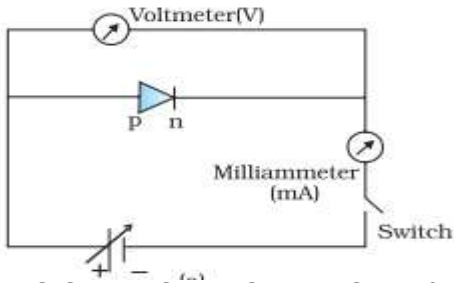
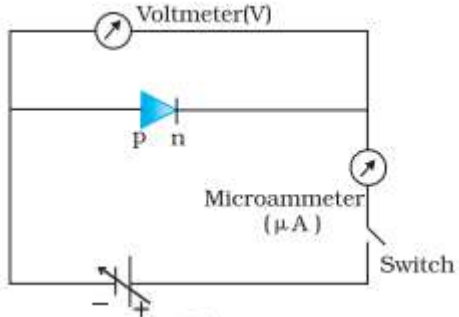
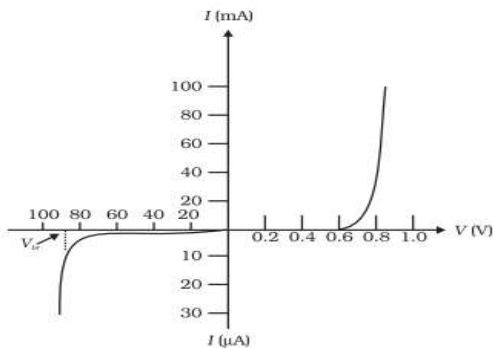
	$-3.40 = \frac{-13.6}{n^2}$ $n = 2$ $\therefore r = 0.53n^2 A^\circ$ $\therefore \text{त्रिज्या में परिवर्तन}$ $\Delta r = 0.53[3^2 - 2^2]$ $= 0.53 \times 5$ $= 2.65 A^\circ$	1/2	
		1/2	2
21	<div style="border: 1px solid black; padding: 5px; margin-bottom: 10px;"> <div style="display: flex; justify-content: space-between;"> होलों की संख्या ज्ञात करना 1 </div> <div style="display: flex; justify-content: space-between;"> एक उदाहरण 1 </div> </div> <p>एक अपमिश्रक परमाणु प्रति 5×10^7 सिलिकॉन परमाणु और सिलिकॉन परमाणु का संख्या घनत्व $= 5 \times 10^{28}$ परमाणु प्रति घनमीटर दिया है प्रति घनमीटर में निर्मित होलों की संख्या $= \frac{5 \times 10^{28}}{5 \times 10^7} = 10^{21}$ प्रति घनसेंटीमीटर से निर्मित होलों की संख्या $= \frac{10^{21}}{10^6} = 10^{15}$ अपमिश्रक का कोई एक उदाहरण - एल्युमिनियम / इंडीयम / गैलियम</p>	1	2
	खण्ड-ग		
22	<p>(a)</p> <div style="border: 1px solid black; padding: 5px; margin-bottom: 10px;"> <div style="display: flex; justify-content: space-between;"> ज्ञात करना </div> <div style="display: flex; justify-content: space-between;"> (i) संयोजन का तुल्य emf 1 </div> <div style="display: flex; justify-content: space-between;"> (ii) संयोजन का तुल्य आंतरिक प्रतिरोध 1 </div> <div style="display: flex; justify-content: space-between;"> (iii) संयोजन से ली गई धारा 1 </div> </div> <p>(i) क्योंकि $E_{eq} = \frac{E_1 r_2 + E_2 r_1}{r_1 + r_2}$</p> $E_{eq} = \frac{3 \times 0.4 + 6 \times 0.2}{0.6} = 4 \text{ V}$ <p>(ii) $r_{eq} = \frac{r_1 r_2}{r_1 + r_2}$</p> $r_{eq} = \frac{0.2 \times 0.4}{0.2 + 0.4} = 0.133 \Omega$	1/2	
		1/2	
		1/2	
		1/2	

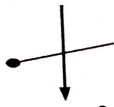
	<p>(iii) $I = \frac{E}{R + r_{eq}}$</p> $I = \frac{4}{4 + 0.13} = \frac{4}{4.13} A$ $I = 0.9A$ <p style="text-align: center;">अथवा</p> <div style="border: 1px solid black; padding: 10px; margin: 10px 0;"> <p>(b) (i) संबंध ज्ञात करना</p> <p>(i) R' और R के बीच 1</p> <p>(ii) v_d' और v_d के बीच 1</p> <p>(ii) यह पता लगाना कि क्या सभी मुक्त इलेक्ट्रॉन एक ही दिशा में गति कर रहे हैं 1</p> </div> <p>(i) $l' = 2l$ $Al = A'l' = \text{तार का आयतन}$ $Al = A'(2l)$ $\frac{A}{2} = A'$ $R = \frac{\rho l}{A}$ $R' = \frac{\rho l'}{A'}$ $R' = \frac{\rho(2l)}{A/2}$ $\frac{R'}{R} = 4$</p> <p>वैकल्पिक $R' = n^2 R$ $n = 2$ $R' = 4R$</p> <p>(ii) $v_d = \frac{eE}{m} \tau$</p> $v_d = \frac{eV}{ml} \tau$	<p>$\frac{1}{2}$</p> <p>$\frac{1}{2}$</p> <p>$\frac{1}{2}$</p> <p>$\frac{1}{2}$</p> <p>$\frac{1}{2}$</p> <p>$\frac{1}{2}$</p> <p>$\frac{1}{2}$</p> <p>$\frac{1}{2}$</p>	
--	---	---	--

	$v_d' = \frac{eV}{ml'} \tau$ $\frac{v_d'}{v_d} = \frac{l}{l'} = \frac{1}{2}$	1/2	
	(ii) नहीं	1	3
23	<div style="border: 1px solid black; padding: 5px; margin-bottom: 10px;"> ज्ञात करना a) चुम्बकीय क्षेत्र \vec{B} 1 b) चुम्बकीय बल \vec{F}_m 1 c) वैद्युत क्षेत्र ज्ञात करना \vec{E} 1 </div> <p>a) $\vec{B} = \frac{\mu_0 I}{2\pi d} (-\hat{K})$</p> <p>b) $\vec{F}_B = q(\vec{v} \times \vec{B}) = \frac{qv\mu_0 I}{2\pi d} (-\hat{j})$</p> <p>c) $q\vec{F}_e = -\vec{F}_B$ (आवेश के विचलन के लिए) $\therefore \vec{F}_e = \frac{qv\mu_0 I}{2\pi d} (\hat{j})$ $\vec{F}_e = q\vec{E}$ $\therefore \vec{E} = \frac{\mu_0 v I}{2\pi d} \hat{j}$</p>	1 1 1/2 1/2	3
24	<div style="border: 1px solid black; padding: 5px; margin-bottom: 10px;"> फेजर का आरेख खींचना 1 परिपथ की प्रतिबाधा 1 1/2 तथा कलांतर के लिए 1/2 व्यंजक प्राप्त करना </div> <p>a)</p> 		

	<p>b)</p>  <p> $V_{Rm} = i_m R$, $V_{Cm} = i_m X_c$, $V_{Lm} = i_m X_L$ फेजर आरेख से $V_m^2 = V_{Rm}^2 + (V_{Cm} - V_{Lm})^2$ $V_m^2 = (i_m R)^2 + (i_m X_c - i_m X_L)^2$ $= (i_m)^2 [R^2 + (X_c - X_L)^2]$ Or $i_m = \frac{V_m}{\sqrt{R^2 + (X_c - X_L)^2}}$ $\therefore i_m = \frac{V_m}{Z}$ $\therefore Z = \sqrt{R^2 + (X_c - X_L)^2}$ फेजर आरेख से $\tan \theta = \frac{V_{Cm} - V_{Lm}}{V_{Rm}}$ $= \frac{X_c - X_L}{R}$ $\therefore \theta = \tan^{-1} \left(\frac{X_c - X_L}{R} \right)$ </p>	<p>$\frac{1}{2} + \frac{1}{2}$</p> <p>$\frac{1}{2}$</p> <p>$\frac{1}{2}$</p> <p>$\frac{1}{2}$</p> <p>$\frac{1}{2}$</p>	
25	<div style="border: 1px solid black; padding: 10px; margin-bottom: 10px;"> <p>a) दर्शाइए कि $(I_c + I_d)$ का मान प्रत्येक बिन्दु पर समान रहता है 2</p> <p>b) किरखोफ के प्रथम नियम का धारिता की प्रत्येक प्लेट पर व्याख्या 1</p> </div> <p>a) \therefore कुल धारा $I = I_c + I_d$ संधारित्र के बाहर $I_d = 0$ $\therefore I = I_c$</p>	$\frac{1}{2}$	3

	<p>संधारित्र के अन्दर</p> $I_c = 0$ $\therefore I = I_d = \epsilon_0 \frac{d\phi_E}{dt}$ $= \epsilon_0 \frac{d}{dt}[EA]$ $= \epsilon_0 \frac{d}{dt}\left[\frac{\sigma}{\epsilon_0} A\right]$ $= \frac{\epsilon_0}{\epsilon_0} A \frac{d}{dt}\left[\frac{Q}{A}\right]$ $I = \frac{dQ}{dt} = I_c$ <p>वैकल्पिक</p> <p>\therefore कुल धारा $I = I_c + I_d$</p> <p>संधारित्र के बाहर</p> $I_d = 0$ $\therefore I = I_c$ <p>संधारित्र के अन्दर</p> $I_c = 0$ $I = I_d = \epsilon_0 \frac{d\phi_E}{dt}$ $= \epsilon_0 \frac{d}{dt}\left[\frac{Q}{\epsilon_0}\right]$ $I = \frac{dQ}{dt} = I_c$ <p>इसलिए $I_c + I_d$ का मान परिपथ के सभी बिन्दुओं पर समान है</p> <p>b) हाँ</p> <p>संधारित्र में प्रवेश करने वाली धारा (I_c) और संधारित्र के प्लेटों के बीच विस्थापन धारा (I_d) है</p> $\therefore I_c = I_d$ <p>जो कि किरखोफ संधि नियम को मान्य करता है</p>	<p>$\frac{1}{2}$</p> <p>$\frac{1}{2}$</p> <p>$\frac{1}{2}$</p> <p>$\frac{1}{2}$</p> <p>$\frac{1}{2}$</p> <p>$\frac{1}{2}$</p> <p>$\frac{1}{2}$</p> <p>1</p>	
26	<div style="border: 1px solid black; padding: 10px; margin-bottom: 10px;"> <p>a) तीन विशेषताओं का उल्लेख करना 1 $\frac{1}{2}$</p> <p>b) प्लांक नियतांक के मान का परिकलन 1 $\frac{1}{2}$</p> </div> <p>a) तीन विशेषताएं</p> <p>i) देहली आवृत्ति का अस्तित्व (ν_0)</p>	<p>$\frac{1}{2}$</p>	

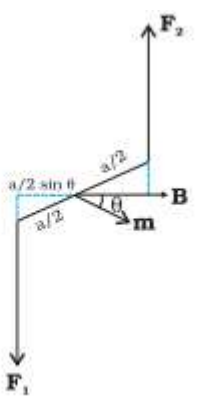
	<p>ii) आपतितविकिरण की तीव्रता फोटोइलेक्ट्रॉनों की अधिकतम गतिज ऊर्जा पर निर्भर नहीं करती है।</p> <p>iii) प्रकाश वैद्युत प्रभाव की प्रकृति तात्क्षणिक होती है</p> <p>b) प्रवणता (ढाल) = $\frac{h}{e}$</p> <p>$\therefore h = e \times \text{प्रवणता (ढाल)}$</p> <p>$= 1.6 \times 10^{-19} \times 4.12 \times 10^{-15}$</p> <p>$= 6.6 \times 10^{-34} \text{ Js}$</p>	<p>$\frac{1}{2}$</p> <p>$\frac{1}{2}$</p> <p>1</p> <p>$\frac{1}{2}$</p>	3
27	<p>a) a) V-I अभिलाक्षणिकों का अध्ययन करने के लिये परिपथ व्यवस्था 1</p> <p>b) अभिलाक्षणिकों की आकृति को दर्शाना 1</p> <p>c) अभिलाक्षणिकों से प्राप्त दो सूचनाएं $\frac{1}{2} + \frac{1}{2}$</p> <div style="text-align: center;">  <p>अग्रदिशिक अभिलाक्षणिक के लिए परिपथ आरेख</p>  <p>पश्चदिशिक अभिलाक्षणिक के लिए परिपथ आरेख</p> <p>b)</p>  </div>	<p>$\frac{1}{2}$</p> <p>$\frac{1}{2}$</p> <p>1</p>	

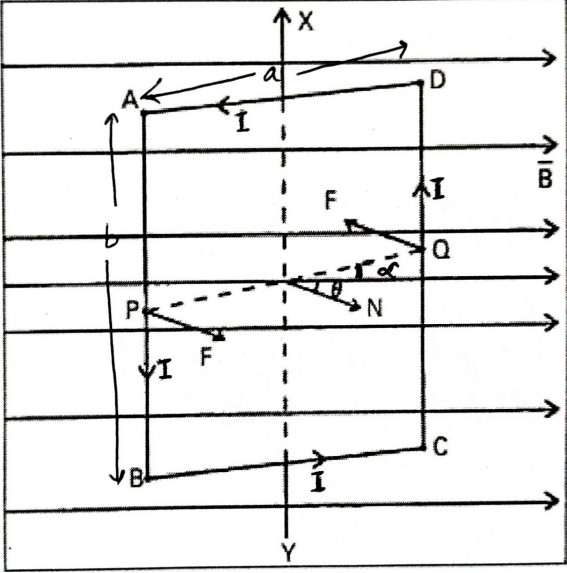
	नोट : कृपया मान न लिखने के लिए अंकों को ना काटें c) कोई दो सूचनाएं देहली वोल्टता / प्रतीप संतृप्त धारा / भंजन वोल्टता / अग्रदिशिक बायस में बहुत कम प्रतिरोध / पश्चदिशिक बायस में बहुत तीव्र प्रतिरोध	$\frac{1}{2} + \frac{1}{2}$	3
28	<div style="border: 1px solid black; padding: 10px; margin: 10px 0;"> a) द्रव्यमान क्षति ज्ञात करना $\frac{1}{2}$ बंधन ऊर्जा परिभाषित करना $\frac{1}{2}$ विखण्डन प्रक्रम का वर्णन करना $\frac{1}{2}$ b) द्रव्यमान क्षति का परिकलन 1 ऊर्जा का परिकलन $\frac{1}{2}$ </div> <p>a) नाभिक के द्रव्यमान एवं इसके घटकों के द्रव्यमान के अंतर को द्रव्यमान क्षति कहते हैं। किसी नाभिक को इसके न्यूक्लिऑनों में पृथक्कृत करने के आवश्यक ऊर्जा को बंधन ऊर्जा कहते हैं। विखण्डन प्रक्रम में एक अत्यधिक भारी नाभिक जब दो हल्के नाभिक में विघटित होता है , इस प्रक्रिया में ऊर्जा विमुक्त होती है। जिसके परिणाम स्वरूप बंधन ऊर्जा प्रति न्यूक्लिऑन बढ़ती है।</p> <p>b) $\Delta m = (m_p + m_n) - m_d$ $\Delta m = (1.007277 + 1.008665) - 2.013553$ $\Delta m = 0.002389 \text{ u}$ विमुक्त ऊर्जा $= \Delta m \times c^2$ विमुक्त ऊर्जा $= 0.002389 \times 931.5$ $= 2.2253 \text{ MeV} \approx 2.22 \text{ MeV}$</p>	$\frac{1}{2}$ $\frac{1}{2}$ $\frac{1}{2}$ $\frac{1}{2}$ $\frac{1}{2}$	3
	खण्ड-घ		
29	i) (C)  ii) (A) उत्तल दर्पण के लिए आवर्धन सदैव ऋणात्मक होता है। iii) (B) $2f$ अथवा (B) 12 cm iv) (C) $\sqrt{X_1 X_2}$	1 1 1 1	4
30	i) (B) 5mC ii) (A) zero iii) (D) $[M^0 L^0 T A^0]$	1 1 1	

<p>b)</p> <table><tr><td>i) तरंगाग्र की परिभाषा</td><td>1</td></tr><tr><td>आपतित और अपवर्तित तरंगाग्रों का आरेख खींचना</td><td>$\frac{1}{2} + \frac{1}{2}$</td></tr><tr><td>ii) किरण आरेख खींचना</td><td>1</td></tr><tr><td>अंतिम प्रतिबिम्ब की स्थिति प्राप्त करना</td><td>2</td></tr></table>	i) तरंगाग्र की परिभाषा	1	आपतित और अपवर्तित तरंगाग्रों का आरेख खींचना	$\frac{1}{2} + \frac{1}{2}$	ii) किरण आरेख खींचना	1	अंतिम प्रतिबिम्ब की स्थिति प्राप्त करना	2		1
i) तरंगाग्र की परिभाषा	1									
आपतित और अपवर्तित तरंगाग्रों का आरेख खींचना	$\frac{1}{2} + \frac{1}{2}$									
ii) किरण आरेख खींचना	1									
अंतिम प्रतिबिम्ब की स्थिति प्राप्त करना	2									
<p>b) i) समान कला में दोलन करते ऐसे सभी बिन्दुओं का बिन्दु पथ तरंगाग्र कहलाता है ।</p> <div></div>		$\frac{1}{2} + \frac{1}{2}$								
<p>f त्रिज्या का गोलीय तरंगाग्र</p> <p>(ii)</p> <div></div>		1								
<p>प्रथम पृष्ठ से , विरल माध्यम से सघन माध्यम में अपवर्तन और वस्तु अनंत पर रखी है</p> <p>$n_1 = 1$, $n_2 = 1.5$, $R = 15 \text{ cm}$, $u = \infty$</p> $\frac{n_2}{v} - \frac{n_1}{u} = \frac{n_2 - n_1}{R}$ $\frac{1.5}{v} - \frac{1}{\infty} = \frac{1.5 - 1}{15}$ <p>$v = 45 \text{ cm}$</p>		$\frac{1}{2}$								
<p>द्वितीय पृष्ठ से , सघन माध्यम से विरल माध्यम में अपवर्तन और वस्तु पर 15 cm पर रखी है</p> <p>$n_1 = 1$, $n_2 = 1.5$, $R = -15 \text{ cm}$, $u = 15 \text{ cm}$</p> $\frac{n_1}{v} - \frac{n_2}{u} = \frac{n_1 - n_2}{R}$		$\frac{1}{2}$								

	$\frac{1}{v} - \frac{1.5}{15} = \frac{1-1.5}{-15}$ $v = 7.5 \text{ cm}$	1/2	5												
32	<p>a)</p> <table border="1"> <tr> <td>i) निकाय की स्थिर विद्युत ऊर्जा में परिवर्तन का परिकलन</td> <td>2</td> </tr> <tr> <td>ii) (1) धारिता ज्ञात करना</td> <td>1</td> </tr> <tr> <td>(2) विभवान्तर ज्ञात करना</td> <td>1</td> </tr> <tr> <td>(3) उत्तर और कारण</td> <td>1/2 + 1/2</td> </tr> </table> <p>(i) $\vec{E} = \frac{3 \times 10^5}{r^2} \hat{r}$ (दिया गया है) $dV = - \vec{E} \cdot d\vec{r}$ $V = 3 \times 10^5 / r$ क्षेत्र की अनुपस्थिति में निकाय की स्थिर विद्युत ऊर्जा $U_i = \frac{Kq_1q_2}{r_{12}}$ क्षेत्र की उपस्थिति में स्थिर विद्युत ऊर्जा $U_f = \frac{Kq_1q_2}{r_{12}} + q_1V(r_1) + q_2V(r_2)$ $\Delta U = U_f - U_i = q_1V(r_1) + q_2V(r_2)$ $\Delta U = \frac{5 \times 10^{-6} \times 3 \times 10^5}{3 \times 10^{-2}} - \frac{1 \times 10^{-6} \times 3 \times 10^5}{3 \times 10^{-2}}$ $= 40 \text{ J}$ ii) 1) $C = \frac{Q}{V} = \frac{80}{16} = 5 \mu F$ 2) $C' = KC$ $= 3 \times 5 \mu F = 15 \mu F$ $V' = \frac{Q}{C'} = \frac{80 \mu C}{15 \mu F} = 5.33 V$ 3) नहीं, निकाय की धारिता इसकी ज्यामिती पर निर्भर करती है अथवा</p> <p>b)</p> <table border="1"> <tr> <td>i) विद्युत क्षेत्रों के परिणाम की तुलना</td> <td>2</td> </tr> <tr> <td>ii) आवेश पर किये गये कार्य का परिकलन</td> <td>3</td> </tr> </table> <p>A के लिए कुल आवेश = B के लिए कुल आवेश = C के लिए कुल आवेश = +4q</p>	i) निकाय की स्थिर विद्युत ऊर्जा में परिवर्तन का परिकलन	2	ii) (1) धारिता ज्ञात करना	1	(2) विभवान्तर ज्ञात करना	1	(3) उत्तर और कारण	1/2 + 1/2	i) विद्युत क्षेत्रों के परिणाम की तुलना	2	ii) आवेश पर किये गये कार्य का परिकलन	3	<p>1/2</p> <p>1/2</p> <p>1/2</p> <p>1/2</p> <p>1/2</p> <p>1</p> <p>1/2</p> <p>1/2</p> <p>1</p>	
i) निकाय की स्थिर विद्युत ऊर्जा में परिवर्तन का परिकलन	2														
ii) (1) धारिता ज्ञात करना	1														
(2) विभवान्तर ज्ञात करना	1														
(3) उत्तर और कारण	1/2 + 1/2														
i) विद्युत क्षेत्रों के परिणाम की तुलना	2														
ii) आवेश पर किये गये कार्य का परिकलन	3														

	<p>क्योंकि, $E = \frac{kQ}{r^2}$</p> <p>चूँकि $Q = 4q$ तथा $r = 3R$</p> $E = \frac{k(4q)}{9R^2} = \frac{4kq}{9R^2}$ <p>$\therefore E_A = E_B = E_C$</p> <p>ii) $V_c = \left[\frac{k \times 6 \times 10^{-6}}{5 \times 10^{-2}} - \frac{k \times 6 \times 10^{-6}}{5 \times 10^{-2}} \right]$</p> $= 0$ $V_A = \left[\frac{k \times 6 \times 10^{-6}}{15 \times 10^{-2}} - \frac{k \times 6 \times 10^{-6}}{5 \times 10^{-2}} \right]$ $= \frac{k \times 6 \times 10^{-6}}{10^{-2}} \left[\frac{1-3}{15} \right]$ $= -\frac{9 \times 10^9 \times 6 \times 10^{-6} \times 2}{15 \times 10^{-2}}$ $= -7.2 \times 10^5 \text{ V}$ $W = q[V_A - V_c]$ $= 5 \times 10^{-6} [-7.2 \times 10^5 - 0]$ $W = -3.6 \text{ J}$	<p>$\frac{1}{2}$</p> <p>$\frac{1}{2}$</p> <p>1</p> <p>$\frac{1}{2}$</p> <p>$\frac{1}{2}$</p> <p>$\frac{1}{2}$</p> <p>$\frac{1}{2}$</p>	5
33	<p>a)</p> <div style="border: 1px solid black; padding: 5px; margin: 5px;"> <p>i) बिन्दु P, Q और R पर चुम्बकीय क्षेत्र की दिशा ज्ञात करने के लिए $\frac{1}{2} + \frac{1}{2} + \frac{1}{2}$</p> <p>चुम्बकीय क्षेत्रों के आपेक्षिक परिमाण के बारे में निष्कर्ष $\frac{1}{2} + \frac{1}{2} + \frac{1}{2}$</p> <p>ii) पाश के चुम्बकीय आघूर्ण को दर्शाना 2</p> </div> <p>i) बिन्दु P के पास चुम्बकीय क्षेत्र तल के अभिलम्बवत अन्दर की ओर कार्य कर रहा है जिससे बल ऊपर की ओर लग रहा है।</p> <p>बिन्दु Q के पास चुम्बकीय क्षेत्र तल के अभिलम्बवत अन्दर की ओर कार्य कर रहा है जिससे बल ऊपर की ओर लग रहा है।</p> <p>बिन्दु R के पास चुम्बकीय क्षेत्र तल के अभिलम्बवत बाहर की ओर कार्य कर रहा है जिससे बल नीचे की ओर लग रहा है।</p> <p>चुम्बकीय क्षेत्र के आपेक्षिक परिणाम</p> <p>क्योंकि $B \propto \frac{1}{r}$</p>	<p>$\frac{1}{2}$</p> <p>$\frac{1}{2}$</p> <p>$\frac{1}{2}$</p>	

	<p>अतः P बिन्दु के पास B का परिमाण कम है । Q बिन्दु के पास P बिन्दु के सापेक्ष B का परिमाण कम है । R बिन्दु के पास P बिन्दु के सापेक्ष B का परिमाण अधिक है । ($B_Q < B_P < B_R$)</p> <p>ii) यदि वृत्ताकार पाश की त्रिज्या r है और पाश में धारा I है तब</p> $B = \frac{\mu_0 I}{2r} \text{ or } I = \frac{2Br}{\mu_0}$ $A = \pi r^2 \quad r = \sqrt{\frac{A}{\pi}}$ $M = IA$ $= \frac{2Br}{\mu_0} A$ $= \frac{2BA}{\mu_0} \sqrt{\frac{A}{\pi}}$ <p style="text-align: center;">अथवा</p> <p>b)</p> <div style="border: 1px solid black; padding: 10px; margin: 10px 0;"> <p>i) बल आघूर्ण का व्यंजक व्युत्पन्न करना 3</p> <p>ii) 1) त्रिज्या में परिवर्तन को ज्ञात करना 1</p> <p>2) परिक्रमण के आवर्तकाल में परिवर्तन को ज्ञात करना 1</p> </div> <p>(i)</p> <div style="text-align: center;">  </div> <p>आयताकार कुंडली जिनकी भुजा a और b है , दोनों भुजा पर लगने वाले बल \vec{F}_1 और \vec{F}_2 है ।</p>	<p>$\frac{1}{2}$</p> <p>$\frac{1}{2}$</p> <p>$\frac{1}{2}$</p> <p>$\frac{1}{2}$</p> <p>$\frac{1}{2}$</p> <p>$\frac{1}{2}$</p> <p>$\frac{1}{2}$</p> <p>$\frac{1}{2}$</p> <p>$\frac{1}{2}$</p> <p>$\frac{1}{2}$</p> <p>$\frac{1}{2}$</p>	
--	---	---	--

	<p> $\vec{F}_1 = \vec{F}_2 = I b B$ (b = भुजा की लंबाई) लगने वाले बलों से बलयुग्म बनता है पाश पर बल आघूर्ण का परिणाम है – $\tau = F_1 \frac{a}{2} \sin \theta + F_2 \frac{a}{2} \sin \theta$ $= I a b B \sin \theta$ $= I A B \sin \theta$ $\vec{\tau} = I \vec{A} \times \vec{B}$ </p> <p>वैकल्पिक</p>  <p> यदि धारा रहित कुंडली का तल चुम्बकीय क्षेत्र के साथ α कोण बनाता है $\vec{F}_{DA} = -\vec{F}_{BC}$ (एक दूसरे को निर्गत करते हैं) भुजा BC पर बल पृष्ठ के नीचे तल पर है $F_{DC} = I b B$. भुजा DA पर बल पृष्ठ के ऊपर तल पर है $F_{AB} = I b B$ दोनों ही बल बलयुग्म बनाते हैं और कुंडली पर लगने वाला बल आघूर्ण है $\tau = \text{कोई बल} \times \text{दो बलों के बीच लम्बवत् दूरी}$ $\tau = I b B \times a \cos \alpha$ $= I a b B \cos \alpha$ $\tau = I A B \cos \alpha$ Let \hat{n} = माना में = कुंडली के तल पर बाहर की ओर $\theta + \alpha = 90^\circ$ $\alpha = 90^\circ - \theta$ </p>	<p>1</p> <p>1/2</p> <p>1/2</p> <p>1/2</p> <p>1/2</p> <p>1/2</p> <p>1/2</p>	
--	---	--	--

$\tau = IAB \cos(90 - \theta)$ $= IAB \sin \theta$ $\vec{\tau} = I\vec{A} \times \vec{B}$	1/2	
ii) 1) $r = \frac{mv}{qB} = \frac{\sqrt{2mK}}{qB}$ $r \propto \sqrt{K}$ $\frac{r'}{r} = \frac{\sqrt{K/2}}{\sqrt{K}} = \frac{1}{\sqrt{2}}$ $r' = \frac{r}{\sqrt{2}}$	1/2	
2) $T = \frac{2\pi m}{qB}$	1/2	
आवर्तकाल गतिज्ञ ऊर्जा पर निर्भर नहीं करता है \therefore आवर्तकाल नहीं बदलेगा	1/2	5